

50+ SSC GD Constable Reasoning Questions (Hindi PDF)

SSC GD Constable Reasoning Questions (Hindi)

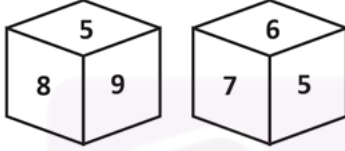
1. उस संख्या का चयन करें जो निम्नलिखित श्रृंखला में प्रश्न चिह्न (?) को प्रतिस्थापित कर सकती है।

9, 14, 34, 114, ?, 1714

- A. 524
- B. 914
- C. 654
- D. 434

Ans. D

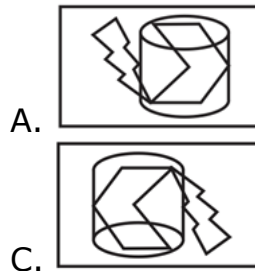
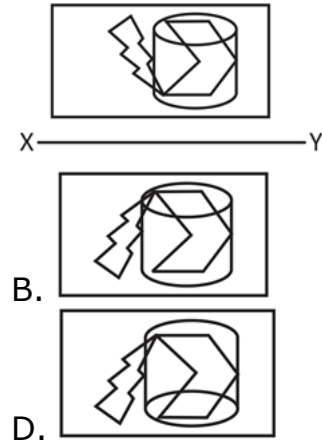
2. संख्या 4, 5, 6, 7, 8 और 9 से चिह्नित एक ही पासे की दो अलग-अलग स्थितियों को दिखाया गया है। उस संख्या का चयन करें जो संख्या '9' वाले फलक के विपरीत फलक पर होगी।



- A. 8
- B. 6
- C. 7
- D. 4

Ans. C

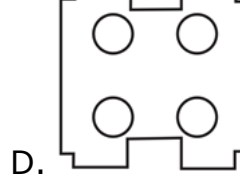
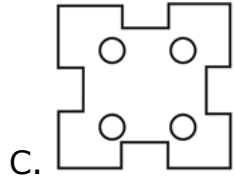
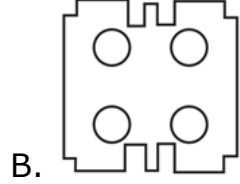
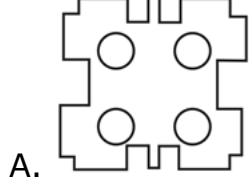
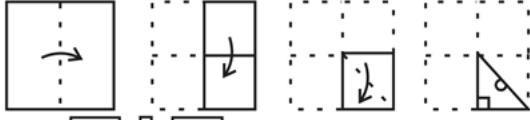
3. जब दर्पण को XY पर रखा जाता है, तो दिए गए विकल्पों में से कौन सा विकल्प दी गई आकृति की सटीक दर्पण छवि है?



Ans. D



4. कागज के एक टुकड़े को मोड़ने का क्रम और मोड़े गए कागज को किस प्रकार काटा गया है, इसे निम्नलिखित आकृतियों में दिखाया गया है। अनफोल्ड होने पर यह पेपर कैसा दिखेगा?



Ans. C

5. एक निश्चित कोड भाषा में, 'LECTURE' को 'MGFXZZL' और 'TEACHER' को 'UGDGMKY' लिखा जाता है। उस भाषा में 'Student' कैसे लिखा जाएगा?

- A. TVXJHTA
- B. TVWHJTA
- C. TVXHJTA
- D. TVWJHTA

Ans. C

6. छह मित्र रवि, काव्या, महिमा, गीता, मोहन और नेहा, एक सीधी पंक्ति में बैठे हैं, सभी उत्तर की ओर उन्मुख हैं। काव्या किसी भी छोर पर नहीं बैठी है। नेहा, रवि और मोहन के बीच बैठी है। मोहन, गीता के ठीक दायें बैठा है। रवि और काव्या के बीच तीन मित्र बैठे हैं। काव्या महिमा के ठीक दायें बैठी है।

बाएं छोर से पांचवें स्थान पर कौन बैठा है?

- A. गीता
- B. नेहा
- C. काव्या
- D. मोहन

Ans. B



7. दिए गए पैटर्न का ध्यानपूर्वक अध्ययन करें और उस संख्या का चयन करें जो उसमें प्रश्न चिह्न (?) को प्रतिस्थापित कर सके।

7	343	3
5	?	4
2	256	8

- A. 225
- B. 250
- C. 525
- D. 625

Ans. D

8. एक निश्चित कोड भाषा में, REMAIN को 92214261813 के रूप में कोडित किया जाता है। उस भाषा में MACHINE को कैसे कोडित किया जाएगा?

- A. 131389145
- B. 14262419181322
- C. 22131819242614
- D. 514981313

Ans. B

9. 'कपड़ा' 'कपास' से उसी प्रकार संबंधित है जैसे 'आटा' '_____ ' से संबंधित है।

- A. खाना
- B. चपाती
- C. गेहूं
- D. टाइलें

Ans. C

10. दिए गए कथनों और निष्कर्षों को ध्यानपूर्वक पढ़ें। यह मानते हुए कि कथनों में दी गई जानकारी सत्य है, भले ही यह सामान्य रूप से ज्ञात तथ्यों से भिन्न प्रतीत होती हो, तय करें कि दिए गए निष्कर्षों में से कौन सा कथनों का तार्किक रूप से अनुसरण करता है।

कथन:



सभी काइट प्लेन हैं।

सभी प्लेन पेपर हैं।

निष्कर्ष:

I. सभी काइट पेपर हैं.

II. कोई पेपर प्लेन नहीं है.

A. न तो निष्कर्ष I न ही II अनुसरण करता है

B. दोनों निष्कर्ष I और II अनुसरण करते हैं

C. केवल निष्कर्ष II अनुसरण करता है

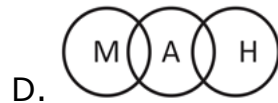
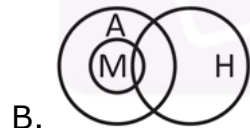
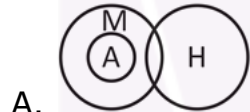
D. केवल निष्कर्ष I अनुसरण करता है

Ans. D

11. उस वेन आरेख का चयन करें जो निम्नलिखित वर्गों के बीच संबंध का सबसे अच्छा प्रतिनिधित्व करता है।

मानव, नर, पशु

(H: मानव; M: पुरुष; A: पशु)



Ans. C

12. अक्षरों के उस समूह का चयन करें, जो दी गई अक्षर श्रृंखला के रिक्त स्थान में क्रमिक रूप से रखने पर श्रृंखला को पूरा करेगा।

P E _ _ L E P _ _ P L E _ _ O P _ _

A. OPEOPLEE

B. OPOEPELE

C. OPEOPELE



D. OPOEEPLE

Ans. C

13. दिए गए विकल्पों में से उस संख्या का चयन करें जो निम्नलिखित श्रृंखला में प्रश्न चिह्न (?) को प्रतिस्थापित कर सकती है।

38, 42, 58, 94, ?, 258

A. 164

B. 108

C. 152

D. 158

Ans. D

14. अजय और चारुल भाई-बहन हैं। मनोज और दर्शन कृपाल और सोना के पुत्र हैं। सोना चारुल की मां स्वप्निल की सास हैं। नेहा, नीति और नकुल मनोज की बेटियाँ हैं और अजय के इकलौते चचेरे भाई हैं। दर्शन के कितने बच्चे हैं?

A. 4

B. 1

C. 3

D. 2

Ans. D

15. चार वर्ण-समूह दिए गए हैं, जिनमें से तीन किसी प्रकार से एक जैसे हैं और एक भिन्न है। उस अक्षर-समूह का चयन करें जो भिन्न है।

A. ODS

B. AHI

C. GNU

D. DOU

Ans. D

16. दिए गए संयोजन की सही दर्पण छवि का चयन करें जब दर्पण को PQ पर दिखाया गया है।

Q Z 9 J F N P
|
Q

A. M 1 J 9 Σ 0

B. M 7 L e Σ 0



- C. 111 0 2 0
D. 111 6 2 0

Ans. B

17. दिए गए विकल्पों में से उस संख्या का चयन करें जो निम्नलिखित श्रृंखला में प्रश्न चिह्न (?) को प्रतिस्थापित कर सकती है।

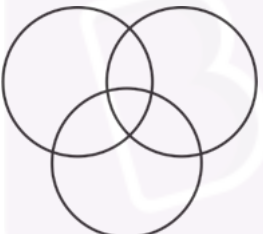

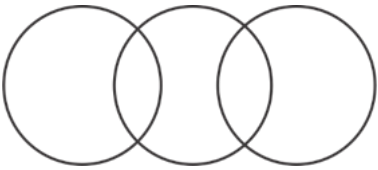
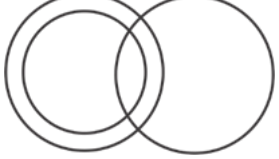
17, 18, 26, 53, 117, ?

- A. 302
B. 242
C. 336
D. 232

Ans. B

18. उस वेन आरेख का चयन करें जो निम्नलिखित वर्गों के बीच संबंध का सबसे अच्छा प्रतिनिधित्व करता है।

यात्रियों, उड़ान, ट्रेन

- A. 
- B. 
- C. 
- D. 

Ans. C



19. एक निश्चित कोड भाषा में, 'CHAINED' को 'EJYGPCF' लिखा जाता है। उस भाषा में 'MEADOW' कैसे लिखा जाएगा?

- A. PCYFMY
- B. OCYFNY
- C. OCYFMY
- D. PCYFQY

Ans. C

20. दिए गए पैटर्न का ध्यानपूर्वक अध्ययन करें और उस संख्या का चयन करें जो उसमें प्रश्न चिह्न (?) को प्रतिस्थापित कर सके।

9 18 ?

18 32 79

27 58 46

- A. 22
- B. 21
- C. 26
- D. 25

Ans. D

21. एक निश्चित कोड भाषा में, 'GREW' को '209224' के रूप में कोडित किया जाता है। उस भाषा में 'TYPE' को कैसे कोडित किया जाएगा?

- A. 721122
- B. 721162
- C. 202511
- D. 511237

Ans. A

22. दिए गए कथनों और निष्कर्षों को ध्यानपूर्वक पढ़ें। यह मानते हुए कि कथनों में दी गई जानकारी सत्य है, भले ही यह सामान्य रूप से ज्ञात तथ्यों से भिन्न प्रतीत होती हो, तय करें कि दिए गए निष्कर्षों में से कौन सा कथनों का तार्किक रूप से अनुसरण करता है।

कथन:

सभी लड़कियां अभिनेता हैं।

सभी अभिनेता गायक हैं

निष्कर्ष:

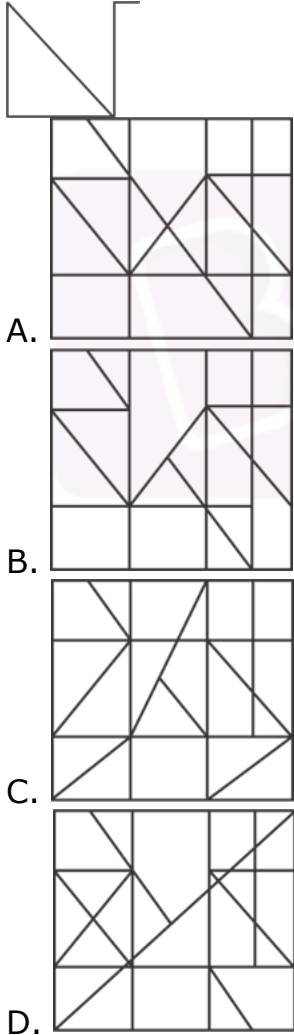
1. कुछ लड़कियां गायिका नहीं हैं।



2. कोई अभिनेता लड़की नहीं है।
 3. सभी लड़कियाँ गायिका हैं
- A. दोनों निष्कर्ष 1 और 3 अनुसरण करते हैं
 B. केवल निष्कर्ष 3 अनुसरण करता है
 C. केवल निष्कर्ष 1 अनुसरण करता है
 D. केवल निष्कर्ष 2 अनुसरण करता है

Ans. B

23. उस विकल्प का चयन करें जिसमें दी गई आकृति सन्निहित है (रोटेशन की अनुमति नहीं है)।



Ans. A



24. अक्षरों के उस संयोजन का चयन करें जो दी गई श्रृंखला के रिक्त स्थान में क्रम से रखने पर श्रृंखला को पूरा करेगा।

Z _ K F _ O K G Z _ K _ Z O _ I

- A. O Z O H K
- B. O Z K H K
- C. O Z O H Z
- D. K Z O H K

Ans. A

25. दिए गए विकल्पों में से उस संख्या का चयन करें जो निम्नलिखित श्रृंखला में प्रश्न चिह्न (?) को प्रतिस्थापित कर सकती है।

123, 98, 82, 73, 69, ?

- A. 49
- B. 68
- C. 52
- D. 57

Ans. B

26. P, Q, R, S, T और U एक बेंच पर बैठे हैं। Q दायें छोर पर है। R, S के ठीक दायें बैठा है। U, T के ठीक बायें बैठा है, और T, Q के ठीक बायें बैठा है। P, S के ठीक बायें बैठा है। बायें छोर पर कौन बैठा है?

- A. U
- B. T
- C. R
- D. P

Ans. D

27. आठ मित्र, A, B, C, D, E, F, G और H, एक गोल मेज के चारों ओर समान दूरी पर मेज के केंद्र की ओर मुख करके बैठे हैं। D, F और H के बीच में बैठा है। A, B और G के बीच नहीं बैठा है। C, A के दायें से तीसरे स्थान पर बैठा है। E, D के बायें से दूसरे स्थान पर बैठा है। A के विपरीत कौन बैठा है?

- A. E
- B. F
- C. H
- D. D

Ans. A



28. उस सही विकल्प का चयन करें जो दिए गए शब्दों की व्यवस्था को उस क्रम में इंगित करता है जिस क्रम में वे अंग्रेजी शब्दकोश में दिखाई देते हैं।

- 1) Hostile
 - 2) Hostel
 - 3) Hospital
 - 4) House
 - 5) Hopeless
- A. 5, 3, 1, 2, 4
B. 3, 5, 2, 1, 4
C. 5, 3, 2, 1, 4
D. 4, 3, 2, 1, 5

Ans. C

29. उस विकल्प का चयन करें जो तीसरी संख्या से उसी प्रकार संबंधित है जैसे दूसरी संख्या पहली संख्या से संबंधित है।

- 70 : 8 :: 87 : ?
- A. 8
 - B. 9
 - C. 6
 - D. 7

Ans. B

30. एक निश्चित कूट भाषा में, 'SOBER' को '64' के रूप में कूटित किया जाता है और 'NOSTALGIA' को '107' के रूप में कूटबद्ध किया जाता है। उस भाषा में 'REPAIR' को किस प्रकार कोडित किया जाएगा?

- A. 83
- B. 67
- C. 73
- D. 80

Ans. C

31. अक्षरों के उस संयोजन का चयन करें जो दी गई श्रंखला के रिक्त स्थान में क्रमिक रूप से रखने पर श्रंखला को पूरा करेगा।

- L_PO_LO_OK_OP_KL_POK
- A. O, K, P, L, O, O
 - B. O, P, O, K, O, L



- C. O, P, K, O, L, O
D. O, O, P, K, L, O

Ans. A

32. दिए गए विकल्पों में से उस संख्या का चयन करें जो निम्नलिखित श्रृंखला में प्रश्न चिह्न (?) को प्रतिस्थापित कर सकती है।

14, 16, 22, 34, 54, 84, ?

- A. 126
B. 148
C. 121
D. 112

Ans. A

33. जब दर्पण को दाहिनी ओर रखा जाता है तो दिए गए संयोजन की सही दर्पण छवि का चयन करें।

f h d B 3 1

- A. f h d B 3 1
B. f h d B 3 1
C. f h d B 3 1
D. f h d B 3 1

Ans. D

34. दिए गए कथनों और निष्कर्षों को ध्यानपूर्वक पढ़ें। यह मानते हुए कि कथनों में दी गई जानकारी सत्य है, भले ही यह सामान्य रूप से ज्ञात तथ्यों से भिन्न प्रतीत होती हो, तय करें कि दिए गए निष्कर्षों में से कौन सा कथनों का तार्किक रूप से अनुसरण करता है।

कथन:

सभी अमरुद नाशपाती हैं।

कुछ कीवी नाशपाती हैं।

निष्कर्ष:

I. कुछ कीवी अमरुद हैं।

II. कुछ नाशपाती कीवी हैं।

- A. दोनों निष्कर्ष I और II अनुसरण करते हैं
B. केवल निष्कर्ष II अनुसरण करता है
C. न तो निष्कर्ष I न ही II अनुसरण करता है



D. केवल निष्कर्ष I अनुसरण करता है

Ans. B

35. छह व्यक्ति, K, L, M, N, O और P, जमीन पर एक षट्कोणीय आकार में बैठे हैं, लेकिन जरूरी नहीं कि इसी क्रम में हों। K, L या M के बगल में नहीं बैठा है। N, M या O के बगल में नहीं बैठा है। L, M का पड़ोसी है। P, M और N के बीच में है। घड़ी की दिशा में लोगों के बैठने की स्थिति का सही क्रम क्या है? दिशा?

- A. L-M-P-N-K-O
- B. L-N-O-K-M-P
- C. L-O-K-P-M-N
- D. L-M-N-P-K-O

Ans. A

36. चार वर्ण-समूह दिए गए हैं, जिनमें से तीन किसी प्रकार से एक जैसे हैं और एक भिन्न है। उस अक्षर-समूह का चयन करें जो भिन्न है।

- A. HFDZX
- B. CAYWU
- C. TRPNL
- D. OMKIG

Ans. A

37. सही विकल्प का चयन करें जो दिए गए शब्दों की व्यवस्था को उस क्रम में इंगित करता है जिसमें वे अंग्रेजी शब्दकोश में दिखाई देते हैं।

- 1) Terminus
 - 2) Therefore
 - 3) Terrace
 - 4) Thesis
 - 5) Thiamine
- A. 1, 2, 3, 4, 5
 - B. 1, 3, 2, 4, 5
 - C. 1, 2, 4, 3, 5
 - D. 1, 5, 2, 4, 3

Ans. B

38. एक परिवार में P, Q, R, S, T और U छह सदस्य हैं। P, Q का पति है। U, Q का भाई है। R, Q के इकलौते भाई का बेटा है। S, T की बहन है। P, S का पिता है। U, T से कैसे संबंधित है?



- A. कज़न
- B. भाई
- C. चाचा
- D. मामा

Ans. D

39. दिए गए विकल्पों में से उस संख्या का चयन करें जो निम्नलिखित श्रृंखला में प्रश्न चिह्न (?) को प्रतिस्थापित कर सकती है।

13, 15, 12, 17, 10, 21, 8, ?

- A. 24
- B. 22
- C. 23
- D. 25

Ans. D

40. दिए गए विकल्पों में से उस अक्षर-समूह का चयन करें जो निम्नलिखित श्रृंखला में प्रश्न चिह्न (?) को प्रतिस्थापित कर सकता है।

DQH, HUL, MZQ, SFW, ?

- A. ZMD
- B. ZNE
- C. ZLC
- D. YMC



Ans. A

41. उस विकल्प का चयन करें जिसमें दी गई आकृति सन्निकित है (रोटेशन की अनुमति नहीं है)।



- A.
- B.



- C. 
- D. 

Ans. C

42. 'तलवार' का संबंध 'हथियार' से उसी प्रकार है जैसे 'हार' का संबंध '_____ ' से है।

- A. आभूषण
B. गोल्डस्मिथ
C. महिलाएं
D. गर्दन

Ans. A

43. गणितीय चिह्नों के सही संयोजन का चयन करें जो क्रमिक रूप से (?) चिह्नों को प्रतिस्थापित कर सकता है और दिए गए समीकरण को सही बना सकता है।

72 ? 18 ? 1 1 ? 44

- A. $\times, +, =$
B. $\div, \times, =$
C. $\times, \div, =$
D. $+, -, =$

Ans. B

44. उस विकल्प का चयन करें जो तीसरे पद से उसी प्रकार संबंधित है जैसे दूसरा पद पहले पद से संबंधित है।

BUMP : NOSD :: PICK : ?

- A. GIAR
B. QJBX
C. LGDL
D. IEGR

Ans. D

45. उस विकल्प का चयन करें जो तीसरी संख्या से उसी प्रकार संबंधित है जैसे दूसरी संख्या पहली संख्या से संबंधित है।



129 : 216 :: 165 : ?

- A. 252
- B. 306
- C. 269
- D. 348

Ans. A

46. यदि 'A + B' का अर्थ 'A, B की पुत्री है', 'A × B' का अर्थ 'A, B की बहन है', और 'A = B' का अर्थ 'A, B की पत्नी है', तो व्यंजक 'C × G × U + M = R' में G, R से किस प्रकार संबंधित है?

- A. पुत्र
- B. माँ
- C. बेटी
- D. बहन

Ans. C

47. दिए गए विकल्पों में से उस संख्या का चयन करें जो निम्नलिखित श्रृंखला में प्रश्न चिह्न (?) को प्रतिस्थापित कर सकती है।

5, 16, 28, 36, 71, 90, 234, 342, ?

- A. 893
- B. 739
- C. 839
- D. 793

Ans. D

48. उस विकल्प का चयन करें जिसमें संख्याएं उसी संबंध को साझा नहीं करती हैं जो दिए गए संख्या-त्रय में संख्याओं द्वारा साझा किया गया है।

(3, 6, 18)

- A. (9, 18, 54)
- B. (7, 14, 42)
- C. (8, 16, 56)
- D. (6, 12, 36)

Ans. C



49. दिए गए विकल्पों में से अक्षर-समूह का चयन करें जो निम्नलिखित श्रृंखला में प्रश्न चिह्न (?) को प्रतिस्थापित कर सकता है।

- AS, CQ, EO, ?
A. HM
B. GN
C. GM
D. HN

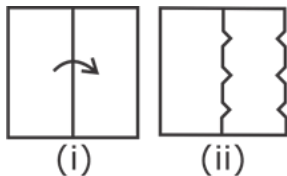
Ans. C

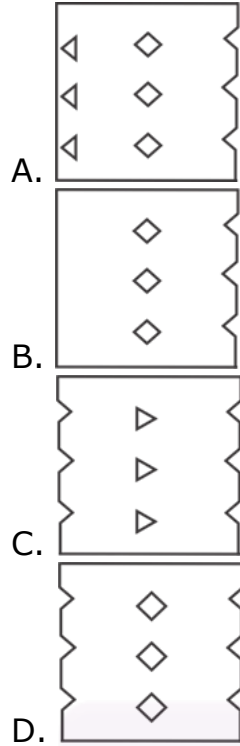
50. उस सही विकल्प का चयन करें जो दिए गए शब्दों की व्यवस्था को उस क्रम में इंगित करता है जिस क्रम में वे अंग्रेजी शब्दकोश में दिखाई देते हैं।

- 1) Restates
2) Resistance
3) Restoration
4) Resonant
5) Resection
A. 5, 2, 4, 1, 3
B. 5, 2, 1, 4, 3
C. 5, 2, 4, 3, 1
D. 5, 4, 2, 3, 1

Ans. A

51. कागज के एक टुकड़े को मोड़ने का क्रम और मोड़े गए कागज को किस प्रकार काटा गया है, इसे निम्नलिखित आकृतियों में दिखाया गया है। अनफोल्ड होने पर यह पेपर कितना दिखता है?





Ans. D



Join Our Classroom Program Now



Buy Test Series

Unlock All 650+ Mock Tests for SSC & Railway

- Unlimited Access
- All Exams covered
- Designed by Experts
- Performance Analysis