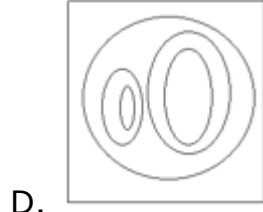
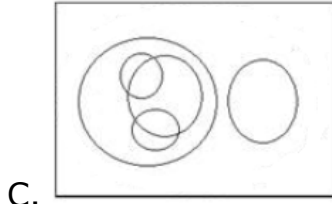
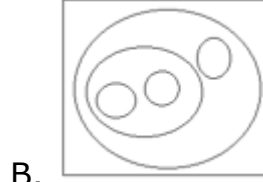
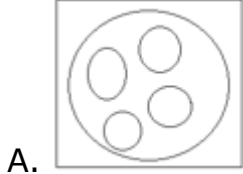


50+ Venn Diagram Questions for SSC Exams 2023 (Hindi)

SSC Venn Diagram Questions (Hindi PDF)

1. वह आरेख चुनिए जो नीचे दिए गए वर्गों के बीच के संबंध का सही निरूपण करता है।

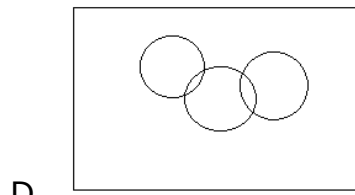
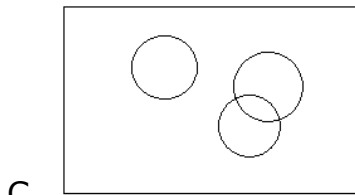
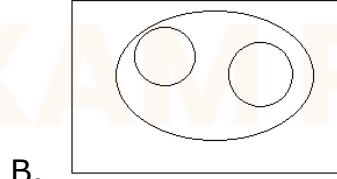
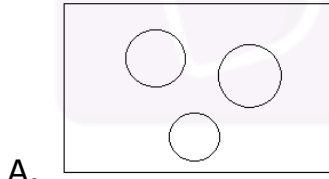
पृथ्वी, चंद्रमा, वृक्ष, पर्वत, जल



Ans. C

2. वह आरेख चुनिए जो नीचे दिए गए वर्गों के बीच के संबंध का सही निरूपण करता है।

सलाद पत्ता, तोरी, बेजिल

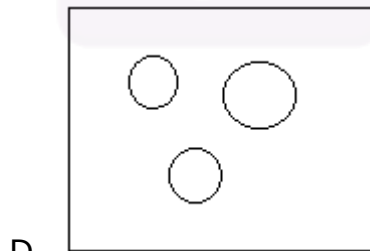
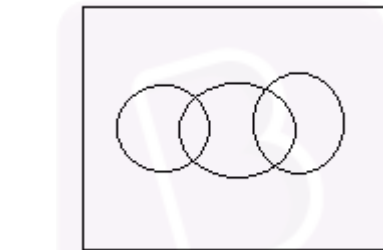
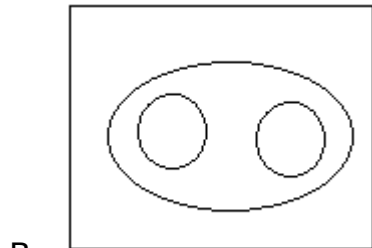
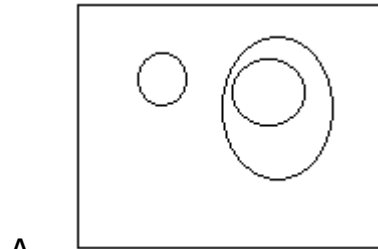


Ans. A



3. वह आरेख चुनिए जो नीचे दिए गए वर्गों के बीच के संबंध का सही निरूपण करता है।

हंस, पक्षी, शतुरमुर्ग

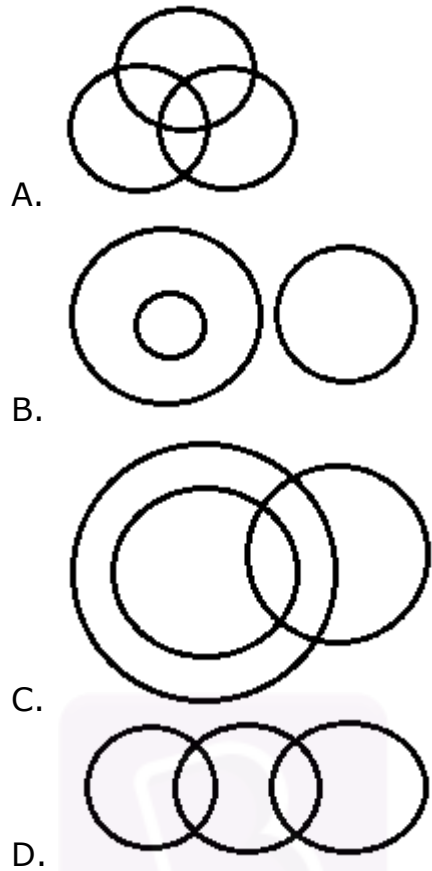


Ans. B

4. वह आरेख चुनिए जो नीचे दिए गए वर्गों के बीच के संबंध का सही निरूपण करता है।

मनुष्य, विश्वविद्यालय, अस्पताल

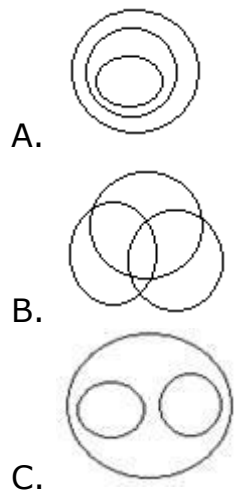




Ans. D

5. उस वेन आरेख का चयन करें जो निम्नलिखित वर्गों के बीच के संबंध को सबसे अच्छी तरह से दर्शाता है।

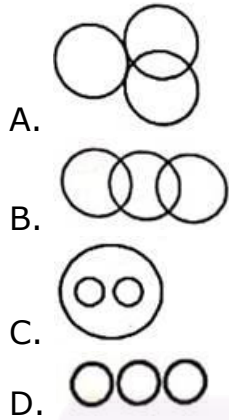
ऊटी, मनाली, हिल स्टेशन





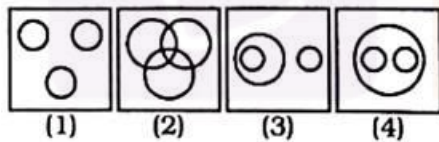
Ans. C

6. कौन सी आकृति सूर्य, चंद्रमा, अणु के बीच के संबंध को सबसे अच्छी तरह से दर्शाती है?



Ans. C

7. उस आकृति की पहचान करें जो पेड़, पौधे और घर के बीच के संबंध को सबसे अच्छी तरह से दर्शाती है?



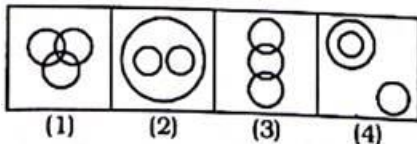
- A. 1
- B. 2
- C. 3
- D. 4

Ans. C

8. तत्वों के दिए गए सेट के लिए:

कीबोर्ड, फंक्शन कीज़, लेटर कीज़

नीचे दी गई कौन सी आकृति इन तीन तत्वों के बीच के संबंध को सबसे अच्छी तरह से दर्शाती है?



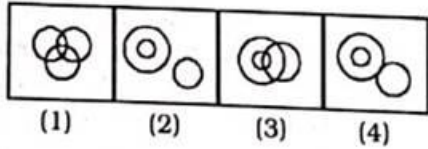
- A. 1
- B. 2



- C. 3
- D. 4

Ans. B

9. निम्न में से कौन सी आकृति लड़कों, छात्रों और एथलीटों के बीच के संबंध को सबसे अच्छी तरह से दर्शाती है?



- A. 1
- B. 2
- C. 3
- D. 4

Ans. A

10. निम्न में से कौन सी आकृति लोगों, महिलाओं और माताओं के बीच के संबंध को सबसे अच्छी तरह से दर्शाती है?

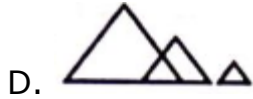
- A.
- B.
- C.
- D. इनमें से कोई नहीं

Ans. B

11. निम्न में से कौन सी आकृति बाघ, शेर और जानवर के बीच के संबंध को सबसे अच्छी तरह से दर्शाती है?

- A.
- B.
- C.





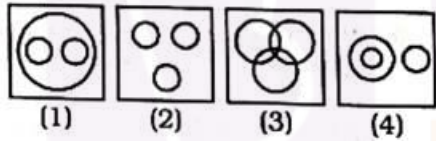
Ans. C

12. निम्न में से कौन सी आकृति टेबल, कुर्सी और फर्नीचर के बीच के संबंध को दर्शाती है?



Ans. C

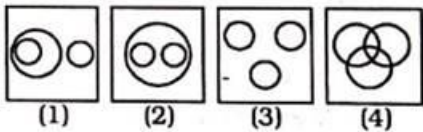
13. इंगित करें कि कौन सी आकृति पक्षी, कौवे, बाज के बीच के संबंध को सबसे अच्छी तरह से दर्शाती है?



- A. 1
- B. 2
- C. 3
- D. 4

Ans. A

14. इंगित करें कि कौन सी आकृति मेजों, कुर्सियों और फर्नीचर के बीच के संबंध को सबसे अच्छी तरह से दर्शाती है?

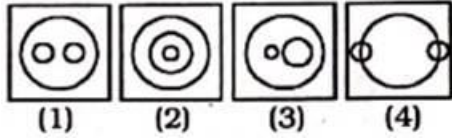


- A. 1
- B. 2
- C. 3
- D. 4

Ans. B



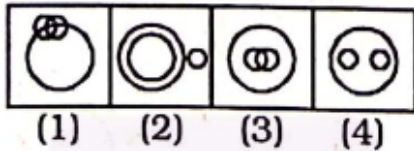
15. निम्न में से कौन सी आकृति राष्ट्र, राज्यों और जिलों के बीच के संबंध को सबसे अच्छी तरह से दर्शाती है?



- A. 1
- B. 2
- C. 3
- D. 4

Ans. B

16. निम्न में से कौन सी आकृति घोड़े, तोते और पक्षी के बीच के संबंध को सबसे अच्छी तरह से दर्शाती है?

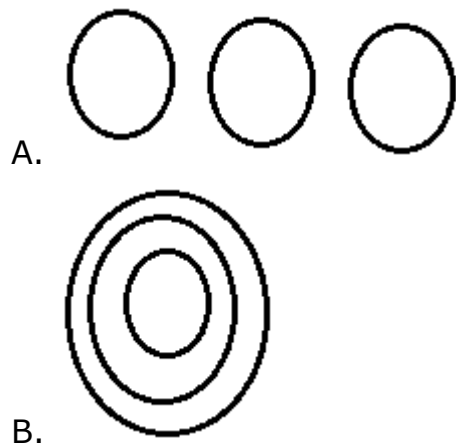


- A. 1
- B. 2
- C. 3
- D. 4

Ans. B

17. उस वेन आरेख का चयन करें जो निम्नलिखित तीन वर्गों के बीच के संबंध को सबसे अच्छा दर्शाता है।

jpg, png, image



A.

B.





C.



D.

Ans. D

18. उस आरेख का चयन करें जो दी गई श्रेणियों के बीच सबसे अच्छे संबंध को दर्शाता है।

हाइड्रोजन, ऑक्सीजन, पानी



A.



B.



C.



D.

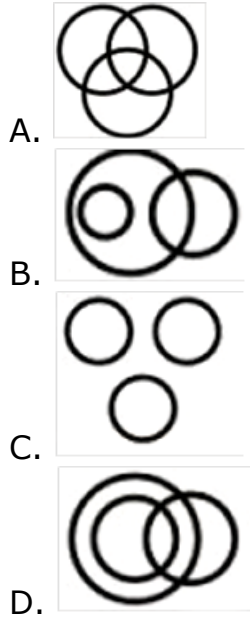
Ans. B

19. वेन आरेख को पहचानें जो दिए गए वर्गों के बीच संबंधों को सबसे अच्छे ढंग से दर्शाता है।
पेंटर, वकील, गायक



Join Our Classroom Program Now

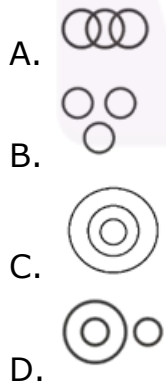




Ans. C

20. उस वेन आरेख की पहचान करें जो दिए गए वर्गों के बीच संबंधों का सबसे अच्छा प्रतिनिधित्व करता है।

ऐप्लिकेशन (ऐप), इलेक्ट्रॉनिकल आइटम, मोबाइल फोन

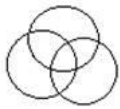
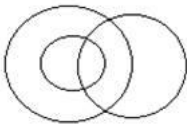
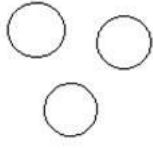
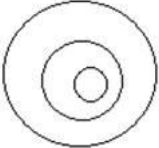


Ans. C

21. उस वेन आरेख का चयन करें जो निम्नलिखित वर्गों के बीच संबंधों का सबसे अच्छा प्रतिनिधित्व करता है।

प्रोफेसर, वैज्ञानिक, सामाजिक कार्यकर्ता



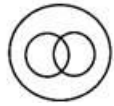



- A. 
- B. 
- C. 
- D. 

Ans. A

22. उस वेन आरेख की पहचान करें जो दिए गए वर्गों के बीच संबंधों का सबसे अच्छा प्रतिनिधित्व करता है।

चमड़ा, जूते, बेल्ट

- A. 
- B. 
- C. 
- D. 

Ans. A



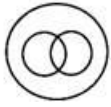

23. उस वेन आरेख की पहचान करें जो दिए गए वर्गों के बीच संबंधों का सबसे अच्छा प्रतिनिधित्व करता है।

संसद के चुने हुए सदस्य, राज्य सभा सदस्य, भारतीय नागरिक



Join Our Classroom Program Now



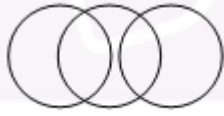
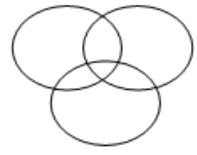


- A. 
- B. 
- C. 
- D. 

Ans. C

24. उस वेन आरेख का चयन कीजिए जो निम्नलिखित वर्गों के बीच संबंधों को सर्वोत्तम तरीके से दर्शाता है।

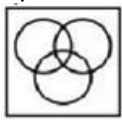
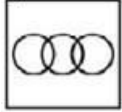
चिकित्सक, पिता, पुत्र

- A. 
- B. 
- C. 
- D. 

Ans. D

25. उस आरेख की पहचान करें जो दिए गए वर्गों के बीच संबंध का प्रतिनिधित्व करता है।


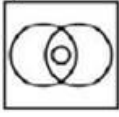
इंजन, मोटरसाइकिल, कार

- A. 
- B. 



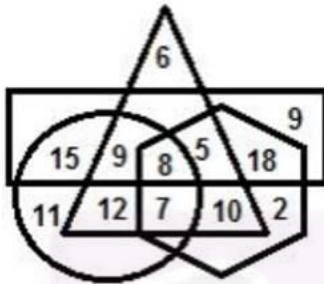
Join Our Classroom Program Now



- C. 
- D. 

Ans. C

26. निम्नलिखित वेन आरेख में, षट्भुज 'कप्तानों' के लिए है, त्रिभुज 'लड़कियों' के लिए है, आयत 'टॉपर्स' के लिए है, और वृत्त 'सामाजिक कार्यकर्ताओं' के लिए है। दी गई संख्या उस विशेष श्रेणी में व्यक्तियों की संख्या को दर्शाती है।



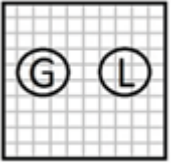
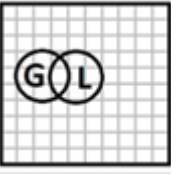
कितनी लड़कियां टॉपर और कैप्टन भी हैं?

- A. 13
B. 15
C. 16
D. 17

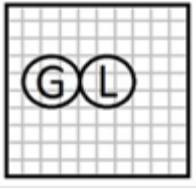
Ans. A

27.

एक गाँव में कुछ सुनार साक्षर है | कौन - सा आरेख साक्षर सुनारों को दर्शाता है ?

- A. 
- B. 





- C.
- D. None of these

Ans. B

28. वह आरेख चुनिए जो नीचे दिए गए वर्गों के बीच के संबंध का सही निरूपण करता है।

एप्पल, सैमसंग और रेड्मी

- A.
- B.
- C.
- D.

Ans. C

29. Which is the most suitable Venn-diagram among the following, which represents interrelationship among Antisocial elements, Pick pockets and Black mailers?


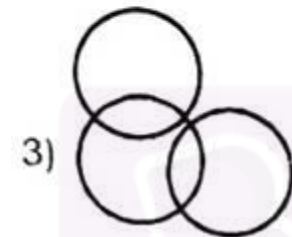
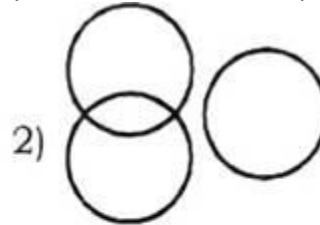
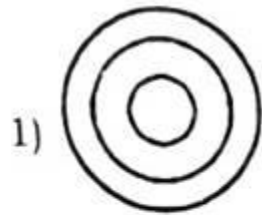
- 1)
- 2)
- 3)
- 4)



- A. 1
- B. 2
- C. 3
- D. 4

Ans. C

30. Which one of the following four logical diagrams represents correctly the relationship between: Musicians, Instrumentalists, Violinists?

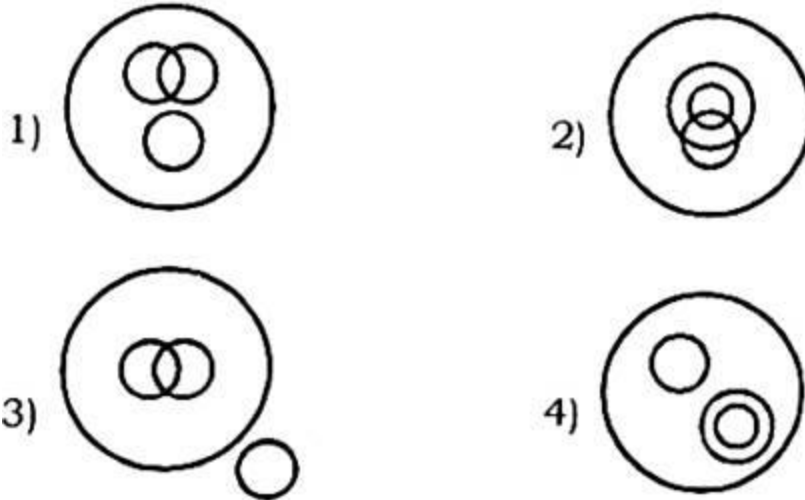


- A. 1
- B. 2
- C. 3
- D. 4

Ans. A

31. In a dinner party both fish and meat were served. Some took only fish and some only meat. There were some vegetarians who did not accept either. The rest accepted both fish and meat. Which of the following Venn-diagram correctly reflects this situation?





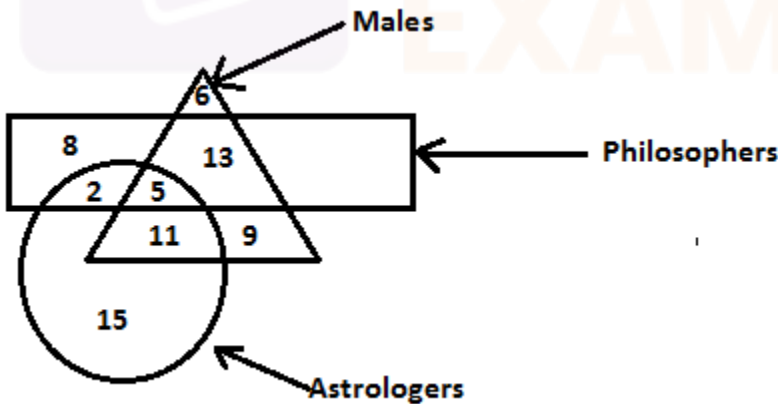
- A. 1
- B. 2
- C. 3
- D. 4

Ans. A

32.

|||Common|||

निर्देश- निम्नलिखित चित्र में, वृत्त 'ज्योतिषी' को दर्शाता है, त्रिकोण, पुरुष को दर्शाता है और आयत 'दार्शनिकों' को दर्शाता है। विभिन्न खंडों में संख्या व्यक्तियों की संख्या को दर्शाती है।



|||End|||

कितने पुरुष ज्योतिषी और दार्शनिक दोनों हैं? A. 17

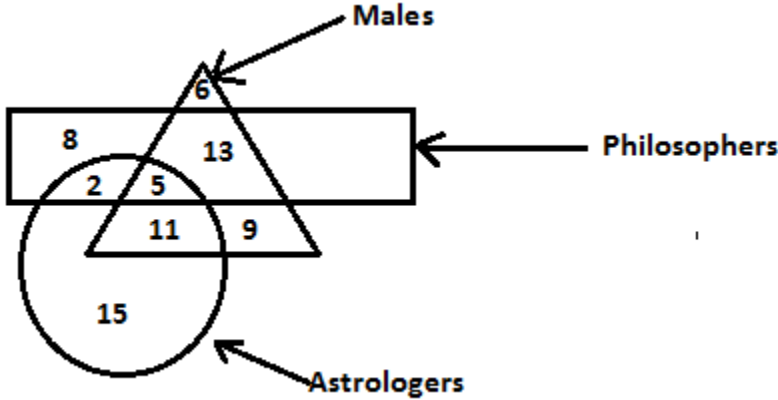
- B. 5
- C. 11
- D. 2

Ans. B



33.

निर्देश- निम्नलिखित चित्र में, वृत्त 'ज्योतिषी' को दर्शाता है, त्रिकोण, पुरुष को दर्शाता है और आयत 'दार्शनिकों' को दर्शाता है। विभिन्न खंडों में संख्या व्यक्तियों की संख्या को दर्शाती है।



कितने पुरुष हैं जो दार्शनिक या ज्योतिषी हैं लेकिन दोनों नहीं हैं?

- A. 28
- B. 22
- C. 24
- D. 38

Ans. C

34. यदि PLACE को 57361 के रूप में कूटबद्ध किया गया है और LOVE को 7241 के रूप में कूटबद्ध किया गया है, तो LEAVE को कैसे कूटबद्ध किया जाएगा?

- A. 71341
- B. 74131
- C. 17431
- D. 71143

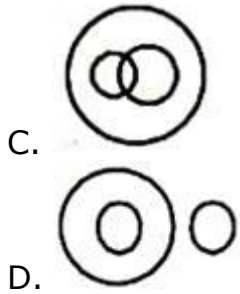
Ans. A

35. इंगित करें कि कौन सी आकृति तीनों के बीच के संबंध का सबसे अच्छा प्रतिनिधित्व करेगी।

फलियां बीज, मटर, राजमा

- A. ○○○
- B. ○○

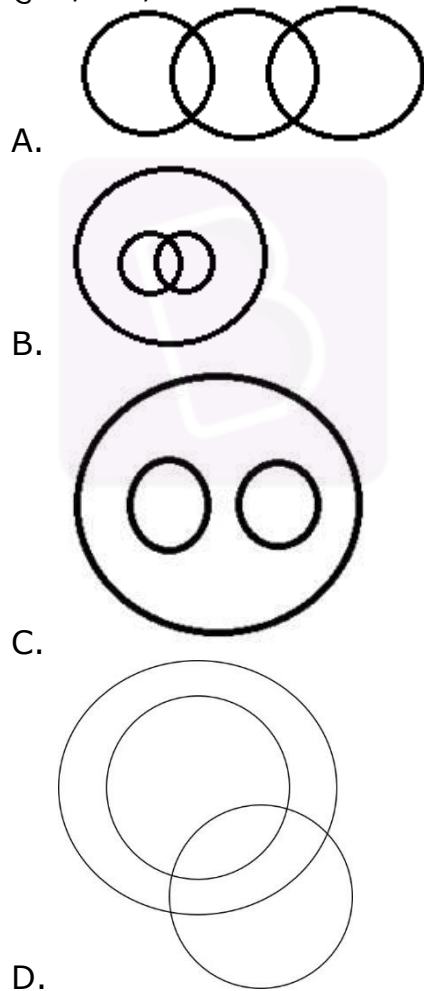




Ans. B

36. उस आरेख की पहचान करें जो दिए गए शब्दों के बीच सर्वोत्तम संबंध को दर्शाता है।

पुरुष, मंत्री, महिला



Ans. A

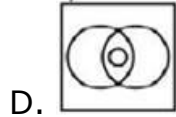
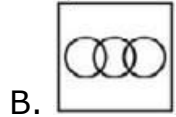
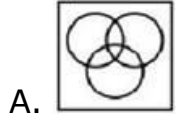
37. उस आरेख की पहचान करें जो दिए गए वर्गों के बीच संबंध का प्रतिनिधित्व करता है।



Join Our Classroom Program Now




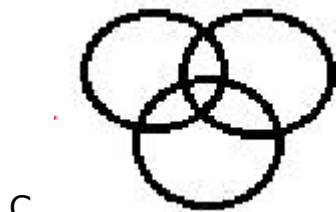
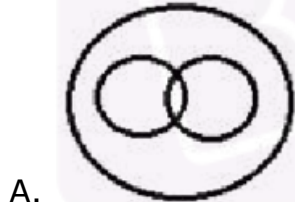
निर्देशक, अभियंता, अभिनेता



Ans. A

38. वेन आरेख का चयन करें जो निम्नलिखित वर्गों के बीच संबंध को सर्वोत्तम रूप से दर्शाता है।

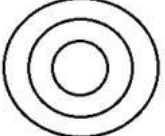
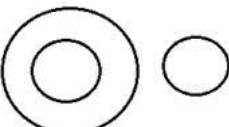
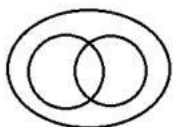
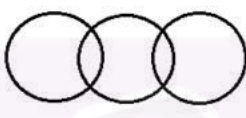
धनिया बीज, मसाले, दालचीनी



Ans. B

39. उस वेन आरेख का चयन करें जो निम्नलिखित वर्गों के बीच संबंध को सर्वोत्तम रूप से दर्शाता है।

अदरक, संशोधित तना, शलजम

- A. 
- B. 
- C. 
- D. 

Ans. B

40. निम्नलिखित वेन आरेख विभिन्न स्थानों (श्रीनगर, शिमला, गंगटोक) का दौरा करने वाले परिवारों की संख्या को दर्शाता है।




श्रीनगर, शिमला और गंगटोक के कम से कम दो स्थानों का दौरा करने वाले परिवारों की संख्या कितनी है?

- A. 15
B. 27
C. 34
D. 49

Ans. D

41. वर्गों के उस समुच्चय का चयन करें, जिसके बीच संबंध को निम्नलिखित वेन आरेख द्वारा सर्वोत्तम रूप से दर्शाया गया है।







- A. यमुना, नदियां, कावेरी
- B. लड़कियां, बुद्धिमान, लड़के
- C. शाकाहारी, महिला, बहनें
- D. स्टेशनरी, पेंसिल, स्टेपलर

Ans. B

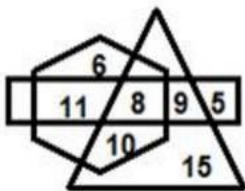
42. वेन आरेख का चयन करें जो निम्नलिखित वर्गों के बीच के संबंध को सर्वोत्तम रूप से दर्शाता है।

ब्रह्मांड, प्लूटो, सौर मंडल



Ans. C

43. निम्नलिखित वेन आरेख में, त्रिभुज 'खिलाड़ियों' का प्रतिनिधित्व करता है, षट्भुज 'भारतीयों' का प्रतिनिधित्व करता है, और आयत 'लड़कों' का प्रतिनिधित्व करता है। दी गई संख्याएं उस विशेष श्रेणी में व्यक्तियों की संख्या को दर्शाती हैं।



Join Our Classroom Program Now

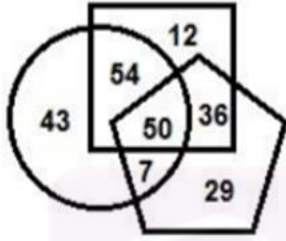


कितने भारतीय खिलाड़ी हैं लेकिन लड़के नहीं हैं?

- A. 9
- B. 10
- C. 8
- D. 11

Ans. B

44. निम्नलिखित वेन आरेख में, वर्ग 'डॉक्टर' के लिए है, वृत्त 'रक्त दाताओं' के लिए है और पेंटागन 'महिला' के लिए है। दी गई संख्याएं उस विशेष श्रेणी में व्यक्तियों की संख्या दर्शाती हैं।

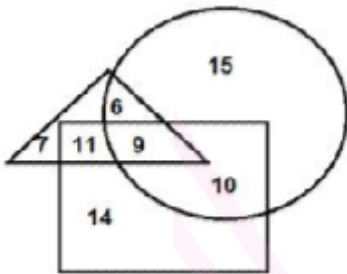


कितनी महिला डॉक्टर रक्तदान करती हैं?

- A. 57
- B. 54
- C. 36
- D. 50

Ans. D

45. दिए गए आरेख में, वृत्त 'शिक्षकों' का प्रतिनिधित्व करता है, त्रिभुज 'नर्तक' का प्रतिनिधित्व करता है और आयत 'लेखकों' का प्रतिनिधित्व करता है। दिए गए आरेख का ध्यानपूर्वक अध्ययन करें और नीचे दिए गए प्रश्न का उत्तर दें।



ऐसे शिक्षकों की संख्या कितनी है जो लेखक हैं, लेकिन नर्तक नहीं हैं?




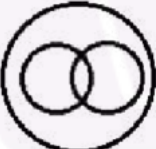


- A. 10
- B. 9
- C. 11
- D. 15

Ans. A

46. उस वेन आरेख का चयन करें जो निम्नलिखित वर्गों के बीच संबंध को सर्वोत्तम रूप से दर्शाता है।




सरीसृप, मेंढक, पशु

- A. 
- B. 
- C. 
- D. 


Ans. B

47. उस वेन आरेख का चयन करें जो निम्नलिखित वर्गों के बीच संबंध को सबसे अच्छी तरह से दर्शाता है।

हाइलाइटर, स्टेशनरी, इरेज़र

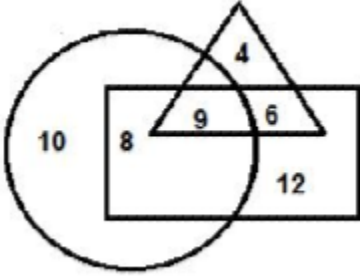
- A. 
- B. 
- C. 





Ans. B

48. दिए गए आरेख में, वृत्त 'स्नातक' का प्रतिनिधित्व करता है, त्रिभुज 'नियोजित लोगों' का प्रतिनिधित्व करता है और आयत 'ग्रामीण लोगों' का प्रतिनिधित्व करता है। आरेख का ध्यानपूर्वक अध्ययन करें और नीचे दिए गए प्रश्न का उत्तर दें।



ग्रामीण बेरोजगार स्नातकों की संख्या कितनी है?

- A. 12
- B. 8
- C. 6
- D. 9

Ans. B

49. वर्गों के उस समुच्चय का चयन करें, जिसके बीच संबंध को निम्नलिखित वेन आरेख द्वारा सर्वोत्तम रूप से दर्शाया गया है।



- A. साक्षर, लड़कियां, महिलाएं
- B. पिता, पुरुष, पुत्र
- C. चमगादड़, मनुष्य, स्तनधारी
- D. लड़के, कलाकार, भाई

Ans. B

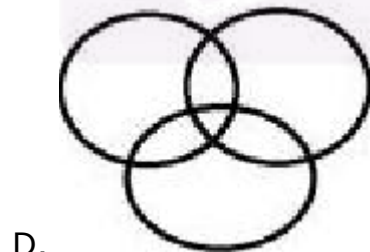
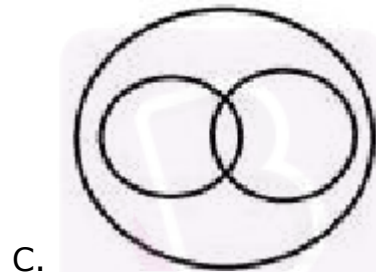
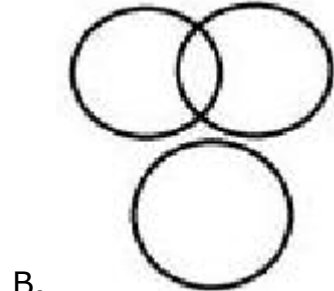
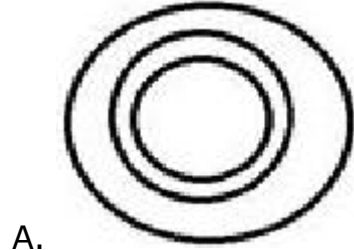
50. निम्नलिखित वर्गों के बीच संबंध को दर्शाने वाले वेन आरेख का चयन करें।



Join Our Classroom Program Now



पुरुष, गीतकार, बहिर्मुखी



D.

Ans. D

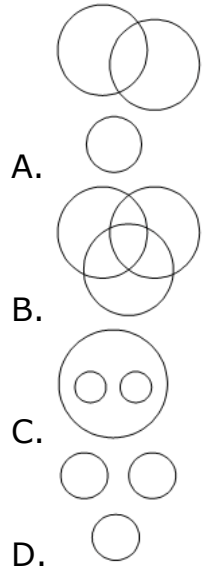
51. उस वेन आरेख का चयन करें जो निम्नलिखित वर्गों के बीच सही संबंध का प्रतिनिधित्व करता है।

डॉक्टर, विवाहित, महिलाएं



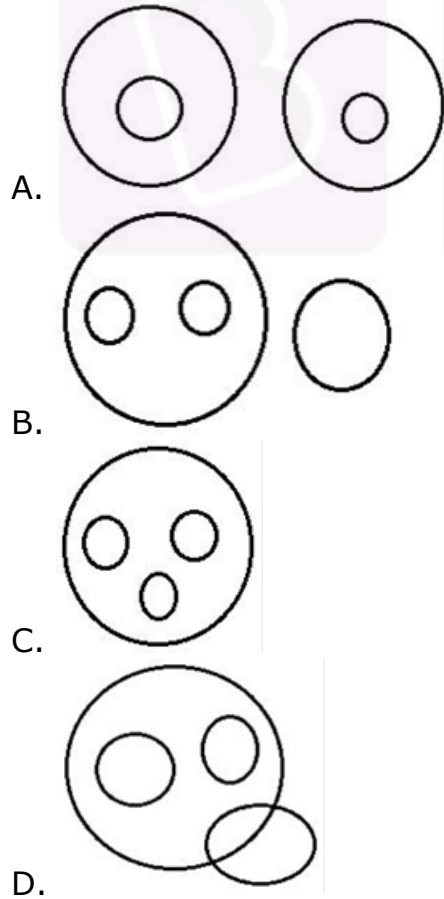
Join Our Classroom Program Now





Ans. B

52. उस वेन आरेख का चयन करें जो निम्नलिखित के बीच संबंधों का सर्वोत्तम प्रतिनिधित्व करता है।
मानव, शिक्षक, क्लर्क, चपरासी



Ans. C



Join Our Classroom Program Now



Buy Test Series

Unlock All 650+ Mock Tests for SSC & Railway

- Unlimited Access
- All Exams covered
- Designed by Experts
- Performance Analysis