

# आईबीपीएस क्लर्क 2022 मेमोरी बेस्ड पेपर (पीडीएफ हिंदी में)

**Direction:** In the given question, four words are printed in bold and are numbered A, B, C and D . Of these, the positions of two or more of these words may be incorrect and need to be exchanged to make the sentence correct. Find the words which need to be exchanged. In case the given sentence is correct, your answer is (E), i.e. 'No exchange required'.

1. If you do not **service** (A) the payment for your **light** (B) bill within two days, your **remit** (C) will be **disconnected**.(D)

- A. A-C
- B. D-B
- C. B-C
- D. A-B

2. Police officers **caught** (A) the robbers in the **stolen** (B) car, but the **suspects** (C) were too quick to be **chased**. (D)

- A. A-C
- B. D-B
- C. B-A
- D. A-D

3. Out of the five statements given below, only one is grammatically correct. Choose the correct statement as your answer.

- A. They were able to be achieving a settlement without using military force.
- B. She was an industrious and a willing worker.
- C. Silence is sometimes the most severest criticism.
- D. Students may suffer severe financial hardship as a result of the government's decision.

4. Out of the five statements given below, only one is grammatically correct. Choose the correct statement as your answer.

- A. The cutbacks is justifiable on the ground of cost.
- B. His treatment was a combination of surgery, radiation and drugs.
- C. The parent company have issued a legally-binding letter of support to the subsidiary.
- D. Music has the power to induce a meditate state in the listener.

**Direction:** In the given question, a statement has been divided into five segments, each of which is denoted by (A), (B), (C), (D) and (E). Rearrange all the segments to form a coherent statement and then find out the part that contains error in it.

5. A) her perspective



- B) car accident, Sharon changed
- C) on life and
- D) after the near-fatal
- E) decided to quit her job
- A. ADBCE
- B. DABCE
- C. ACBDE
- D. DBACE

- 6.A) motel was the couple's
- B) decent inns were booked
- C) staying at a shabby
- D) last resort after
- E) learning all the
- A. CDEAB
- B. CADEB
- C. ACEBD
- D. BECAD

**Direction:** A sentence with one blank is given, indicating that something has been omitted. Choose the word that best fits in the blank making the sentence grammatically correct and meaningful.

- 7. We used to have a small garden in the corner, \_\_\_\_\_ we used to live here.
  - A. Who
  - B. While
  - C. When
  - D. Where
- 8. He \_\_\_\_\_ at the ugly square buildings around him, and he did not like what he saw.
  - A. See
  - B. Look
  - C. Saw
  - D. Looked

**Direction:** In the following question, a sentence with four words printed in bold is given. These words are numbered as (1), (2), (3) and (4). One of these four words may either be misspelt or inappropriate in the context of the sentence. Find out the word(s) that is wrongly spelt or inappropriate and mark



the relevant option as your answer. If all the words printed in bold are correct, mark option (E), i.e. 'All are correct', as the answer.

9. The **most** (1) popular **exhibition** (2) in the museum was a **giant** (3) animatronic **dinosaur**. (4)

- A. 1
- B. 2
- C. 3
- D. 4

10. She has **invited** (1) a nifty **little** (2) gadget for undoing **stubborn** (3) nuts and **bolts**. (4)

- A. 1
- B. 2
- C. 3
- D. 4

**निर्देश:** निम्नलिखित जानकारी को ध्यानपूर्वक पढ़िए और नीचे दिए प्रश्नों के उत्तर दीजिए।

सात व्यक्ति एक वृताकार मेज पर मेज के केंद्र की ओर मुख करके बैठे हैं। A और J के बीच (या तो दाएं या बाएं से) तीन व्यक्ति बैठे हैं। B, J के बाएं दूसरे स्थान पर बैठता है। D, B के दाएं तीसरे स्थान पर बैठता है। D और F के बीच (या तो दाएं या बाएं से) एक व्यक्ति बैठता है। F, E के दाएं तीसरे स्थान पर बैठता है। C, F के निकटतम स्थान पर नहीं बैठता है।

11. B के बाएं दूसरे स्थान पर कौन बैठता है?

- A. A
- B. E
- C. D
- D. C

12. E के दाईं ओर से गिनने पर E तथा D के मध्य कितने व्यक्ति बैठे हैं?

- A. तीन से अधिक
- B. तीन
- C. एक
- D. दो

13. B के सन्दर्भ में A का स्थान क्या है?

- A. ठीक बाएं



- B. ठीक दाएं
- C. दाएं से दूसरा
- D. बाएं से तीसरा

14. F के दाएं दूसरे स्थान पर कौन बैठा है?

- A. C
- B. D
- C. E
- D. A

15. D के दाईं ओर से गिनने पर C और D के मध्य कितने व्यक्ति बैठे हैं?

- A. तीन
- B. एक
- C. कोई नहीं
- D. दो

**निर्देश:** निम्नलिखित जानकारी को ध्यानपूर्वक पढ़िए और नीचे दिए प्रश्नों के उत्तर दीजिए।

छह व्यक्ति अर्थात, A, B, C, D, E और F हैं, जिनकी ऊंचाई अलग-अलग है लेकिन जरूरी नहीं कि इसी क्रम में हो। D, A से लंबा लेकिन C से छोटा है। E केवल एक व्यक्ति से छोटा है। B, C से लंबा है, लेकिन सबसे लंबा नहीं है।

16. कितने व्यक्ति F से छोटे हैं?

- A. चार
- B. एक
- C. तीन
- D. पांच

17. C से ठीक लंबा व्यक्ति कौन है?

- A. B
- B. E
- C. F
- D. A

18. कितने व्यक्ति B से लंबे हैं?



- A. एक
- B. दो
- C. कोई नहीं
- D. तीन

**निर्देश:** निम्नलिखित जानकारी को ध्यानपूर्वक पढ़िए और नीचे दिए प्रश्नों के उत्तर दीजिए।

सात व्यक्ति अर्थात A, B, C, D, E, F, तथा G का जन्म सात अलग-अलग महीनों अर्थात जनवरी, फरवरी, अप्रैल, जून, जुलाई, सितंबर और नवंबर में हुआ है। संपूर्ण जानकारी जरूरी नहीं कि इसी क्रम में हो। B का जन्म 30 दिनों से अधिक दिन वाले महीने में हुआ था। B और E के बीच दो व्यक्तियों का जन्म हुआ था। D का जन्म E के जन्म के ठीक बाद में हुआ था। D और A के बीच तीन व्यक्तियों का जन्म हुआ था। A और C के बीच दो व्यक्तियों का जन्म हुआ था। F का जन्म G के जन्म से पहले हुआ था।

19. E के जन्म से पहले कितने व्यक्तियों का जन्म हुआ था?

- A. एक
- B. कोई नहीं
- C. दो
- D. तीन

20. G और C के बीच में कितने व्यक्तियों का जन्म हुआ था?

- A. तीन
- B. एक
- C. कोई नहीं
- D. दो

21. एक 64-लीटर द्रव में, सिरप तथा जल का अनुपात 5 : 3 है। यदि मिश्रण में 20 लीटर सिरप और 16 लीटर पानी मिलाया जाता है, तो अंतिम मिश्रण में पानी का प्रतिशत ज्ञात कीजिए।

- A. 30%
- B. 50%
- C. 40%
- D. 25%



22. धारा की विपरीत दिशा में एक नाव की चाल 9 किमी/घंटा और धारा की चाल 3 किमी/घंटा है। एक नाव धारा की दिशा में D किमी तथा धारा की विपरीत दिशा में (D - 3) किमी की दूरी 5 घंटे में तय करती है। D का मान ज्ञात कीजिए।

- A. 20
- B. 30
- C. 40
- D. 35

23. A किसी कार्य को 15 दिनों में कर सकता है और B उसी कार्य को 25 दिनों में कर सकता है। A 10 दिन कार्य करता है, इसके बाद A के साथ B भी शामिल हो जाता है। ज्ञात कीजिए, शेष कार्य कितने दिनों में समाप्त हो जाएगा?

- A.  $3\frac{1}{8}$  दिन
- B.  $4\frac{3}{8}$  दिन
- C.  $5\frac{1}{4}$  दिन
- D.  $2\frac{3}{4}$  दिन

24. A तथा B की वर्तमान आयु का अनुपात 5 : 6 है और B तथा C की औसत आयु 33 वर्ष है। यदि C, A से 11 वर्ष बड़ा है, तो 12 वर्ष बाद C की आयु ज्ञात कीजिए।

- A. 48
- B. 36
- C. 42
- D. 24

25. एक वर्ग का क्षेत्रफल 144 वर्ग मीटर है तथा एक आयत की चौड़ाई वर्ग की भुजा के बराबर है। एक आयताकार सतह की फर्श बनाने की लागत 10.5 रुपये प्रति वर्ग मीटर की दर से 2772 रुपये है। आयत की लंबाई ज्ञात कीजिए।

- A. 18 मीटर
- B. 22 मीटर
- C. 26 मीटर
- D. 28 मीटर

26. योजना A में 15% वार्षिक दर से P रुपये निवेश किए जाते हैं, और योजना B में 25% वार्षिक दर से (P+500) रुपये निवेश किए जाते हैं। दोनों योजनाओं पर समान समय के लिए साधारण ब्याज का अनुपात 14 : 25 है। P का मान ज्ञात कीजिए।



- A. 6000
- B. 7000
- C. 7500
- D. 5500

27. एक दुकानदार एक वस्तु को अंकित मूल्य पर 20% की छूट देकर बेच रहा है। यदि अंकित मूल्य तथा क्रय मूल्य क्रमशः 900 रुपये तथा 500 रुपये हैं, तो वस्तु का लाभ/हानि प्रतिशत ज्ञात कीजिए।

- A. 44%
- B. 35%
- C. 30%
- D. 24%

**निर्देश:** निम्नलिखित संख्या श्रृंखला में, केवल एक संख्या गलत है। गलत संख्या ज्ञात कीजिए।:

28. 807, 834, 882, 957, 1057, 1182

- A. 882
- B. 957
- C. 834
- D. 807

29. 21, 22, 27, 35, 51, 76

- A. 22
- B. 35
- C. 21
- D. 27

30. 3, 12, 25, 39, 55, 73, 93

- A. 25
- B. 12
- C. 39
- D. 55





**###ANSWERS###**

1. Ans. A.

The correct answer is option A. We need to exchange remit and service. Note the payment cannot be serviced, but it can be remitted.

Likewise, light supply is a service that may get disconnected on non payment of the bill, so at C, the apt fit is 'service'.

2. Ans. D.

We need to exchange A and D to make the sentence contextually correct. Though grammatically, caught and chased are past participles, contextually police officers chased the robbers and because they were quick, they went uncaught.

3. Ans. D.

A: to be achieving is incorrect. The correct sentence would have been "They were unable to achieve"... Note that the infinitive to takes the verb in its first form after it.

B: We need to remove 'an' before 'industrious as we are trying to describe the qualities here and we need not use separate articles to define them.

C: Use of most is incorrect as 'severest' is already superlative degree.

D: is correct.

4. Ans. B.

A: It should be on the grounds of.. As the subject here is plural- The cutbacks even the verb should be plural - 'are'

B: is correct

C: The error is of subject verb disagreement. The subject here is 'The parent company' which is singular, so the verb should be singular- ie; 'has' in place of 'have'

D: As 'state' here is a noun, we need an adjective to correctly modify it. So, we will use 'meditative' and not the verb 'meditate'.

5. Ans. D.

The correct answer is DBACE

6. Ans. B.

The correct answer is CADEB

7. Ans. C.

The correct time word here would be 'when'.

8. Ans. D.

Note that 'see' means to notice or become aware of (someone or something) by using your eyes. look means to direct your eyes in a particular direction.

The apt fit here would be 'looked'.

9. Ans. B.

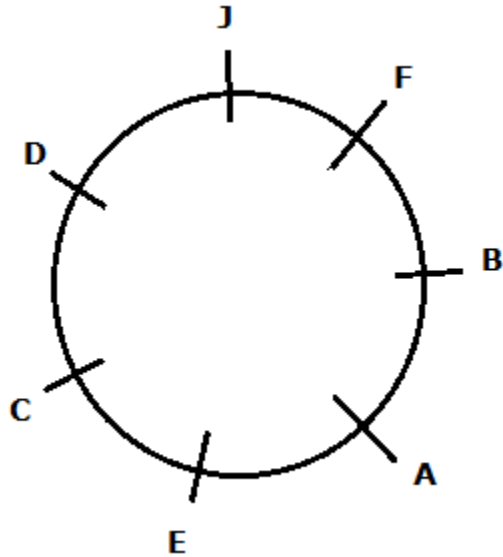
The word 'exhibit' is incorrect. It needs to be replaced by the word 'exhibition' to make the sentence contextually correct.



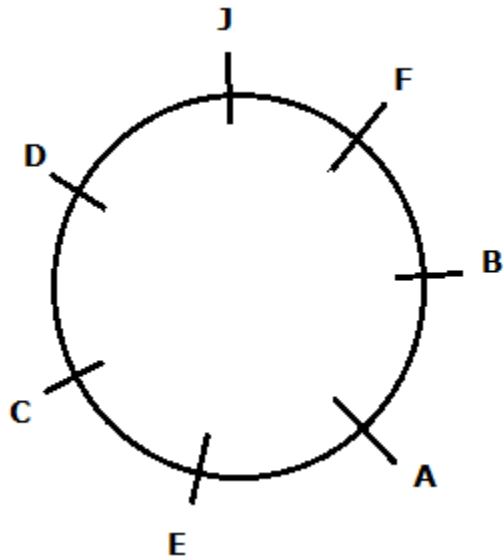
10. Ans. A.

The correct word would be 'invented' in place of invited.

11. Ans. B.

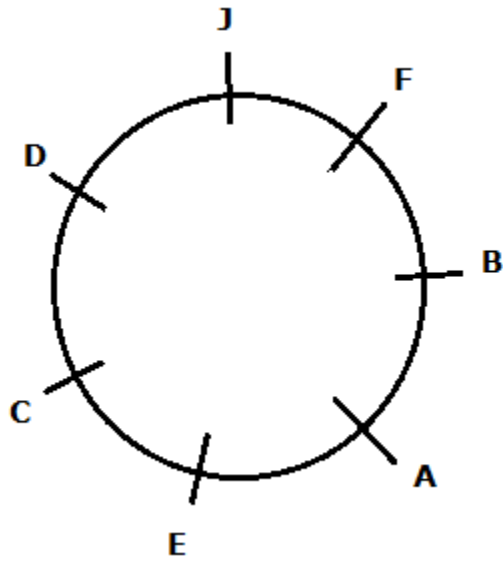


12. Ans. A.

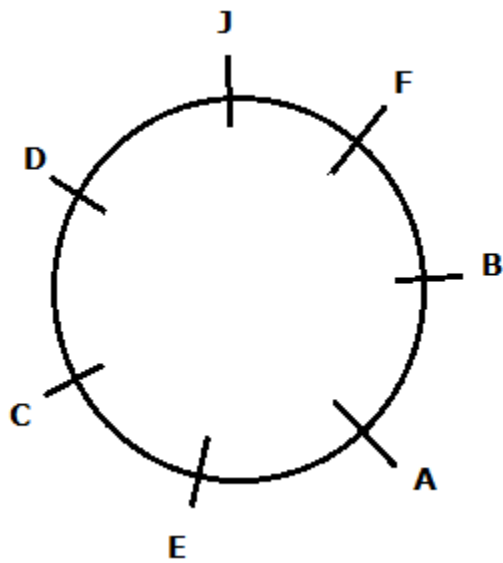


13. Ans. A.



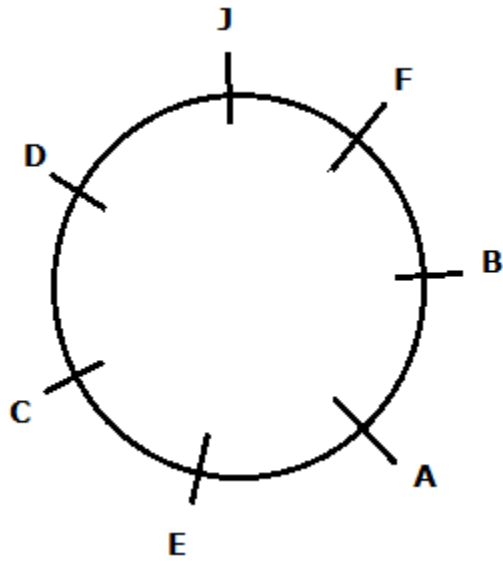


14. Ans. B.



15. Ans. C.





16. Ans. D.

**F > E > B > C > D > A**

17. Ans. A.

**F > E > B > C > D > A**

18. Ans. B.

**F > E > B > C > D > A**

19. Ans. A.

Month	People
January	F
February	E
April	D
June	C
July	B
September	G
November	A

20. Ans. B.

**IBPS Clerk Mains 2022**  
A Practice Batch



Month	People
January	F
February	E
April	D
June	C
July	B
September	G
November	A

21. Ans. C.

Let quantity of syrup and water =  $5a$  &  $3a$

Syrup =  $64/8a \times 5a = 40$  litre

Water =  $64 - 40 = 24$  litre

Now adding syrup & water,

Syrup =  $40 + 20 = 60$  litre

Water =  $24 + 16 = 40$  litre

Required % =  $40/(60 + 40) = 40\%$

22. Ans. B.

Speed of boat =  $9 + 3 = 12$  km/h

Speed of downstream =  $12 + 3 = 15$  km/h

ATQ,

$D/15 + (D - 3)/9 = 5$

$D = 30$  km

23. Ans. A.

Let total work = LCM of  $(15, 25) = 75$

Efficiency of A =  $75/15 = 5$

Efficiency of B =  $75/25 = 3$

ATQ,

$5 \times 10 + (5+3)d = 75$

$8d = 25$

$d = 25/8 = 3(1/8)$  days

24. Ans. A.

Let age of A & B =  $5a$  years &  $6a$  years

Age of C =  $(5a + 11)$  years

ATQ,

$(5a + 11) + 6a = 33 \times 2$

$a = 5$

age of C, after 12 years =  $36 + 12 = 48$  years

25. Ans. B.

**IBPS Clerk Mains 2022**  
A Practice Batch



Side of square =  $\sqrt{144} = 12$  m

Area of rectangle =  $2772/10.5 = 264$  m<sup>2</sup>

Length of rectangle =  $264/12 = 22$ m

26. Ans. B.

ATQ,

$$\frac{p \times 15\%}{(p + 500) \times 25} = \frac{14}{25}$$

P = 7000

27. Ans. A.

Selling price =  $900 \times (100 - 20)\% = \text{Rs. } 720$

Profit =  $720 - 500 = \text{Rs. } 220$

Profit% =  $220/500 \times 100 = 44\%$

28. Ans. C.

+25, + 50, +75, +100, +125

807, 832, 882, 957, 1057, 1182

29. Ans. D.

+1, +4, +9, +16, +25

21, 22, 26, 35, 51, 76

30. Ans. B.

+10, +12, +14, +16, +18, +20

3, 13, 25, 39, 55, 73, 93

**IBPS Clerk Mains 2022**

A Practice Batch

