

ESIC MTS 2022 Exam Sample Paper PDF (In Hindi)

निर्देश: निम्नलिखित प्रश्न में प्रश्न चिह्न (?)

के स्थान पर क्या आयेगा?

1. $26 \times 451 - ? = 6103$

- A. 6532
- B. 5623
- C. 6251
- D. 4563
- E. इनमें से कोई नहीं

निर्देश: निम्नलिखित प्रश्न में प्रश्न चिह्न (?)

के स्थान पर कौन सा मान आना चाहिए?

2. $1\frac{4}{5} + 3\frac{2}{5} + 2\frac{2}{3} = ?$

- A. $7\frac{14}{15}$
- B. $6\frac{13}{15}$
- C. $13\frac{7}{15}$
- D. $3\frac{14}{15}$
- E. इनमें से कोई नहीं

निर्देश: निम्नलिखित प्रश्न में प्रश्न-चिह्न (?)

के स्थान पर कौन सा मान आना चाहिए?

3. $(62.50 \times 32) \div 8 + 39 = ?^2$

- A. 19
- B. 17
- C. 15
- D. 18
- E. 21

निर्देश: निम्नलिखित प्रश्न में प्रश्नवाचक चिह्न

(?) के स्थान पर क्या आना चाहिए?

4. $4\frac{8}{11} + 3\frac{6}{22} + 7\frac{5}{11} + 9\frac{6}{11} = ?$

- A. 27
- B. 20
- C. 25
- D. 21
- E. 23

निर्देश: निम्नलिखित प्रश्न में प्रश्नवाचक चिह्न

(?) के स्थान पर क्या आना चाहिए?

5. $(125 \text{ का } 44\%) + \sqrt{676} - (285 \div 15) = ?$

- A. 60
- B. 62
- C. 66
- D. 68
- E. 64

निर्देश: निम्नलिखित प्रश्न में प्रश्नवाचक चिह्न

(?) के स्थान पर क्या आना चाहिए?

6. $\sqrt{289} + 12 = ?^2 - (19 \times 6) + \sqrt{489 - 5}$

- A. 12
- B. 13
- C. 15
- D. 14
- E. 11

निर्देश: निम्नलिखित प्रश्नों में प्रश्न-चिह्न (?)

के स्थान पर कौन सा मान आना चाहिए?

7. $(3^2 \times 2^2) + (152 \div 19) = ? - \sqrt{529}$

- A. 79
- B. 76
- C. 67
- D. 70
- E. 73



निर्देश: निम्नलिखित संख्या श्रृंखला में प्रश्नवाचक चिन्ह (?) के स्थान पर क्या आएगा?

8. 78, 142, 191, ?, 252, 268

- A. 207
- B. 227
- C. 212
- D. 237
- E. 248

निर्देश: दिए गए प्रश्न में प्रश्नवाचक चिन्ह (?) के स्थान पर क्या आयेगा ?

9. 5, 6, 13, 40, 161, ?

- A. 556
- B. 742
- C. 806
- D. 684
- E. 864

10. 15, 13, 22, ?, 232, 1150

- A. 69
- B. 52
- C. 172
- D. 60
- E. 74

11. 14, 22, 28, 32, 34, ?

- A. 36
- B. 38
- C. 34
- D. 35
- E. 32

12. 880, 664, ?, 725, 752, 744

- A. 739
- B. 710
- C. 729
- D. 779
- E. 789

13. एक गाँव की जनसंख्या 60000 है। यदि पहले वर्ष में जनसंख्या में 15% की वृद्धि, दूसरे वर्ष में 20% की वृद्धि होती है, तो 2 वर्ष बाद गाँव की जनसंख्या क्या होगी?

- A. 84800
- B. 82800
- C. 78400
- D. 64800
- E. इनमें से कोई नहीं

14. 12 पेनों का औसत लागत मूल्य 3 रुपये है तथा 10 पेनों का औसत लागत मूल्य 2 रुपये है। सभी 22 पेन की औसत लागत मूल्य ज्ञात कीजिए।

- A. 2.66 रुपये
- B. 2.84 रुपये
- C. 2.54 रुपये
- D. 2.88 रुपये
- E. इनमें से कोई नहीं

15. दस वर्ष पहले राहुल रवि से 5 वर्ष बड़ा था। यदि दिया जाता है कि 5 वर्ष के बाद उन दोनों की आयु का योग 43 वर्ष होगा तो रवि की वर्तमान आयु ज्ञात कीजिए।

- A. 14 वर्ष
- B. 20 वर्ष
- C. 10 वर्ष
- D. 12 वर्ष
- E. 13 वर्ष



16. अमरिंदर और अजय ने क्रमशः 2400 रुपये और 3000 रुपये के निवेश के साथ एक व्यवसाय शुरू किया। अमरिंदर और अजय द्वारा निवेश की अवधि का अनुपात क्रमशः 5 : 3 था। अमरिंदर द्वारा अर्जित लाभ ज्ञात कीजिए, यदि व्यवसाय में अर्जित कुल लाभ 38220 रुपये था।

- A. 23450 रुपये
- B. 21840 रुपये
- C. 22480 रुपये
- D. 26420 रुपये
- E. 24460 रुपये

17. दो मित्र अमन तथा ध्रुव अकेले एक कार्य को क्रमशः 24 दिन और 48 दिन में कर सकते हैं। वे एकसाथ कार्य का एक चौथाई भाग कितने दिनों में कर सकेंगे?

- A. 6 दिन
- B. 4 दिन
- C. 5 दिन
- D. 8 दिन
- E. इनमें से कोई नहीं

18. उस व्यक्ति की औसत गति क्या होगी, जो 2 घंटे में 100 किमी की दूरी तय करता है और फिर 1 घंटे में 50 किमी वापस आता है?

- A. 30 किमी/घंटे
- B. 25 किमी/घंटे
- C. 45 किमी/घंटे
- D. 50 किमी/घंटे
- E. इनमें से कोई नहीं

19. पाइप A एक टैंक को 24 मिनट में भर सकता है और दूसरा पाइप B, 60 सेकंड में 18 लीटर पानी खाली कर सकता है। यदि दोनों पाइप एक साथ खोले जाते हैं, तो खाली टैंक 60 मिनट में भरा जा सकता है। लीटर में टैंक की क्षमता ज्ञात करें।

- A. 640 ली.
- B. 720 ली.
- C. 880 ली.
- D. 680 ली.
- E. 840 ली.

20. एक वस्तु के अंकित मूल्य एवं लागत मूल्य का योग 1300 रुपये है। यदि वस्तु को 40 रुपये की छुट देने के बाद 10% के लाभ पर बेचा जाता है, तो वस्तु का लागत मूल्य ज्ञात कीजिए:

- A. 600
- B. 800
- C. 850
- D. 1050
- E. इनमें से कोई नहीं

निर्देश: निम्नलिखित तालिका में, दिए गए सप्ताह के विभिन्न दिनों में चार कक्षाओं V, VI, VII और VIII में मौजूद छात्रों का विवरण दिया गया है। तालिका का ध्यानपूर्वक अध्ययन करें और निम्नलिखित प्रश्नों के उत्तर दें:



	V	VI	VII	VIII
सोमवार	45	40	25	20
मंगलवार	40	55	45	25
बुधवार	25	20	40	40
बृहस्पतिवार	35	45	30	35
शुक्रवार	20	40	25	50

21. सोमवार को कक्षा V में मौजूद छात्रों और मंगलवार को कक्षा VI में मौजूद छात्रों का अनुपात क्या था?

- A. 9 : 12
- B. 9 : 11
- C. 7 : 9
- D. 5 : 6
- E. इनमें से कोई नहीं

22. मंगलवार को कक्षा V में मौजूद छात्र गुरुवार को कक्षा VII में मौजूद छात्रों के कितने प्रतिशत हैं?

- A. 300/4 %
- B. 400/3%
- C. 200/3%
- D. 130%
- E. इनमें से कोई नहीं

23. कक्षा V, कक्षा VI, कक्षा VIII प्रत्येक में सोमवार, मंगलवार और शुक्रवार को औसत उपस्थिति क्या है?

- A. 37.2
- B. 38.5
- C. 34.5
- D. 39.5
- E. 30.8

24. कक्षा VI और कक्षा VII की औसत उपस्थिति का अनुपात ज्ञात कीजिए।

- A. 40 : 35
- B. 40 : 33
- C. 8 : 7
- D. 8 : 5
- E. इनमें से कोई नहीं

25. कक्षा VI में उपस्थित छात्रों का औसत, सप्ताह के दिए गए पांच दिनों में कक्षा VIII में उपस्थित छात्रों के औसत का कितना प्रतिशत है?

- A. 112 .7%
- B. 117 .6%
- C. 113 .9%
- D. 116 .4%
- E. 115 .6%

निर्देश: निम्नलिखित जानकारी का ध्यानपूर्वक अध्ययन करें तथा तदनुसार प्रश्नों के उत्तर दें।

T, N का भतीजा है। X, Q की पोती है, जो एक पुरुष है। H, W का दादा है, जो X का भाई है। S, X की सिस्टर-इन-लॉ है। V का विवाह T से हुआ है, जो H की एकमात्र संतान है।

26. T, Q से किस प्रकार संबंधित है?

- A. पिता
- B. पुत्र
- C. दामाद
- D. भाई
- E. इनमें से कोई नहीं



27. V, S से किस प्रकार संबंधित है?

- A. पिता
- B. सिस्टर-इन-लॉ
- C. माता
- D. सास
- E. इनमें से कोई नहीं

28. विषम पद ज्ञात करें।

- A. W, X
- B. H, S
- C. Q, V
- D. N, S
- E. T, X

निर्देश: निम्नलिखित व्यवस्था को ध्यान से पढ़िए और नीचे दिए गए प्रश्नों के उत्तर दीजिए:

7 6 1 7 9 2 4 1 5 6 4 9 2 3 4 1 2 5
8 5 8 4 8 3 1 2 7 5 2 6 7 2 9 5 3

29. उपरोक्त व्यवस्था में ऐसे कितने 2 हैं, जिनमें से प्रत्येक के एकदम बाद ऐसा अंक है जिसका आंकिक मूल्य चार से अधिक है?

- A. कोई नहीं
- B. एक
- C. दो
- D. तीन
- E. तीन से अधिक

30. उपरोक्त व्यवस्था में ऐसे कितने 1 हैं, जिनमें से प्रत्येक के एकदम पहले एक पूर्ण वर्ग है?

- A. कोई नहीं
- B. एक
- C. दो
- D. तीन
- E. तीन से अधिक

31. उपरोक्त व्यवस्था में ऐसे कितने 5 हैं, जिनमें से प्रत्येक के एकदम पहले और बाद में एक विषम अंक है?

- A. कोई नहीं
- B. एक
- C. दो
- D. तीन
- E. तीन से अधिक

32. उपरोक्त व्यवस्था के बाएं छोर से अठारहवें अंक के बाएं को तीसरा निम्न में से कौन सा है?

- A. 8
- B. 3
- C. 4
- D. 5
- E. 1

33. यदि उपरोक्त व्यवस्था से सभी सम अंक हटा दिए जाएं, तो व्यवस्था के दाएं छोर से नौवां निम्न में से कौनसा होगा?

- A. 9
- B. 3
- C. 1
- D. 5
- E. 7



निर्देश: निम्नलिखित जानकारी का ध्यानपूर्वक अध्ययन करें तथा तदनुसार प्रश्नों के उत्तर दें।

आठ व्यक्ति एक आठ मंजिला ईमारत में रहते हैं। एक मंजिल पर एक व्यक्ति रहता है। भूतल संख्या 1 और शीर्ष तल संख्या 8 है। T और F के बीच दो व्यक्ति रहते हैं। G और T के बीच चार व्यक्ति रहते हैं। J और G के बीच एक व्यक्ति रहता है। R, J से नीचे रहता है। W एक सम संख्या वाली मंजिल पर रहता है। R, B से ऊपर और U से नीचे रहता है।

34. कौन सबसे ऊपरी मंजिल पर रहता है?

- A. R
- B. U
- C. J
- D. T
- E. इनमें से कोई नहीं

35. U और W के बीच कितने व्यक्ति रहते हैं?

- A. चार
- B. एक
- C. तीन
- D. दो
- E. इनमें से कोई नहीं

36. कौन तीसरी मंजिल पर रहता है?

- A. T
- B. R
- C. W
- D. B
- E. कोई सही नहीं है

37. निम्न में से कौन सम-संख्या वाली मंजिल पर रहता है?

- A. W, F, R, G
- B. J, G, B, T
- C. U, F, T, W
- D. F, W, G, J
- E. इनमें से कोई नहीं

38. विषम का चयन करें।

- A. G, J
- B. B, R
- C. U, B
- D. F, G
- E. B, T

39. प्रत्येक शब्द में प्रत्येक अक्षर का एक बार उपयोग करके अक्षर 'ITGLYU' से कितने सार्थक अंग्रेजी शब्द बन सकते हैं?

- A. तीन
- B. कोई नहीं
- C. एक
- D. तीन से अधिक
- E. दो

निर्देश: नीचे दिए गए प्रत्येक प्रश्न में तीन कथन दिए गए हैं जिनके दो निष्कर्ष I और II दिए गए हैं। आपको दिए गए कथनों को सत्य मानना है भले ही वे सामान्यतः ज्ञात तथ्यों से भिन्न प्रतीत होते हों। सभी निष्कर्षों को पढ़ें और फिर निश्चय करें कि दिए गए निष्कर्षों में से कौन सा सामान्यतः ज्ञात तथ्यों की उपेक्षा करते हुए कथनों का तार्किक रूप से अनुसरण करता है।



40. कथन:

कुछ हैट, मैट हैं।
कुछ मैट, चीटी हैं।
कुछ हैट, बकरी हैं।

निष्कर्ष:

- I. कुछ बकरी, मैट हो सकती हैं।
- II. कुछ हैट, चीटी नहीं हैं।
- A. यदि केवल निष्कर्ष I अनुसरण करता है।
- B. यदि केवल निष्कर्ष II अनुसरण करता है।
- C. यदि या तो निष्कर्ष I या II अनुसरण करता है।
- D. यदि न तो निष्कर्ष I न ही II अनुसरण करता है।
- E. यदि दोनों निष्कर्ष I और II अनुसरण करते हैं।

निर्देश: नीचे दिए गए प्रत्येक प्रश्न में दो कथन और उसके बाद दो निष्कर्ष I और II दिए गए हैं। आपको दिए गए दोनों कथनों को सत्य मानना है, भले ही वे सर्वज्ञात तथ्यों से भिन्न प्रतीत होते हों। सभी निष्कर्षों को पढ़िए और फिर तय कीजिए कि दिया गया कौन-सा निष्कर्ष दिए गए कथनों का तार्किक रूप से अनुसरण करता है, भले ही सर्वज्ञात तथ्य कुछ भी हों।

41. कथन:

सभी चम्मच कटोरियाँ हैं।
सभी बर्तन कटोरियाँ हैं।

निष्कर्ष:

- I. कुछ चम्मच बर्तन हैं।

II. सभी कटोरियाँ चम्मच हैं।

- A. केवल निष्कर्ष I अनुसरण करता है।
- B. केवल निष्कर्ष II अनुसरण करता है।
- C. या तो निष्कर्ष I या II अनुसरण करता है।
- D. न तो निष्कर्ष I न ही II अनुसरण करता है।
- E. दोनों निष्कर्ष I और II अनुसरण करता है।

निर्देश: निम्नलिखित प्रश्न में कुछ कथनों के बाद कुछ निष्कर्ष दिये गये हैं। दिये गये कथनों को सत्य मानते हुए, ज्ञात कीजिए कि कौन सा निष्कर्ष दिये गये कथन का अनुसरण करता है और उचित विकल्प को उत्तर के रूप में चुनें।

42. कथन:

सभी हरे सफेद हैं।
कोई सफेद काला नहीं है।
सारे काले नीले हैं।

निष्कर्ष:

- I. कुछ हरे के काले होने की सम्भावना है।
- II. कम से कम कुछ सफेद हरे हैं।
- A. केवल निष्कर्ष I अनुसरण करता है।
- B. केवल निष्कर्ष II अनुसरण करता है।
- C. निष्कर्ष I या II कोई अनुसरण करता है।
- D. निष्कर्ष I या II कोई अनुसरण नहीं करता है।
- E. निष्कर्ष I और II दोनों अनुसरण करते हैं।



निर्देश: निम्नलिखित जानकारी का अध्ययन कर दिए गए प्रश्नों के उत्तर दें। निम्नलिखित प्रत्येक प्रश्न में तीन कथन दिए गए हैं और इन कथनों के बाद दो निष्कर्ष I और II दिए हैं। आपको दिए गए कथनों को सत्य मानना है भले ही वे दिए गए तथ्यों से भिन्न प्रतीत होते हों | निष्कर्षों को पढ़िए और यह निर्धारित कीजिये की दिए गए निष्कर्षों में से कौन सा निष्कर्ष दिए गए कथनों का अनुसरण करता है |

43. कथन:

कुछ हैंडल दरवाजे हैं
सभी चाबियाँ दरवाजे हैं
कोई ताला हैंडल नहीं है

निष्कर्ष:

- I. कोई ताला दरवाजा नहीं है
- II. सभी हैंडल्स ताले नहीं हैं
- A. केवल निष्कर्ष I अनुसरण करता है
- B. केवल निष्कर्ष II अनुसरण करता है
- C. या तो निष्कर्ष I या निष्कर्ष II अनुसरण करता है
- D. ना तो निष्कर्ष I और ना ही निष्कर्ष II अनुसरण करता है
- E. दोनों I और II अनुसरण करते हैं

निर्देश: निम्न दिए गए प्रत्येक प्रश्न में तीन कथनों का अनुसरण करते हुए दो दिए गए हैं। आपको दिए गए दोनों कथनों को सत्य मानना है भले ही सामान्य जीवन में वे वास्तविक तथ्यों से अलग ही क्यों न हो।

वास्तविक ज्ञात तथ्यों को छोड़कर दिए गए सभी निष्कर्षों को ध्यान से पढ़ें और फिर निश्चय करें कि दिए गए कथनों में कौन सा निष्कर्ष तार्किक रूप से असंगत है।

44. कथन:

सभी पत्र काले हैं।
सभी काले नीले हैं।
कोई नीला हरा नहीं है।

निष्कर्ष:

- I. कोई पत्र हरा नहीं है।
- II. कुछ नीले काले हैं।
- A. अगर केवल निष्कर्ष I अनुसरण करता है
- B. अगर केवल निष्कर्ष II अनुसरण करता है।
- C. अगर या तो निष्कर्ष I अथवा निष्कर्ष II अनुसरण करता है।
- D. अगर न तो निष्कर्ष I न ही निष्कर्ष II अनुसरण करता है।
- E. अगर निष्कर्ष I और II दोनों अनुसरण करते हैं।

निर्देश: निम्नलिखित जानकारी को ध्यान से पढ़ें और दिये गये निम्न प्रश्नों के जवाब दें।

P, Q, R, S, T और V उत्तर की ओर मुंह करके सीधी पंक्ति में बैठे हैं। Q, T के दाएं को तीसरा स्थान पर बैठा है। T, P के दाएं को दूसरा स्थान पर बैठा है। V, T का



निकटस्थ पड़ोसी नहीं है। R, S के बाएं को दूसरे स्थान पर बैठा है।

45. P के संबंध में S का कौन सा स्थान है?

- A. दाएं को तीसरा
- B. बाएं को दूसरा
- C. दाएं को तत्काल
- D. दाएं को दूसरा
- E. बाएं को तत्काल

46. यदि सभी व्यक्तियों को बाएं से दाएं वर्णानुक्रम से बिताया जाए, बैठने के मूल स्थानों की तुलना में कितने व्यक्तियों के स्थान अपरिवर्तित रहेंगे?

- A. कोई नहीं
- B. एक
- C. दो
- D. तीन
- E. चार

47. R के एकदम दाएं को कौन बैठा है?

- A. V
- B. T
- C. P
- D. Q
- E. निर्धारित नहीं किया जा सकता

48. R और V के बीच कितने लोग बैठे हैं?

- A. कोई नहीं
- B. एक
- C. दो
- D. तीन
- E. चार

49. निम्न में से कौन सा जोड़ा पंक्ति के अंतिम कोनों पर बैठा है?

- A. TS
- B. VS
- C. RT
- D. PQ
- E. इनमें से कोई नहीं

50. निम्नलिखित प्रश्न में, उस शब्द का चयन करें जिसे शब्द WHISPERING के अक्षरों का उपयोग करके नहीं बनाया जा सकता है? (प्रत्येक अक्षर का एक बार प्रयोग करके)

- A. PERISHING
- B. SPHERING
- C. WHINGERS
- D. WEEPING
- E. INSPIRE

Direction: Read the given passage carefully and answer the questions that follow. Certain words are printed in bold to help you locate them while answering some of these.

Spain is a country in love with food, renowned for everything from tapas to trailblazing chefs to simple, elegant recipes that have endured for generations. So it may seem counterintuitive, perhaps even heretical, to say that the most important thing about a Spanish lunch is not the food. But it's true. Before you spill your gazpacho, let me say that Spanish people don't take the food part of lunch lightly; far from it. As a Spaniard in love



with food in general, and lunch in particular, I for one approach the subject of where to eat with the same level of thought and research that some people put into buying a new car. Of course, I want to know whether the food is good – but I also want to know whether it's going to be a comfortable place to spend a few hours.

Steady yourselves foodies; but in Spain the purpose of going out for lunch isn't just eating, it's catching up with friends or family, telling stories and laughing away the stress caused by things that, with a little perspective, you come to realise don't matter anyway. If all you want is food, you might as well stay at home and order in. Food matters a lot in Spain, but the social aspect of it matters even more. Lunch, for example, doesn't end when people can't eat another bite. That's when the *sobremesa* starts. There is no equivalent word in English, though the concept is simple: *sobremesa* is the time you spend at the table after you've finished eating. Usually, there's laughter involved, and almost always the kind of easy, convivial conversation that only the pleasures of a big meal can inspire. "On a personal level, the *sobremesa* is fundamental. "As a chef, when I see people spending time at the table after lunch, I feel that it's a sign that everything has gone well, but oftentimes people enjoy themselves even more than during

the meal itself. The *sobremesa* can be magical." When I moved to Madrid from Zaragoza, I got in touch with Ben Curtis, a British blogger who has lived in Spain for 20 years and has probably taught more people about Spanish customs than anyone else. We'd been emailing about things related to Spanish culture for some time, but we'd never met, so I suggested we go out for a beer. He wisely suggested we go out for lunch instead. It went so well that we've been having lunch more or less once a week for the past six years.

And by lunch I don't mean a sandwich at a food court or a fast-food burger, but a proper sit-down, three-course Spanish lunch. With wine, naturally; if there's a better way to form a friendship than having long lunches on a regular basis, I'd like to know about it. In my experience, avant-garde food doesn't lend itself to a good *sobremesa* because too much attention gets devoted to the food itself. That's why I prefer classic, **unpretentious** *casas de comida*, or family restaurants, where the food is home-style, made from well-cooked, simple ingredients. I know Ben feels the same way because we have often explored this important subject in leisurely chats after robust meals, the white tablecloth sprinkled with breadcrumbs and splotted with red-wine stains. My informal research suggests that the better the food, the better the



ESIC UDC 2022 Mains
A Score Booster Course

START FREE TRIAL

sobremesa; but tellingly, you can eat mediocre food and still have a great lunch if you're with the right company.

Source:

<https://www.bbc.com/travel/story>

51. Which of the following is required for having a great lunch?

- I. Good food
- II. Right company
- III. Great place
- A. Only II
- B. Both I and II
- C. Both II and III
- D. Both I and III
- E. All of the above.

52. According to the author, which of the following is a sign that a lunch has gone well?

- A. Upon seeing the smiles on people's faces.
- B. Upon hearing people talk happily while having their lunch.
- C. Upon seeing people licking their fingers while having lunch.
- D. Upon seeing people spending time at the table after lunch.
- E. None of the above

53. Which of the following is correct about sobremesa?

- I. Big meals inspiring easy conversation.
- II. People tipping large amounts to the waiters after a good meal.
- III. Spending time at the table after you've finished eating.
- A. Both I and II
- B. Both II and III

- C. Both I and III
- D. All of these
- E. None of these

54. Which of the following can replace 'splotched', as used in the passage?

- I. Blot
- II. Dip
- III. Clean
- IV. Smear
- A. Both I and II
- B. All I, II and III
- C. Only I
- D. Both I and IV
- E. All of the above.

55. According to the author, which of the following is the best way to form friendship?

- A. Spending long hours together
- B. Exchanging pleasantries
- C. Spending time at least once at the lunch table after eating
- D. Going for long walks
- E. Having long lunches on a regular basis

56. What happened in the aftermath of the lunch between the British blogger and the author?

- A. The two became the best of buddies
- B. They started having lunch more frequently
- C. They collaborated on a book
- D. They set out to educate people of sobremesa
- E. None of the above



57. Which of the following is the most opposite in meaning to 'unpretentious'?

- I. Modest
 - II. Purified
 - III. Flashy
 - IV. Straightforward
- A. Only II
 - B. Only III
 - C. Both I and IV
 - D. All I, II and IV
 - E. All of the above.

Direction: In the given question, a part of the sentence is printed in bold. Below the sentence alternatives to the bold part are given at (A), (B), (C) and (D) which may help improve the sentence. Choose the correct alternative. In case the given sentence is correct, your answer is (E), i.e., 'No correction required'.

58. It seems the election victory **have boosted** the approval rating for Abe's administration, but not him.

- A. Is boost
- B. Have boosting
- C. Is boosted
- D. Has boosted
- E. No correction required

Direction: In the given question, a part of the sentence is printed in bold. Below the sentence alternatives to the bold part are given at (A), (B), (C) and (D) which may help improve the sentence. Choose the correct alternative. In

case the given sentence is correct, your answer is (E), i.e., 'No correction required'.

59. He has now **succeeded in overwhelming** the grief.

- A. successful in overwhelming
- B. successful to overwhelm
- C. succeeded to overwhelm
- D. succeeded in overcoming
- E. No correction required

Direction: In the given question, a part of the sentence is printed in bold. Below the sentence alternatives to the bold part are given at (A), (B), (C) and (D) which may help improve the sentence. Choose the correct alternative. In case the given sentence is correct, your answer is (E), i.e., 'No correction required'.

60. I looked everywhere **as my keys**, but I couldn't figure out where I had put them.

- A. for my key
- B. as mine keys
- C. for my keys
- D. finding my key
- E. No correction required

Direction: In the given question, a part of the sentence is printed in bold. Below the sentence alternatives to the bold part are given at (A), (B), (C) and (D) which may help improve the sentence. Choose the correct alternative. In case the given sentence is correct,



your answer is (E), i.e., 'No correction required'.

61. While the Government boosted funds at policy banks to help affected auto parts' suppliers, no additional financing **was offer** to them.

- A. Were offer
- B. Was offering
- C. Was offered
- D. Were offers
- E. No correction required

Direction: Rearrange the given sentences (A), (B), (C), (D), and (E) in a proper sequence to form a meaningful paragraph: then answer the questions that follow.

A) However, spring has traditionally not been the best time of year to buy a new car .

B) The best deals are typically offered in the autumn and winter as dealerships race to unwind inventory ahead of the year's end

C) Spring has sprung, and now is a great time to buy a new car.

D) So in case you are thinking of buying a car within the next six months, you would be well advised to act now to take advantage of the current deals.

E) Car dealerships are offering sizable price cuts because of an overstock of vehicles on their lots.

62. Which of the following would be the second sentence after rearrangement?

- A. A
- B. E
- C. D
- D. B
- E. C

63. Which of the following would be the fifth sentence after rearrangement?

- A. B
- B. C
- C. D
- D. E
- E. A

64. Which of the following would be the third sentence after rearrangement?

- A. C
- B. B
- C. E
- D. D
- E. A

65. Which of the following would be the fourth sentence after rearrangement?

- A. A
- B. E
- C. D
- D. B
- E. C

66. Which of the following would be the first sentence after rearrangement?

- A. D
- B. E
- C. A
- D. B
- E. C



Direction: A sentence with one blank is given, indicating that something has been omitted. Choose the word that best fits the blank appropriately.

67. The unprecedented economic growth of China has _____ worldwide attention.

- A. perceived
- B. proposed
- C. neither
- D. astonished
- E. attracted

Direction: A sentence with one blank is given, indicating that something has been omitted. Choose the word that best fits the blank appropriately.

68. In the modern world, the _____ of change and scientific innovation is unusually rapid.

- A. supplies
- B. context
- C. pace
- D. fantasy
- E. requirement

Direction: A sentence with one blank is given, indicating that something has been omitted. Choose the word that best fits in the blank making the sentence grammatically correct and meaningful.

69. The old man was _____ by a truck on the zebra crossing on the main road.

- A. Got hit
- B. Run across
- C. Run out
- D. Blowed
- E. Knocked down

Direction: Read the sentence to find out whether there is any error in it. The error, if any, will be in one part of the sentence. The number corresponding to that part will be your answer. If the given sentence is correct as it is, mark the answer as "No error". Ignore the errors of punctuation, if any.

70. He is a university professor (1)/ but out of his (2)/ three sons (3)/ neither has any merit. (4)

- A. 1
- B. 2
- C. 3
- D. 4
- E. No error

Direction: Read the sentence to find out whether there is any error in it. The error, if any, will be in one part of the sentence. The number corresponding to that part will be your answer. If the given sentence is correct as it is, mark the answer as No error. Ignore the errors of punctuation if any.

71. Many believe that (1)/ nothing could have (2)/ avert the war (3)/ between America and Iraq. (4)

- A. 1
- B. 2
- C. 3
- D. 4
- E. No error



Direction: Read the sentence to find out whether there is an error in it. The error, if any, will be in one part of the sentence. The number corresponding to that part will be your answer. If the given sentence is correct as it is, mark the answer as 'No error'. Ignore the errors of punctuation, if any.

72. The Corporation will facilitate (1)/ formation of livelihood groups (2)/ comprising widows and single women (3)/ and offered them jobs. (4)

- A. 1
- B. 2
- C. 3
- D. 4
- E. No error

Direction: Read the sentence to find out whether there is any error in it. The error, if any, will be in one part of the sentence. The number corresponding to that part will be your answer. If the given sentence is correct as it is, mark the answer as "No error". Ignore the errors of punctuation, if any.

73. The angry boatman threw (1)/ the cracked oar (2)/ in the river (3)/ and returned home. (4)

- A. 1
- B. 2
- C. 3
- D. 4
- E. No error

Direction: In each question, a sentence with four words printed in bold is given. These are numbered as (1), (2), (3) and (4). One of these four words printed in bold may either be misspelt or inappropriate in the context of the sentence. Find out the word which is wrongly spelt or inappropriate, if any. The number of that word is your answer. If all the words printed in bold are correctly spelt and also appropriate in the context of the sentence, mark (5), i.e., 'All correct', as your answer.

74. By far the **most** urgent (1) need of industry in **journal** (2) and of IT industry in **particular** (3) is the need for **skilled** manpower. (4) All are correct (5)

- A. 1
- B. 2
- C. 3
- D. 4
- E. 5

Direction: In the given sentence, some words are printed in bold, one of which may be wrongly spelt or inappropriate in the context. Choose that wrongly spelt word as the answer. If all the words printed in bold are correct, mark E, i.e., 'All are correct' as the answer.

75. The report **suggests** (1) that India has not **invested** (2) **sufficient** resources in developing (3) its IT **infrastructure**. (4)



- A. 1
- B. 2
- C. 3
- D. 4
- E. All are correct

76. प्रो टेनिस लीग 2021 किस टीम ने जीती है?

- A. डीएमजी क्रूसेडर्स
- B. बेंगलोर चैलेंजर्स
- C. टीम रेडियंट
- D. शंकर
- E. सफायर सुपरस्टार

77. महाराजा अग्रसेन अंतरराष्ट्रीय हवाई अड्डे के रूप में किस हवाई अड्डे का नाम दिया गया है?

- A. हिसार हवाई अड्डा
- B. पुणे हवाई अड्डा
- C. सूरत हवाई अड्डा
- D. वाराणसी हवाई अड्डा
- E. गोरखपुर अंतरराष्ट्रीय हवाई अड्डा

78. दिसंबर 2021 में, निम्नलिखित में से किसे यूनेस्को की 'अमूर्त विरासत सूची' में अंकित किया गया है?

- A. कलमकारी पेंटिंग
- B. ओगुक्था: पारंपरिक लोक रंगमंच
- C. कोलकाता का दुर्गा पूजा उत्सव
- D. शामन के गीत
- E. सोवा-रिग्पा

79. 2021 का राष्ट्रीय बिलियर्ड्स खिताब किसने जीता है?

- A. पंकज आडवाणी
- B. ध्रुव सीतवाला
- C. आदित्य मेहता
- D. सौरव कोठारी
- E. यासीन मर्चेट

80. निम्नलिखित में से किसने 2021 में G7 शिखर सम्मेलन की मेजबानी की थी ?

- A. इटली
- B. भारत
- C. यूनाइटेड किंगडम
- D. ब्राजील
- E. उपरोक्त में से कोई नहीं/उपरोक्त में से एक से अधिक

81. म्यांमार की मुद्रा क्या है?

- A. क्यात
- B. मेटेकल
- C. रुपया
- D. यूरो
- E. पेसो

82. 'लाल सलाम' पुस्तक के लेखक कौन हैं

- A. स्मृति ईरानी
- B. बृन्दा करात
- C. सीताराम येचुरी
- D. धर्मेन्द्र प्रधान
- E. प्रकाश जावड़ेकर



83.पंजाब नेशनल बैंक (पीएनबी) के प्रबंध निदेशक (एमडी) और मुख्य कार्यकारी अधिकारी (सीईओ) के रूप में किसे नियुक्त किया गया है?

- A. मल्लिकार्जुन राव
- B. सोम शंकर प्रसाद
- C. अतुल कुमार गोयल
- D. राजीव आहूजा
- E. कमलेश गांधी

84.अंकटाड (UNCTAD) की पहली महिला महासचिव के रूप में किसे नियुक्त किया गया है?

- A. ओकोजो-इवेला
- B. रेबेका ग्रिंस्पैन
- C. वोजोसा ओस्मनी
- D. सामिया सुलुहु
- E. नतालिया वोडियानोवा

85.भारत के निम्नलिखित बाँधों में से कौन सा एक आर्क बाँध का उदाहरण है?

- A. टिहरी बांध
- B. इडुक्की बांध
- C. भाखड़ा बांध
- D. सरदार सरोवर बांध
- E. इनमें से कोई नहीं

86.एफडीआई का पूरा नाम क्या है?

- A. फ्लेटिंग डिपोजिट इन्वेस्टमेंट
- B. फॉरेन डायरेक्ट इन्वेस्टमेंट

C. फारेन डायवर्स इन्वेस्टमेंट

D. फाइनेंशियलडेरिवेटिस इन इंडिया

E. उपरोक्त में से कोई नहीं

87.किस रेलवे स्टेशन का नाम बदलकर वीरांगना लक्ष्मीबाई रेलवे स्टेशन कर दिया गया है?

- A. झांसी रेलवे स्टेशन
- B. इंदौर रेलवे स्टेशन
- C. भोपाल रेलवे स्टेशन
- D. इटारसी रेलवे स्टेशन
- E. ग्वालियर रेलवे स्टेशन

88.किस बैंक का आंध्रा बैंक और कॉर्पोरेशन बैंक में विलय हुआ है?

- A. सेंट्रल बैंक ऑफ इंडिया
- B. यूनियन बैंक ऑफ इंडिया
- C. यूनाइटेड बैंक ऑफ इंडिया
- D. सिंडीकेट बैंक
- E. इलाहाबाद बैंक

89.तारापुर परमाणु ऊर्जा केन्द्र निम्न में से किस राज्य में स्थित है?

- A. महाराष्ट्र
- B. तेलंगाना
- C. कर्नाटक
- D. ओडिशा
- E. पश्चिम बंगाल



90. विश्व AIDS दिवस कब मनाया जाता है?

- A. 29 नवम्बर
- B. 30 नवम्बर
- C. 1 दिसम्बर
- D. 2 दिसम्बर
- E. इनमें से कोई भी नहीं

91. निम्नलिखित में से किसे मिस यूनिवर्स 2021 का ताज पहनाया गया?

- A. नादिया फेरीरा
- B. ललेला मसवाने
- C. हरनाज़ संधू
- D. टेरेसा सैंटोस
- E. इनमें से कोई नहीं

92. आंचल ठाकुर किस खेल से जुड़ी हैं?

- A. बाइ लगाना
- B. कुश्ती
- C. स्कीइंग
- D. बॉक्सिंग
- E. स्प्रिंट

93. क्लाउड कंप्यूटिंग _____ से संबंधित है।

- A. रिमोट सेंसिंग
- B. मैपिंग
- C. डेटा का प्रबंधन और प्रसंस्करण
- D. डेटा वितरण
- E. उपरोक्त में से कोई नहीं

94. कनाडा की राजधानी कौन सी है?

- A. ओटावा
- B. टोक्यो
- C. बीजिंग
- D. कैनबरा
- E. इनमें से कोई नहीं

95. हमारे मुख्य चुनाव आयुक्त कौन हैं?

- A. सुनील अरोड़ा
- B. ओम प्रकाश रावत
- C. अचल कुमार ज्योति
- D. नसीम जैदी
- E. सुशिल चंद्रा

96. भारत का कौन सा शहर 'सिलिकॉन वैली' के नाम से जाना जाता है ?

- A. बेंगलुरु
- B. चेन्नई
- C. हैदराबाद
- D. मुंबई
- E. इनमें से कोई नहीं

97. प्रख्यात लेखिका नमिता गोखले ने अपने उपन्यास _____ के लिए साहित्य अकादमी पुरस्कार जीता।

- A. द डे इन शेडो
- B. प्लांस फॉर डिपार्चर
- C. थिंग्स टु लीव बिहाइंड
- D. ए बर्निंग
- E. अमृता शेरगिल: रेबेल विद ए पेंटब्रश



98.प्रधान मंत्री नरेंद्र मोदी _____ में मेजर ध्यानचंद स्पोर्ट्स यूनिवर्सिटी की आधारशिला रखेंगे।

- A. मेरठ
- B. गाजियाबाद
- C. लखनऊ
- D. रेवाड़ी
- E. हरिद्वार

99.भरतनाट्यम किस राज्य का शास्त्रीय नृत्य है?

- A. आंध्र प्रदेश
- B. तमिलनाडु
- C. केरल
- D. मणिपुर
- E. कर्नाटक

100.वर्तमान में फीचर फोन में मौजूद NUUP भुगतान सेवाओं में पहले 'U' का क्या अर्थ है?

- A. यूनिक
- B. यूनिफाइड
- C. यूनिवर्सल
- D. अनइक्युल
- E. उपरोक्त में से कोई नहीं



ESIC UDC 2022 Mains
A Score Booster Course

START FREE TRIAL

ANSWERS

1. Ans. B.

$$26 \times 451 - ? = 6103$$

$$\Rightarrow ? = 11726 - 6103$$

$$\Rightarrow ? = 5623$$

2. Ans. E.

$$1 + \frac{4}{5} + 3 + \frac{2}{5} + 2 + \frac{2}{3} = ?$$

$$\Rightarrow 6 + \frac{28}{15} = ?$$

$$\Rightarrow ? = 6 + 1\frac{13}{15}$$

$$\Rightarrow ? = 7\frac{13}{15}$$

Hence, option E is correct

3. Ans. B.

$$(62.50 \times 32) \div 8 + 39 = ?^2$$

$$\Rightarrow (2000) \div 8 + 39 = ?^2$$

$$\Rightarrow 250 + 39 = ?^2$$

$$\Rightarrow ?^2 = 289$$

$$\Rightarrow ? = 17$$

4. Ans. C.

The given equation is :

$$? = 4\frac{8}{11} + 3\frac{6}{22} + 7\frac{5}{11} + 9\frac{6}{11}$$

$$\Rightarrow ? = \frac{52}{11} + \frac{36}{11} + \frac{82}{11} + \frac{105}{11}$$

$$\Rightarrow ? = \frac{52 + 36 + 82 + 105}{11}$$

$$\Rightarrow ? = \frac{275}{11}$$

$$\Rightarrow ? = 25$$

5. Ans. B.

$$? = (44\% \text{ of } 125) + \sqrt{676} - (285 \div 15)$$

$$\Rightarrow ? = \frac{44}{100} \times 125 + 26 - 19$$

$$\Rightarrow ? = 55 + 26 - 19$$

$$\Rightarrow ? = 81 - 19$$

$$\Rightarrow ? = 62$$

6. Ans. E.

$$\sqrt{289} + 12 = ?^2 - (19 \times 6) + \sqrt{489 - 5}$$

$$\Rightarrow 17 + 12 = ?^2 - 114 + \sqrt{484}$$

$$\Rightarrow 29 = ?^2 - 114 + 22$$

$$\Rightarrow ?^2 = 29 + 114 - 22$$

$$\Rightarrow ?^2 = 143 - 22$$

$$\Rightarrow ?^2 = 121$$

$$\Rightarrow ? = 11$$

7. Ans. C.

$$(3^2 \times 2^2) + (152 \div 19) = ? - \sqrt{529}$$

$$\Rightarrow (9 \times 4) + (152 \div 19) = ? - \sqrt{529}$$

$$\Rightarrow 36 + 8 = ? - 23$$

$$\Rightarrow ? = 67$$

8. Ans. B.

Pattern of the series is:

$$78 + 8^2 = 78 + 64 = 142$$

$$142 + 7^2 = 142 + 49 = 191$$

$$191 + 6^2 = 191 + 36 = 227$$

$$227 + 5^2 = 227 + 25 = 252$$

$$252 + 4^2 = 252 + 16 = 268$$

Hence, 227 will come in place of question mark.

9. Ans. C.

श्रृंखला का पैटर्न है:

$$5 \times 1 + 1 = 6$$

$$6 \times 2 + 1 = 13$$

$$13 \times 3 + 1 = 40$$

$$40 \times 4 + 1 = 161$$

$$161 \times 5 + 1 = 806$$

10. Ans. D.

Pattern of the series is:

$$15 \times 1 - 2 = 13$$

$$13 \times 2 - 4 = 22$$

$$22 \times 3 - 6 = 60$$



$$60 \times 4 - 8 = 232$$

$$232 \times 5 - 10 = 1150$$

Hence, 60 will come in place of question mark.

11. Ans. C.

श्रृंखला का पैटर्न है:

$$14 + 8 = 22$$

$$22 + 6 = 28$$

$$28 + 4 = 32$$

$$32 + 2 = 34$$

$$34 + 0 = 34$$

12. Ans. E.

Pattern of the series is:

$$880 - 6^3 = 880 - 216 = 664$$

$$664 + 5^3 = 664 + 125 = 789$$

$$789 - 4^3 = 789 - 64 = 725$$

$$725 + 3^3 = 725 + 27 = 752$$

$$752 - 2^3 = 752 - 8 = 744$$

Hence, 789 will come in place of question mark.

13. Ans. B.

The population of the village after two years = $60000 \times 1.15 \times 1.2 = 82800$

14. Ans. C.

According to the question -

$$\text{Average cost price of a pen} = \frac{12 \times 3 + 10 \times 2}{12 + 10} = 2.54$$

Therefore, average cost price of a pen = Rs. 2.54

15. Ans. A.

Let the present ages of Rahul and Ravi be A years and B years respectively.

According to the data provided in the question, we get

$$A - 10 = B - 10 + 5$$

$$\Rightarrow A - B = 5 \text{ (i)}$$

$$A + 5 + B + 5 = 43$$

$$\Rightarrow A + B = 33 \text{ (ii)}$$

Solving equations (i) and (ii), we get:

$$A = 19 \text{ and } B = 14$$

Therefore, present age of Ravi is 14 years

16. Ans. B.

Ratio of the investment of Amrinder and Ajay = $2400 : 3000 = 4 : 5$

Ratio of period of investment of Amrinder and Ajay = $5 : 3$

So, ratio of profit sharing = $(4 \times 5) : (5 \times 3) = 4 : 3$

Profit of Amrinder = $(4/7) \times 38220 = \text{Rs. } 21840$

Hence, option B is correct.

17. Ans. B.

Let the total amount of the work = 48 units (LCM of 24 and 48)

Amount of the work done by Aman in one day = $\frac{48}{24} = 2$ units

Amount of the work done by Dhruv in one day = $\frac{48}{48} = 1$ units

Amount of the work done by Aman and Dhruv together in one day = $2 + 1 = 3$ units

$\frac{1}{4}$ th of the work = $\frac{48}{4} = 12$ units

Time taken by Aman and Dhruv together to complete the required work = $\frac{12}{3} = 4$ days

Hence, option B is correct.

18. Ans. D.

Total distance travelled by the person = $100 + 50 = 150$ km

Total time taken by the person = $2 + 1 = 3$ hours



$$\text{Average speed of the person} = \frac{\text{Total distance travelled}}{\text{Total time taken}}$$

$$\text{Average speed of the person} = \frac{150}{3} = 50 \text{ km/h}$$

19. Ans. B.

Equating the work done by both the pipes in 1 minute, we get

$$\frac{1}{A} - \frac{1}{B} = \frac{1}{60}$$

$$\frac{1}{B} = \frac{1}{24} - \frac{1}{60} = \frac{3}{120}$$

B takes 40 minutes to empty the tank

Emptying rate of Pipe Q = 18 liters/min

∴ Capacity of tank = 40 × 18 = 720 liters

20. Ans. A.

Let the cost price of the article be Rs. X

Therefore, marked price of the article = Rs. 1300 - X

Using the data provided in the question, we get

$$1300 - X - 40 = 1.1X$$

$$\Rightarrow X = \text{Rs. } 600$$

Therefore, cost price of the article is Rs. 600.

21. Ans. B.

Required ratio = 45 : 55 = 9 : 11

22. Ans. B.

$$X = (40 \times 100)/30 = 400/3 \%$$

23. Ans. A.

Average attendance on Monday =

$$\frac{45+40+20}{3} = \frac{105}{3}$$

Average attendance on Tuesday =

$$\frac{40+55+25}{3} = \frac{120}{3}$$

Average attendance on Friday =

$$\frac{20+40+50}{3} = \frac{110}{3}$$

Average attendance in all three days = $(\frac{105}{3} + \frac{120}{3} + \frac{110}{3}) / 3 = 335/9 = 37.22$

24. Ans. B.

The average attendance of class VI

$$= \frac{40 + 55 + 20 + 45 + 40}{5} = 40$$

The average attendance of class VII

$$= \frac{25 + 45 + 40 + 30 + 25}{5} = 33$$

Required ratio = 40 : 33

25. Ans. B.

The average attendance of class VI

$$= \frac{40 + 55 + 20 + 45 + 40}{5} = 40$$

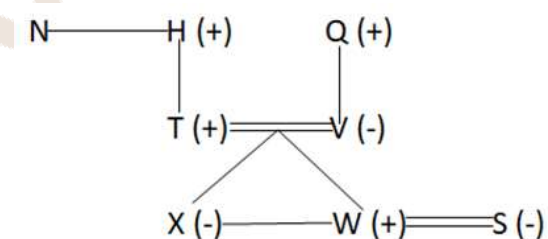
The average attendance of class VIII =

$$\frac{20 + 25 + 40 + 35 + 50}{5} = 34$$

Required percentage =

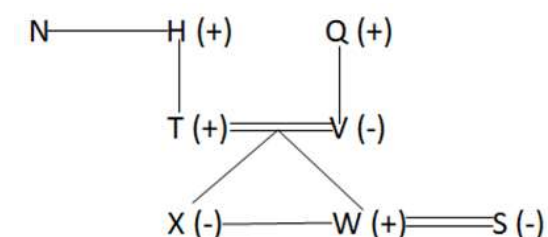
$$\frac{40}{34} \times 100 = 117.64\%$$

26. Ans. C.



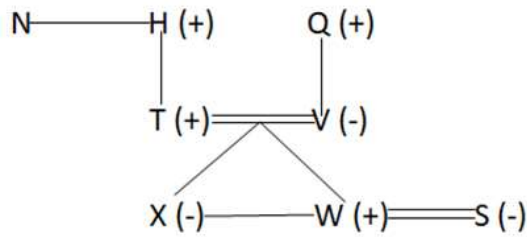
Therefore, option C is the correct answer

27. Ans. D.



Therefore, option D is the correct answer.

28. Ans. D.



All the given pair has one female and a male, but in option D we don't know about the gender of

Therefore, option D is the correct answer.

Therefore, option D is the correct answer.

29. Ans. E.

7 6 1 7 9 2 4 1 5 6 4 9 2 3 4 1 **2 5**
8 5 8 4 8 3 1 **2 7 5 2 6 7 2 9 5 3**

इस प्रकार ये तीन जोड़ों से अधिक हैं।

30. Ans. C.

7 6 1 7 9 2 4 **1** 5 6 4 9 2 3 4 **1 2 5**
8 5 8 4 8 3 1 2 7 5 2 6 7 2 9 5 3

Thus there are two 1s

31. Ans. B.

7 6 1 7 9 2 4 1 5 6 4 9 2 3 4 1 2 5
8 5 8 4 8 3 1 2 7 5 2 6 7 2 **9 5 3**

Thus there is only one such pair

32. Ans. C.

7 6 1 7 9 2 4 1 5 6 4 9 2 3 4 1 2 5
8 5 8 4 8 3 1 2 7 5 2 6 7 2 9 5 3

3RD to the left of the eighteenth digit from the left end means 15th from the left i.e.4

33. Ans. D.

After deleting all even digits arrangement will be

7 1 7 9 1 5 9 3 1 5 5 3 1 7 5 7 9 5
3

9TH from the right will be 5

34. Ans. C.

1) T और F के बीच में दो व्यक्ति रहते हैं।

Case 1

T
F

Case 2

F
T

2) G और T के बीच में चार व्यक्ति रहते हैं।

3) J और G के बीच में एक व्यक्ति रहता है।

Case 1

8	T
7	
6	
5	F
4	
3	G
2	
1	J

Case 2

8	J
7	
6	G
5	
4	F
3	
2	
1	T

4) R, J के नीचे रहता है।

(यहां, स्थिति 1 हट जाएगी और हम स्थिति 2 को जारी रखेंगे)

5) W एक सम संख्या वाली मंजिल पर रहता है।

6) R, B के ऊपर तथा U के नीचे रहता है।

8	J
7	U
6	G
5	R
4	F
3	B
2	W
1	T

अतः J, शीर्ष मंजिल पर रहता है।



35. Ans. A.

1) T और F के बीच में दो व्यक्ति रहते हैं।

Case 1

T
F

Case 2

F
T

2) G और T के बीच में चार व्यक्ति रहते हैं।

3) J और G के बीच में एक व्यक्ति रहता है।

Case 1

8	T
7	
6	
5	F
4	
3	G
2	
1	J

Case 2

8	J
7	
6	G
5	
4	F
3	
2	
1	T

4) R, J के नीचे रहता है।

(यहां, स्थिति 1 हट जाएगी और हम स्थिति 2 को जारी रखेंगे)

5) W एक सम संख्या वाली मंजिल पर रहता है।

6) R, B के ऊपर तथा U के नीचे रहता है।

8	J
7	U
6	G
5	R
4	F
3	B
2	W
1	T

अतः, U और W के बीच में चार व्यक्ति रहते हैं।

36. Ans. D.

1) T और F के बीच में दो व्यक्ति रहते हैं।

Case 1

T
F

Case 2

F
T

2) G और T के बीच में चार व्यक्ति रहते हैं।

3) J और G के बीच में एक व्यक्ति रहता है।

Case 1

8	T
7	
6	
5	F
4	
3	G
2	
1	J

Case 2

8	J
7	
6	G
5	
4	F
3	
2	
1	T

4) R, J के नीचे रहता है।

(यहां, स्थिति 1 हट जाएगी और हम स्थिति 2 को जारी रखेंगे)

5) W एक सम संख्या वाली मंजिल पर रहता है।

6) R, B के ऊपर तथा U के नीचे रहता है।



ESIC UDC 2022 Mains
A Score Booster Course

START FREE TRIAL

8	J
7	U
6	G
5	R
4	F
3	B
2	W
1	T

अतः B तीसरी मंजिल पर रहता है।

37. Ans. D.

1) T और F के बीच में दो व्यक्ति रहते हैं।

Case 1

T
F

Case 2

F
T

2) G और T के बीच में चार व्यक्ति रहते हैं।

3) J और G के बीच में एक व्यक्ति रहता है।

Case 1

8	T
7	
6	
5	F
4	
3	G
2	
1	J

Case 2

8	J
7	
6	G
5	
4	F
3	
2	
1	T

4) R, J के नीचे रहता है।

(यहां, स्थिति 1 हट जाएगी और हम स्थिति 2 को जारी रखेंगे)

5) W एक सम संख्या वाली मंजिल पर रहता है।

6) R, B के ऊपर तथा U के नीचे रहता है।

8	J
7	U
6	G
5	R
4	F
3	B
2	W
1	T

F, W, G, J सम संख्या वाली मंजिलों पर रहते हैं।

38. Ans. C.

1) T और F के बीच में दो व्यक्ति रहते हैं।

Case 1

T
F

Case 2

F
T

2) G और T के बीच में चार व्यक्ति रहते हैं।

3) J और G के बीच में एक व्यक्ति रहता है।

Case 1

8	T
7	
6	
5	F
4	
3	G
2	
1	J

Case 2

8	J
7	
6	G
5	
4	F
3	
2	
1	T

4) R, J के नीचे रहता है।

(यहां, स्थिति 1 हट जाएगी और हम स्थिति 2 को जारी रखेंगे)

5) W एक सम संख्या वाली मंजिल पर रहता है।



ESIC UDC 2022 Mains
A Score Booster Course

START FREE TRIAL

6) R, B के ऊपर तथा U के नीचे रहता है।

8	J
7	U
6	G
5	R
4	F
3	B
2	W
1	T

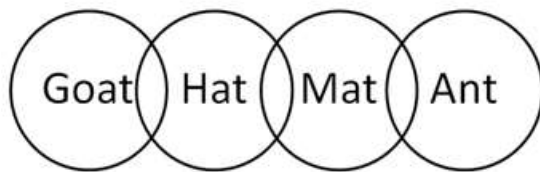
U तथा B के बीच एक से अधिक व्यक्ति रहते हैं।

39. Ans. C.

Only one word can be made from ITGLYU = GUILTY

So the answer is one.

40. Ans. A.

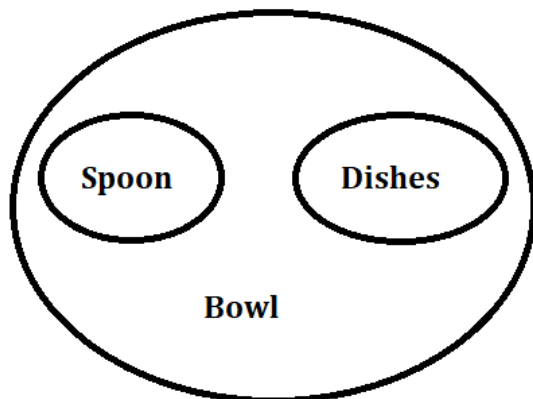


Some Goat can be Mat =====> follows

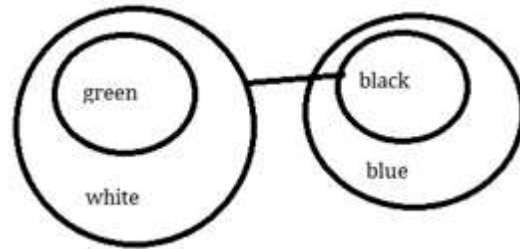
Some Hat is not Ant =====> not follows

Therefore, option A is the correct answer.

41. Ans. D.



42. Ans. B.



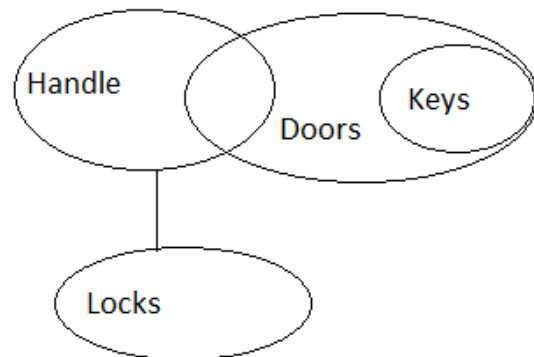
निष्कर्ष:

I. कुछ हरे के काले होने की संभावना है। गलत - चूंकि कोई सफेद काला नहीं है।

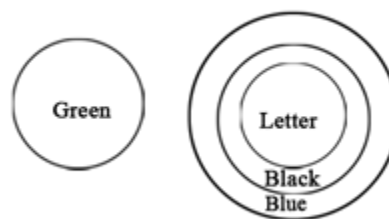
II. कम से कम कुछ सफेद हरे हैं। सही - चूंकि सभी हरे सफेद हैं।

इसलिए, केवल निष्कर्ष II अनुसरण करेगा।

43. Ans. B.

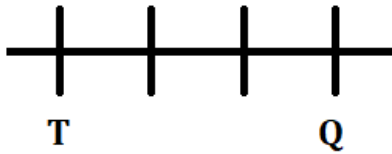


44. Ans. E.

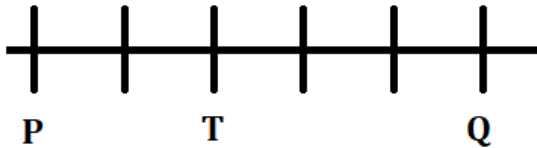


45. Ans. A.

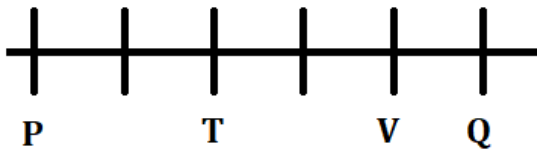
Q sits third to the right of T.



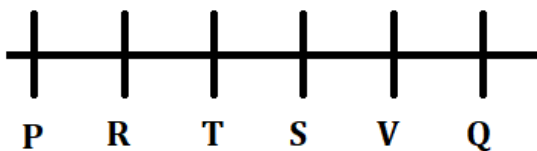
T sits second to the right of P.



V is not the immediate neighbor of T.

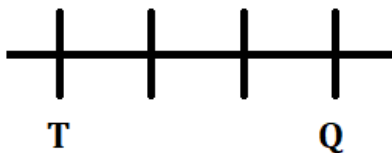


R sits second to the left of S.

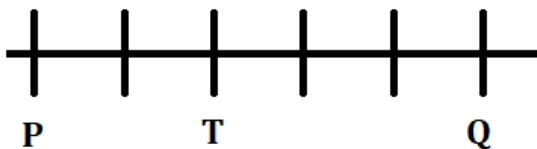


46. Ans. C.

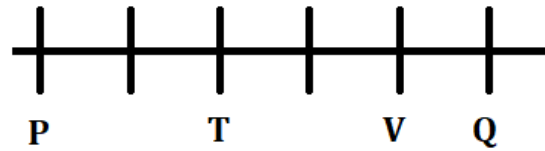
Q sits third to the right of T.



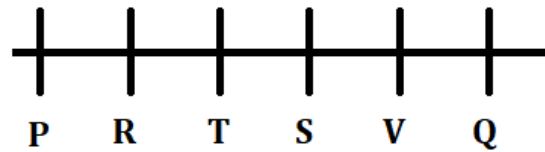
T sits second to the right of P.



V is not the immediate neighbor of T.

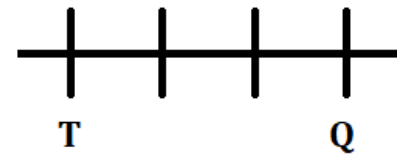


R sits second to the left of S.

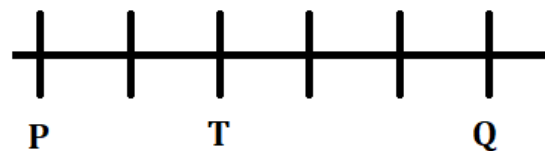


47. Ans. B.

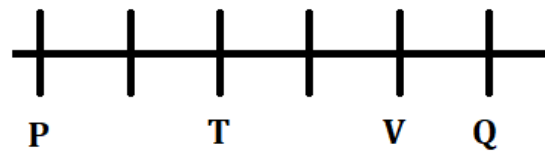
Q sits third to the right of T.



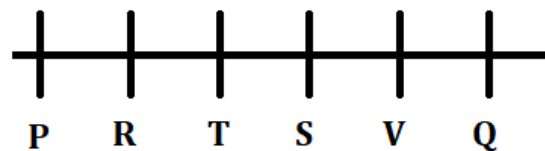
T sits second to the right of P.



V is not the immediate neighbor of T.

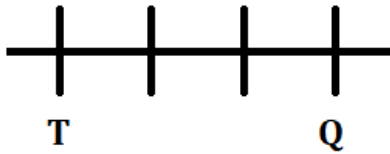


R sits second to the left of S.

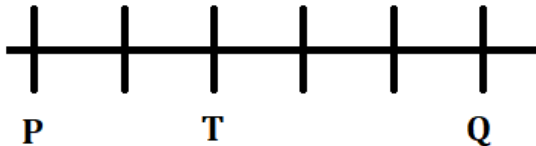


48. Ans. C.

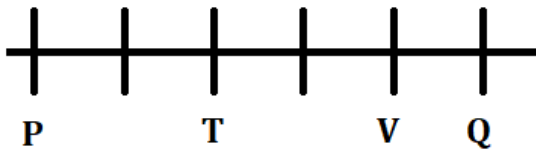
Q sits third to the right of T.



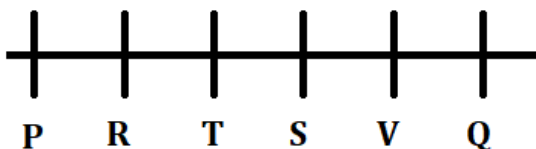
T sits second to the right of P.



V is not the immediate neighbor of T.

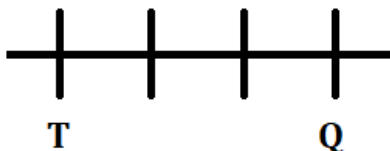


R sits second to the left of S.

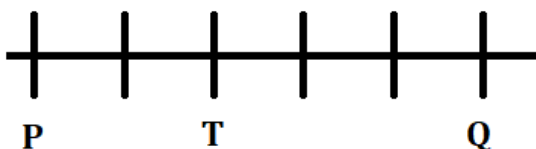


49. Ans. D.

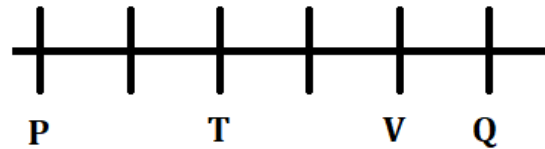
Q sits third to the right of T.



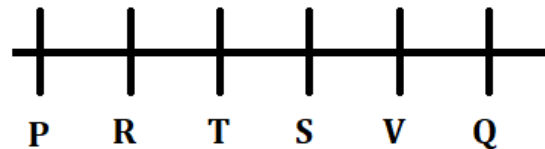
T sits second to the right of P.



V is not the immediate neighbor of T.



R sits second to the left of S.



50. Ans. D.

In the word WHISPERING, there is only one E while in the word WEEPING, there are two E's.

51. Ans. A.

The last sentence of the passage states, 'My informal research suggests that the better the food, the better the sobremesa; but tellingly, you can eat mediocre food and still have a great lunch if you're with the right company'. Thus, only right company is required for having a great lunch.

52. Ans. D.

It can be clearly inferred from the 2nd sentence of the 3rd paragraph that, 'As a chef, when I see people spending time at the table after lunch, I feel that it's a sign that everything has gone well'. So, seeing people spending time on the table after the lunch is a sign of lunch that had gone well.

53. Ans. C.

Both statements I and II can be found in the last two sentences of the 2nd paragraph. 'There is no



equivalent word in English, though the concept is simple: sobremesa is the time you spend at the table after you've finished eating. Usually, there's laughter involved, and almost always the kind of easy, convivial conversation that only the pleasures of a big meal can inspire'.
54. Ans. D.

'Spotched' means make a daub, blot, or smear of something, typically a liquid. Thus, both 'blot' and 'smear' can replace 'spotched'.
55. Ans. E.

According to the 3rd sentence of the last paragraph that, 'if there's a better way to form a friendship than having long lunches on a regular basis, I'd like to know about it'. Thus, in order to form friendship one should have long lunches on a regular basis.

56. Ans. B.

It can be clearly inferred from the last sentence of the 3rd paragraph that, 'He wisely suggested we go out for lunch instead. It went so well that we've been having lunch more or less once a week for the past six years'. So, after the lunch between the British blogger and the author, they started having lunch more frequently.

57. Ans. B.

'Unpretentious' means not attempting to impress others with an appearance of greater importance, talent, or culture than is actually possessed.

'Modest' means unassuming in the estimation of one's abilities or achievements

'Purified' means extract something from.

'Flashy' means showy or pretentious

'Straightforward' means uncomplicated and easy to do or understand.

Thus, the opposite of 'unpretentious' is 'flashy'.

58. Ans. D.

Since 'victory' is singular, there must be 'has' (singular) in the sentence. The correct answer is option D.

Though option A and C are also singular, they do not fit in grammatically.

59. Ans. D.

Overwhelming means something in a very large amount. Here the context is of successfully beating grief and thus the correct verb should be 'overcoming', which means to come out victorious out of a difficult scenario.

60. Ans. C.

'As' draws out a comparison. One can't look everywhere as the keys do. It makes no sense.

However, one can look for keys i.e. search for them.

Since 'them' is mentioned in the latter half, it has to be "keys" and not key, hence options A and D can be eliminated.

'Mine keys' is incorrect, hence option B can be eliminated.



61. Ans. C.

There must always be a past tense of the verb with 'was' since it shows a past event. Hence, 'offered' must be used in place of 'offer'. The activity is not in its continual phase, hence option B can't be used. The correct answer is option C.

62. Ans. A.

The correct sequence is CABED. Sentence C comes first as it says that the passage talks about buying of cars in the spring season. It is followed by sentence E which contradicts the first saying that traditionally spring isn't the best time to buy a car. It is followed by B which says that autumn is the best time to buy cars. Sentence E explains the reason why this year spring is considered a better time to buy a car as compared to autumn. Sentence D concludes the paragraph by giving the advice of buying a car in spring.

63. Ans. C.

The correct sequence is CABED. Sentence C comes first as it says that the passage talks about buying of cars in the spring season. It is followed by sentence E which contradicts the first saying that traditionally spring isn't the best time to buy a car. It is followed by B which says that autumn is the best time to buy cars. Sentence E explains the reason why this year spring is considered a better time to buy a car as compared to autumn. Sentence D concludes the

paragraph by giving the advice of buying a car in spring.

So, correct answer is option C.

64. Ans. B.

The correct sequence is CABED. Sentence C comes first as it says that the passage talks about buying of cars in the spring season. It is followed by sentence E which contradicts the first saying that traditionally spring isn't the best time to buy a car. It is followed by B which says that autumn is the best time to buy cars. Sentence E explains the reason why this year spring is considered a better time to buy a car as compared to autumn. Sentence D concludes the paragraph by giving the advice of buying a car in spring.

So, correct answer is option B.

65. Ans. B.

The correct sequence is CABED. Sentence C comes first as it says that the passage talks about buying of cars in the spring season. It is followed by sentence E which contradicts the first saying that traditionally spring isn't the best time to buy a car. It is followed by B which says that autumn is the best time to buy cars. Sentence E explains the reason why this year spring is considered a better time to buy a car as compared to autumn. Sentence D concludes the paragraph by giving the advice of buying a car in spring.



66. Ans. E.

The correct sequence is CABED. Sentence C comes first as it says that the passage talks about buying of cars in the spring season. It is followed by sentence E which contradicts the first saying that traditionally spring isn't the best time to buy a car. It is followed by B which says that autumn is the best time to buy cars. Sentence E explains the reason why this year spring is considered a better time to buy a car as compared to autumn. Sentence D concludes the paragraph by giving the advice of buying a car in spring.

67. Ans. E.

"Perceive" means interpret or regard (someone or something) in a particular way or become aware or conscious of (something); come to realize or understand. It doesn't fit in contextually.

"Propose" means put forward (a plan or suggestion) for consideration by others. The word doesn't make any logic when put in the blank field.

"Neither" means not the one nor the other of two people or things; not either. There is no second thing to mark a comparison with, hence it can be eliminated.

"Astonish" means greatly surprised or impressed; amazed. "Attention" can't be surprised, hence it can be eliminated.

"Attract" means cause to come to a place or participate in a venture by

offering something of interest or advantage or evoke (a specified reaction). This means that the economic growth has evoked worldwide attention.

Hence, "attracted" is the correct answer.

68. Ans. C.

The word 'rapid' indicates speed or pace of change and scientific innovation in the modern world.

Hence, pace fits in so keep it on hold.

The blank should have a word which agrees with 'is'.

Option A, supplies is plural hence it should be followed by are which is not the case, hence it can be eliminated.

Option B, context fits in grammatically but not contextually, hence it can be eliminated.

Options D and E do not fit in as well. Hence, pace is the correct answer.

69. Ans. E.

Knocked down means to strike to the ground with or as if with a sharp blow; fell.

Hence option E is correct

Meaning of other phrasal verbs:

Run out: (of a supply of something) be used up.

Run across: meet or find by chance

70. Ans. D.

The error is in the fourth part of the sentence. "Neither" is used for two things or persons but the subject into consideration is 'three sons'. Hence, use 'none has' instead of "neither has" since "none" is used



where the context is about more than two objects.

71. Ans. C.

'Avert' means 'to turn away (one's eyes or thoughts); prevent or ward off (an undesirable occurrence)'.

The error is in the **third part** of the sentence because 'past participle' form of the verb is required after 'have'.

Therefore, 'avert' must be replaced with '**averted**' to form a grammatically correct sentence.

Hence, option C is the correct response.

72. Ans. D.

The correct answer is option D.

The error is in the fourth part of the sentence.

The sentence is in the simple future tense. Hence, we must replace 'offered' with 'offer' to make the sentence grammatically correct as modals are always followed by the first form of the verb.

73. Ans. C.

In the third part of the sentence, 'into' needs to be used instead of 'in'.

Whenever we need to define an association with some movement, we use 'into'. In this case, it talks about a river, which is obviously in motion. Hence, option C is correct.

74. Ans. B.

The appropriate word should be, 'general.' 'Journal' means a newspaper or magazine that deals with a particular subject or professional activity, which is

irrelevant to the meaning of the statement.

75. Ans. E.

The highlighted words are correctly spelt as well as contextually appropriate. Hence, option E is the correct answer.

76. Ans. C.

* Team Radiant has won the Pro Tennis League 2021 beating Bangalore Challengers in the final of the Centena Pro Tennis League in New Delhi.

* Davis Cupper Saketh Myneni led the Team Radiant.

* Saketh outclassed reigning National champion Niki Poonacha 5-0 in the third rubber to gain a four-point lead for the team which proved decisive in the eventual analysis.

* Four-time National champion Prerna Bhambri was equally responsible in Radiant shining in the climax as she won both her mixed doubles matches, with Parv Nage and Arjun Uppal.

77. Ans. A.

हरियाणा के मुख्यमंत्री, मनोहर लाल खट्टर ने हिसार हवाई अड्डे का नाम बदलकर महाराजा अग्रसेन अंतर्राष्ट्रीय हवाई अड्डा (MAIA) करने की घोषणा की।

27 सितंबर, 2018 को हिसार हवाई अड्डा हरियाणा का पहला DGCA लाइसेंस प्राप्त सार्वजनिक हवाई अड्डा बन गया।



ESIC UDC 2022 Mains
A Score Booster Course

START FREE TRIAL

मार्च 2024 तक हिसार हवाई अड्डे को अंतरराष्ट्रीय हवाई अड्डे के रूप में बदलने के लिए वर्तमान में उन्नयन किया जा रहा है।

78. Ans. C.

- Durga Puja in Kolkata has been inscribed on the UNESCO's 'Intangible Heritage list'.

- Durga Puja is an annual festival celebrated in September or October, most notably in West Bengal's Kolkata, also in other parts of India

- The 16th Committee of UNESCO for safeguarding the Intangible Cultural Heritage (ICH) in its meeting held on 15th December 2021 in Paris has inscribed Durga puja in Kolkata on the representative list of Intangible Cultural Heritage of Humanity.

79. Ans. A.

* Ace cueist Pankaj Advani defended his national billiards title — his 11th in the tournament — after he defeated his PSPB teammate Dhruv Sitwala.

* Sitwala, displaying excellent in-offs, pots and cannons, surged ahead by pocketing the third game with a sizeable break of 84.

* He was on course to even wrest the fourth game after he compiled a wonderful effort of 101, but a costly lapse by him gave a window of opportunity to Advani.

* Composing himself, in a superb rally the maestro chalked up a classy break of 127 to snatch the

game and draw level once again at 2-2.

80. Ans. C.

2021 में, G7 शिखर सम्मेलन की मेजबानी यूनाइटेड किंगडम करेगा। वर्तमान में G7 की अध्यक्षता यूनाइटेड किंगडम के पास है और G7 शिखर सम्मेलन के लिए अतिथि देशों के रूप में ऑस्ट्रेलिया, कोरिया गणराज्य और दक्षिण अफ्रीका के साथ भारत को आमंत्रित किया है। बैठक आभासी रूप में होगी।

यूनाइटेड किंगडम ने अपनी अध्यक्षता के लिए चार प्राथमिकता वाले क्षेत्रों की रूपरेखा तैयार की है और शिखर सम्मेलन का विषय 'बिल्ड बैक बेटर' है। ये भविष्य की महामारियों के विरुद्ध लचीलेपन को मजबूत करते हुए, स्वतंत्र और निष्पक्ष व्यापार को बढ़ावा देने, जलवायु परिवर्तन का सामना करने और ग्रह की जैव विविधता को संरक्षित करने और साझा मूल्यों और खुले समाजों को सक्षम बनाने के लिए कोरोनावायरस से वैश्विक रिकवरी का नेतृत्व कर रहे हैं। **इसलिए, विकल्प C सही है।**

81. Ans. A.

क्याट क्याट बर्मा (म्यांमार) की मुद्रा है। इसे अक्सर "कश्मीर" (एकवचन या बहुवचन) या "केएस" (बहुवचन) के रूप में संक्षिप्त किया जाता है, जिसे लेखक की वरीयता के आधार पर संख्यात्मक मूल्य से पहले या बाद में रखा जाता है। म्यांमार की राजधानी- नयापिडाव

82. Ans. A.



ESIC UDC 2022 Mains
A Score Booster Course

START FREE TRIAL

* Union Minister Smriti Zubin Irani turns author with her debut novel Lal Salaam

* The book is being published by the publishing house Westland

* 'Lal Salaam' is based on the tragic killings of 76 CRPF personnel in Dantewada in April 2010

* The book will be released on November 29

* Lal Salaam is the story of a young officer, Vikram Pratap Singh, and of the challenges he faces against a system that is steeped in backroom politics and corruption.

83. Ans. C.

- The Appointments Committee of the Cabinet (ACC) has approved the appointment of Atul Kumar Goel, MD & CEO of UCO Bank, as MD & CEO of Punjab National Bank (PNB) with effect from February 1 next year.

- Goel will serve as PNB chief until December 31, 2024, which is his attaining the superannuation age.

- He will serve as Officer on Special Duty (OSD) in PNB, which is the country's second-largest public sector bank, until January 31, 2022.

- Goel will replace Mallikarjuna Rao, incumbent MD & CEO of PNB, who is due to demit office at the end of January 2022.

84. Ans. B.

- The UN General Assembly approved the appointment of

Rebecca Grynspan as the Secretary General of its trade and development body, UNCTAD.

- She is the first woman and central American to head the global body that deals with trade, investment and development issues.

- Since 2014, Ms. Grynspan has been secretary-general of the Ibero-American General Secretariat.

- From 2010 to 2014, she was the deputy administrator of the United Nations Development Program (UNDP).

85. Ans. B.

The Idukki dam is the first Indian arch dam builds across the Periyar River in Kerala and the largest arch dam in Asia.

An arch dam is a concrete dam that is curved upstream in plan. The arch dam is designed so that the force of the water against it, known as hydrostatic pressure, presses against the arch, compressing and strengthening the structure as it pushes into its foundation or abutments.

86. Ans. B.

* FDI का पूरा नाम प्रत्यक्ष विदेशी निवेश है।

* प्रत्यक्ष विदेशी निवेश एक देश में किसी व्यवसायिक उद्यम में किसी दूसरे देश में स्थापित कंपनी द्वारा नियंत्रण करना है।



87. Ans. A.

• उत्तर प्रदेश सरकार ने झांसी रेलवे स्टेशन का नाम बदलकर रानी लक्ष्मीबाई के नाम पर 'वीरांगना लक्ष्मीबाई रेलवे स्टेशन' कर दिया है।

• पहले मुगलसराय रेलवे स्टेशन का नाम बदलकर पं. दीन दयाल उपाध्याय जंक्शन और फैजाबाद रेलवे स्टेशन को अयोध्या कैंट के रूप में।

• सत्ता में आने के बाद से, श्री आदित्यनाथ सरकार ने फैजाबाद और इलाहाबाद जिलों सहित कई प्रतिष्ठानों के नाम बदल दिए हैं, जिनका नाम बदलकर क्रमशः अयोध्या और प्रयागराज कर दिया गया।

88. Ans. B.

* The Union Bank of India has merged with Andhra Bank and Corporation Bank.

* The ten public sector undertaking (PSU) banks were amalgamated into four banks from April 1. After merger, the number of public sector banks in India has currently come down to 12 from 27 in 2017

89. Ans. A.

It's in the **state of Maharashtra** that Tarapur Atomic Power station is located.

This station is located in the **Palghar district**, and has pressurized heavy water reactors.

90. Ans. C.

World AIDS day is globally observed on 1st December.

Note: On this day, World Health Organisation has issued guidelines for self testing of HIV and its benefits.

91. Ans. C.

* भारत की हरनाज संधू को मिस यूनिवर्स 2021 का ताज पहनाया गया।

* वह (गुरदासपुर) पंजाब की रहने वाली हैं।

* उन्हें 2019 में फेमिना मिस इंडिया पंजाब का ताज पहनाया गया और फेमिना मिस इंडिया 2019 में सेमीफाइनलिस्ट के रूप में रखा गया।

* भारत ने यह खिताब 21 साल पहले तब जीता था जब 2000 में लारा दत्ता को मिस यूनिवर्स का ताज पहनाया गया था। इससे पहले 1994 में अभिनेत्री सुष्मिता सेन को यह खिताब दिया गया था।

* उन्हें मेक्सिको की पूर्व मिस यूनिवर्स 2020 एंड्रिया मेजा द्वारा ताज पहनाया गया।

* मिस यूनिवर्स 2021 इज़राइल के इलियट में यूनिवर्स डोम में 12 दिसंबर, 2021 को आयोजित 70वां मिस यूनिवर्स पेजेंट था।

92. Ans. C.

* Indian skier Aanchal Thakur has bagged Bronze medal at the e International Ski Federation (FIS) Alpine Skiing Competition in Montenegro.

* She finished 3rd with an overall timing of 1:54:30.

* With this, Aanchal has become first Indian Ski athlete to win two medals at international level.



ESIC UDC 2022 Mains
A Score Booster Course

START FREE TRIAL

* She has previously won bronze medal in the 2018 FIS Alpine 3200 Cup held in Turkey

* Georgia Epiphaniou, who won Silver medal was just 2 seconds ahead of Anchal.

93. Ans. C.

* Cloud computing is an internet computing technique, that provides facilities like shared computer processing resources and data exchange between cloud and devices. Its main function is to manage data and services on a cloud application.

* There are two types of cloud computing models namely the deployment model and service model.

* Where deployment model is further divided into three types public cloud, private cloud, and hybrid cloud.

* Service models are of three types namely - IaaS infrastructure as a service, PaaS - Platform as a service, SaaS - software as a service.

94. Ans. A.

ओटावा कनाडा की राजधानी है। यह दक्षिणी ओंटारियो के पूर्वी हिस्से में ओटावा नदी के दक्षिणी तट पर स्थित है।

कनाडा के बारे में कुछ तथ्य

1. कनाडा की दो आधिकारिक भाषाएं हैं, फ्रेंच और अंग्रेजी।

2. कनाडा की आधिकारिक मुद्रा कनाडाई डॉलर है।

3. कनाडा का सऊदी अरब से सीधे पीछे दुनिया का दूसरा सबसे बड़ा तेल भंडार है।

4. लैक्रोस कनाडा का आधिकारिक खेल है, फिर भी आइस हॉकी सबसे अधिक खेला जाने वाला खेल है।

5. दुनिया के सबसे शिक्षित देश के रूप में इसके शीर्षक में योगदान, कनाडा में साक्षरता दर 99% है।

6. कनाडा का राष्ट्रीय प्रतीक, ऊदबिलाव, ध्रुवीय भालू के साथ।

95. Ans. E.

• Sushil Chandra is our chief election commissioner from 13 April 2021 to till date.

• Sushil Chandra assumed charge as the 24th Chief Election Commissioner of India, succeeding Sunil Arora.

96. Ans. A.

The Silicon Valley of India is a nickname of the Capital of Karnataka, Bengaluru (Bangalore). The name signifies Bangalore's status as a hub for IT companies in India and is a comparative reference to the original Silicon Valley, Santa Clara Valley, California, a major hub for IT companies in United States.

97. Ans. C.

• The Sahitya Akademi announced its awards for 2021 for literary works in 20 languages, including novels in Assamese and English by Anuradha Sarma Pujari and Namita Gokhale respectively.



ESIC UDC 2022 Mains
A Score Booster Course

START FREE TRIAL

- Ms. Gokhale was awarded for her novel Things to Leave Behind and Ms. Pujari for Iyat Ekhan Aaronya Asil.

- Seven books of poetry, five of short stories, two plays, one each of biography, autobiography, criticism and epic poetry had won the Sahitya Akademi Awards 2021.

- The awards for works in Gujarati, Maithili, Manipuri and Urdu would be announced at a later date.

98. Ans. A.

- PM Narendra Modi will lay the foundation stone of Major Dhyan Chand Sports University at Meerut.

- The University will be established at Salawa and Kaili villages of Sardhana town in Meerut at an estimated cost of about 700 Crore rupees.

- The University will have the capacity of training 1080 sportspersons, including 540 female and 540 male sportspersons.

- One of the key areas of focus for the Prime Minister is inculcating sporting culture and establishing world-class sporting infrastructure in all parts of the country.

- The establishment of Major Dhyan Chand Sports University at Meerut will be a major step towards fulfilling this vision.

99. Ans. B.

भरतनाट्यम- तमिलनाडु

कथकली- केरल

कुचिपुडी- आंध्र प्रदेश

ओडिसी - ओडिशा

मणिपुरी - मणिपुर

100. Ans. B.

- The National Unified USSD Platform (NUUP), also known as the *99# service, is a platform that provides access to the Unified Payment Interface (UPI) service over the USSD protocol.

- Initiated by the Government of India and developed by the National Payments Corporation of India (NPCI), it facilitates access to banking services from mobile phones.

- The USSD code to access the NUUP is *99#.

- The Telecom Regulatory Authority of India (TRAI) has set a maximum ceiling of ₹1.5 per transaction for accessing the NUUP, although rates can differ among service providers.



ESIC UDC 2022 Mains
A Score Booster Course

START FREE TRIAL