

# **IBPS Clerk Mains 2022**

## **Memory Based Paper**

### **(PDF in Hindi)**



1. सर्बिया के नोवाक जोकोविच ने विंबलडन ओपन 2022 जीता है, यह उनका \_\_\_\_\_ विंबलडन खिताब था?

- A. चौथा
- B. पांचवां
- C. छठा
- D. सातवां
- E. आठवां

2. G20 में बेहतर समन्वय हेतु भारत द्वारा किस पद का सृजन किया गया है तथा अमिताभ कांत को हाल ही में इस पद पर नियुक्त किया गया है?

- A. सीईओ
- B. शेरपा
- C. डायरेक्टर
- D. मुख्य समन्वयक
- E. उपरोक्त में से कोई नहीं

3. संकटग्रस्त प्रजातियों की रेड डाटा सूची कौन जारी करता है?

- A. आईयूसीएन
- B. भारतीय वन्यजीव संस्थान
- C. डब्ल्यूडब्ल्यूएफ
- D. कंजर्वेशन इंटरनेशनल
- E. वाइल्डलाइफ कंजर्वेशन सोसायटी

4. WWF का लोगो किस जानवर को दर्शाता है?

- A. पेंगुइन
- B. ध्रुवीय भालू
- C. विशालकाय पांडा
- D. सफेद बाघ
- E. डुगोंग

5. G7 शिखर सम्मेलन 2022 किस देश में आयोजित किया गया था?


- A. कनाडा
- B. यूनाइटेड किंगडम
- C. फ्रांस
- D. जर्मनी
- E. जापान

6. एकमात्र एशियाई शहर जो 2022 के ग्लोबल लिवेबिलिटी इंडेक्स के अनुसार शीर्ष दस सबसे अधिक रहने योग्य शहरों में शामिल है?

- A. सिंगापुर, सिंगापुर
- B. ओसाका, जापान
- C. जकार्ता, इंडोनेशिया
- D. बीजिंग, चीन
- E. टोक्यो, जापान

7. किस वर्ष तक शहरी आबादी 675 मिलियन हो जाएगी?

- A. 2025
- B. 2028
- C. 2030
- D. 2035
- E. 2040



**SBI & IBPS 2023**  
A Sure Shot Success Batch 3 (English)

WATCH DEMO CLASS

8. शिंजो आबे \_\_\_\_\_ में पहली बार जापान के प्रधानमंत्री बने।

- A. 2005
- B. 2006
- C. 2007
- D. 2008
- E. 2009

9. भारत के संविधान में दलबदल विरोधी कानून को किस अनुसूची में शामिल किया गया था?

- A. छठी
- B. सातवीं
- C. आठवीं
- D. नौवीं
- E. दसवीं

10. पीएम स्वनिधि योजना को \_\_\_\_\_ तक बढ़ा दिया गया है।

- A. 2023
- B. 2024
- C. 2025
- D. 2026
- E. 2028

11. प्रधानमंत्री मत्स्य संपदा योजना के लिए कार्यान्वयन की अवधि क्या है?

- A. वित्त वर्ष 2015-16 से वित्त वर्ष 2022-23
- B. वित्त वर्ष 2014-15 से वित्त वर्ष 2022-23
- C. वित्त वर्ष 2018-29 से वित्त वर्ष 2023-24

D. वित्त वर्ष 2020-21 से वित्त वर्ष 2024-25

E. वित्त वर्ष 2021-22 से वित्त वर्ष 2026-27

12. द वीक मैगज़ीन \_\_\_\_\_ द्वारा जारी की गई है।

- A. द हिंदू ग्रुप
- B. पब्लिकेशन डिवीज़न
- C. इंडिया टूडे ग्रुप
- D. द मलयाला मनोरमा कं. लि.
- E. उपरोक्त में से कोई नहीं

13. भारतीय रिजर्व बैंक (RBI) देश भर में जनता के बीच विभिन्न विषयों पर वित्तीय शिक्षा संदेशों का प्रचार करने हेतु किस वर्ष से प्रत्येक वर्ष वित्तीय साक्षरता सप्ताह (FLW) आयोजित कर रहा है।

- A. 2014
- B. 2015
- C. 2016
- D. 2017
- E. 2018

14. पीएम नरेंद्र मोदी द्वारा लॉन्च की गई पोस्टल NIRYAT में 'A' का क्या अर्थ है?

- A. Ayaat
- B. Analysis
- C. Abroad
- D. Average
- E. Addition



**SBI & IBPS 2023**  
A Sure Shot Success Batch 3 (English)

WATCH DEMO CLASS

15. निम्न में से कौन विभिन्न वाणिज्यिक बैंकों और वित्तीय संस्थानों की दबावग्रस्त परिसंपत्तियों से संबंधित है?

- A. एनएबीएफआईडी (NaBFID)
- B. एनपीसीआई
- C. एनएआरसीएल
- D. नाबार्ड
- E. सिडबी

16. राष्ट्रीय खाद्य सुरक्षा अधिनियम (NFSA) के लिए राज्य रैंकिंग सूचकांक में शीर्ष तीन भारतीय राज्यों का नाम बताएं?

- A. ओडिशा, उत्तर प्रदेश और आंध्र प्रदेश
- B. तेलंगाना, कर्नाटक और मध्य प्रदेश
- C. राजस्थान, गुजरात और महाराष्ट्र
- D. बिहार, ओडिशा और झारखंड
- E. हरियाणा, पंजाब और केरल

17. भारत में कितनी क्रेडिट रेटिंग एजेंसियां हैं?

- A. चार
- B. पांच
- C. छह
- D. सात
- E. आठ

18. आरबीआई ने गैर-बैंक बीबीपीओयू (भारत बिल भुगतान परिचालन इकाइयों) हेतु प्राधिकरण प्राप्त करने के लिए आवश्यक

निवल मूल्य सीमा को 100 करोड़ रुपये से घटाकर \_\_\_\_\_ कर दिया है।

- A. 20 करोड़ रुपये
- B. 25 करोड़ रुपये
- C. 35 करोड़ रुपये
- D. 45 करोड़ रुपये
- E. 50 करोड़ रुपये

19. पीएम सहज बिजली हर घर योजना के कार्यान्वयन एजेंसी कौन सी है?

- A. एनटीपीसी
- B. ग्रामीण विद्युतीकरण निगम लिमिटेड (REC)
- C. पीएफसी
- D. एनएचपीसी
- E. उपरोक्त में से कोई नहीं

20. कौन सा विकल्प लघु बचत योजना नहीं है?

- A. सुकन्या समृद्धि स्कीम
- B. लोक भविष्य निधि (PPF)
- C. वरिष्ठ नागरिक बचत योजना
- D. राष्ट्रीय लघु बचत प्रमाणपत्र (NSC)
- E. पीएम वय वंदना योजना

21. आरोग्य संजीवनी पॉलिसी के तहत अधिकतम प्रवेश आयु कितनी है?

- A. 35 वर्ष
- B. 45 वर्ष
- C. 55 वर्ष
- D. 60 वर्ष
- E. 65 वर्ष



**SBI & IBPS 2023**  
A Sure Shot Success Batch 3 (English)

WATCH DEMO CLASS

22. अंतर्राष्ट्रीय लोकतंत्र दिवस कब मनाया जाता है?

- A. 1 जुलाई
- B. 21 मई
- C. 10 जुलाई
- D. 15 सितम्बर
- E. इनमें से कोई नहीं

23. निम्न निकायों में से किसके द्वारा जमा का प्रमाणपत्र जारी किया जा सकता है?

- A. भारतीय रिजर्व बैंक, नाबार्ड और केवल एक्जिम बैंक
- B. वाणिज्यिक बैंकों और संस्थाओं
- C. क्षेत्रीय ग्रामीण बैंक को छोड़कर अनुसूचित वाणिज्यिक बैंकों
- D. उपरोक्त सभी
- E. उपरोक्त में से कोई नहीं

24. भारत ने चाबहार बंदरगाह के संचालन को आधिकारिक तौर पर संभाल लिया है। चाबहार बंदरगाह किस देश में स्थित है?

- A. ईराक
- B. ईरान
- C. अफगानिस्तान
- D. ओमान
- E. कतर

25. मैरीना वियाज़ोवस्का, जो गणित के लिए 2022 फील्ड मेडल प्राप्त करने वाली दूसरी महिला बनीं, किस देश से संबंधित हैं?

- A. रूस
- B. ईरान
- C. फ्रांस
- D. ब्रिटेन
- E. यूक्रेन

26. लिबरलाइज्ड रेमिटेंस स्कीम के तहत अधिकतम कितनी प्रेषण राशि अनुमन्य है?

- A. 250,000 अमेरिकी डॉलर प्रति वित्तीय वर्ष
- B. USD 100,000 अमेरिकी डॉलर प्रति वित्तीय वर्ष
- C. USD 500,000 अमेरिकी डॉलर प्रति वित्तीय वर्ष
- D. USD 750,000 अमेरिकी डॉलर प्रति वित्तीय वर्ष
- E. USD 600,000 अमेरिकी डॉलर प्रति वित्तीय वर्ष

27. निम्नलिखित में से कौन सी स्पोर्ट्स कंपनी बर्मिंघम कॉमनवेल्थ 2022, हांगजो एशियाई खेल 2022 और पेरिस ओलंपिक 2024 के लिए भारतीय ओलंपिक संघ (IOA) की आधिकारिक प्रायोजक बन गई है?

- A. अदानी स्पोर्ट्सलाइन
- B. एडिडास
- C. नाइक
- D. ईएसपीएन
- E. स्काई स्पोर्ट्स



**SBI & IBPS 2023**  
A Sure Shot Success Batch 3 (English)

WATCH DEMO CLASS



28.6 क्रमागत विषम संख्याओं में से, पहली दो विषम संख्याओं का गुणनफल 483 है। सभी छह संख्याओं का औसत क्या है?

- A. 24
- B. 32
- C. 36
- D. 26
- E. 23

29.A, 3200 रुपये का निवेश करके एक साझेदारी शुरू करता है। 4 महीने के अंत में, B, 4800 रुपये का निवेश करके व्यवसाय में शामिल होता है तथा व्यवसाय शुरू होने से 5 महीने के अंत में, C, 12,800 रुपये का निवेश करके व्यवसाय में शामिल हो जाता है। यदि वर्ष के अंत में, A का लाभ का हिस्सा 1740 रुपये है, तो C का लाभ हिस्सा ज्ञात करें।

- A. 4060 रुपये
- B. 4820 रुपये
- C. 3250 रुपये
- D. 5170 रुपये
- E. इनमें से कोई नहीं

30.A और B एक-साथ एक कार्य का 50% भाग 6 दिनों में पूरा कर सकते हैं। B, A से 50% अधिक कुशल है तथा C, A से 25% अधिक कुशल है। A और C एक-साथ 75% कार्य को कितने दिनों में पूरा कर सकते हैं?

- A. 12
- B. 10
- C. 8
- D. 15
- E. 7

31. एक नाव धारा के प्रतिकूल X किमी की दूरी 44 मिनट में तथा 2X किमी की दूरी धारा के अनुकूल 1 घंटा 6 मिनट में तय करती है। स्थिर जल में नाव की गति धारा की गति से कितने प्रतिशत अधिक है?

- A. 550%
- B. 600%
- C. 625%
- D. 450%
- E. इनमें से कोई नहीं

32. चार वर्ष पूर्व, एक मां की आयु का उसकी पुत्री की आयु से अनुपात 6 : 1 था। आठ वर्ष बाद मां की आयु का पुत्री की आयु से अनुपात 8 : 3 होगा। 2 वर्ष पूर्व माता की आयु का पुत्री की वर्तमान आयु से अनुपात कितना है?

- A. 5:2
- B. 18:3
- C. 19:5
- D. 17:4
- E. इनमें से कोई नहीं

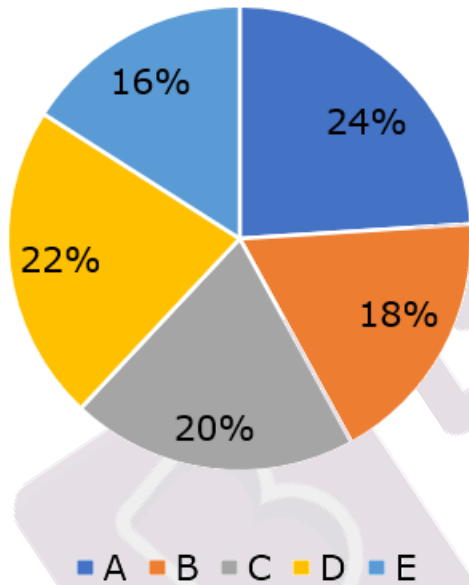
33. एक ट्रेन स्टेशन A से स्टेशन B तक 45 किमी/घंटा की गति से यात्रा करती है। वापसी की यात्रा में ट्रेन 180 किमी के लिए 30 किमी/घंटा की गति से यात्रा करती है तथा उसके बाद ट्रेन 54 किमी/घंटा की गति से यात्रा करती है। यदि वापसी की यात्रा में, ट्रेन को A से B तक यात्रा करने में लगने वाले समय से 90 मिनट अधिक समय लगता है, तो A और B के बीच की दूरी ज्ञात कीजिए।

- A. 420 किमी
- B. 315 किमी
- C. 135 किमी
- D. 480 किमी
- E. इनमें से कोई नहीं



**निर्देश:** निम्नलिखित पाई चार्ट का अध्ययन करें और दिए गए प्रश्नों के उत्तर दें।

नीचे दिया गया पाई चार्ट पांच स्कूलों अर्थात् A, B, C, D और E में एक विशेष दिन में उपस्थित छात्रों के प्रतिशत वितरण को दर्शाता है। सभी पांच स्कूलों में उपस्थित छात्रों की कुल संख्या 200 है। इसके अलावा, प्रत्येक स्कूल में छात्रों (उपस्थित + अनुपस्थित) की कुल संख्या 51 से कम है।



34. स्कूल A, B और D में एक-साथ अनुपस्थित छात्रों की अधिकतम संख्या कितनी हो सकती है?

- A. 22
- B. 25
- C. 18
- D. 14
- E. 23

35. यदि विद्यालय C में उपस्थित विद्यार्थियों की संख्या का विद्यालय E में विद्यार्थियों की कुल संख्या (उपस्थित + अनुपस्थित) से अनुपात 5:6 है। यदि विद्यालय E के विद्यार्थियों की कुल संख्या में से 62.5% लड़के हैं तथा कोई भी लड़का अनुपस्थित नहीं है, तो विद्यालय E की कितनी लड़कियां अनुपस्थित थीं?

- A. 12
- B. 20
- C. 16
- D. 15
- E. 10

36. विद्यालय C से उपस्थित छात्रों की संख्या, विद्यालय E से उपस्थित छात्रों की संख्या से कितने प्रतिशत अधिक है?

- A. 12.5%
- B. 33.33%
- C. 20%
- D. 25%
- E. इनमें से कोई नहीं

37. यदि विद्यालय A में उपस्थित 6.25% छात्रों को पुरस्कार के लिए नामांकित किया गया था, तो विद्यालय A में उपस्थित लेकिन पुरस्कार के लिए नामित न हुए छात्रों की संख्या का विद्यालय B में उपस्थित छात्रों की संख्या से अनुपात ज्ञात कीजिए।

- A. 9 : 7
- B. 5 : 4
- C. 3 : 2
- D. 7 : 8
- E. इनमें से कोई नहीं

38. नीचे दिए गए प्रश्न में तीन कथनों के बाद कुछ निष्कर्ष दिए गए हैं। आपको दिए गए कथनों को सत्य मानना है, भले ही वे सामान्यतः ज्ञात तथ्यों से भिन्न प्रतीत होते हों। सभी निष्कर्षों को पढ़ें और फिर निर्णय करें कि दिए गए निष्कर्षों में से कौन सा/से निष्कर्ष ज्ञात तथ्यों की अवहेलना किए बिना दिए गए कथनों का तार्किक रूप से अनुसरण करता है/हैं।

**कथन:**

केवल कुछ राम, डेस्क हैं  
सभी डेस्क, लार्ज हैं  
कोई सैड, रूम नहीं है  
सभी सैड, लार्ज हैं

**निष्कर्ष:**

- I. सभी डेस्क के सैड होने की संभावना है
- II. कोई रूम, राम नहीं है
- III. कुछ रूम, लार्ज नहीं हैं
- IV. सभी सैड के राम होने की संभावना है
- A. केवल III
- B. दोनों I और IV
- C. दोनों II और III
- D. केवल I
- E. केवल IV

**निर्देश:** निम्नलिखित जानकारी का ध्यानपूर्वक अध्ययन करें और तदनुसार प्रश्नों के उत्तर दें।  
चार मंजिला इमारत में आठ व्यक्ति रहते हैं, भूतल संख्या 1 और शीर्ष मंजिल संख्या 4 है। प्रत्येक मंजिल में फ्लैट-A और फ्लैट-B के रूप में 2 फ्लैट हैं। फ्लैट-A, फ्लैट-B के पश्चिम में

हैं। मंजिल 2 का फ्लैट-A मंजिल 1 के फ्लैट-A के ठीक ऊपर तथा मंजिल 3 के फ्लैट-A के ठीक नीचे है तथा आगे भी इसी तरह है। इन सभी को आठ अलग-अलग खेल पसंद हैं। G को क्रिकेट पसंद है तथा वह एक विषम संख्या वाली मंजिल पर रहता है। A उस तल के ठीक नीचे रहता है जिसमें G रहता है। A कैरम पसंद करने वाले व्यक्ति के पूर्व में रहता है। कैरम पसंद करने वाले व्यक्ति और H के मध्य एक मंजिल है। H उस व्यक्ति के ठीक ऊपर रहता है जिसे फुटबॉल पसंद है लेकिन दोनों अलग-अलग फ्लैटों पर रहते हैं। L को टेनिस पसंद है और वह उसी फ्लैट में H के नीचे रहता है। P, शतरंज पसंद करने वाले व्यक्ति के ठीक ऊपर रहता है। P और हॉकी पसंद करने वाला व्यक्ति एक ही मंजिल पर रहते हैं। P और E एक ही फ्लैट में नहीं रहते हैं। C को न तो हैंडबॉल पसंद है और न ही फुटबॉल। D, E के नीचे रहता है। D और वॉलीबॉल पसंद करने वाला व्यक्ति एक ही फ्लैट में नहीं रहते हैं।

39. C के साथ एक ही मंजिल में कौन रहता है?

- A. वह व्यक्ति जिसे हॉकी पसंद है
- B. P
- C. वह व्यक्ति जिसे टेनिस पसंद है
- D. E
- E. इनमें से कोई नहीं

 **SBI & IBPS 2023**  
A Sure Shot Success Batch 3 (English) [WATCH DEMO CLASS](#)



40. किसे वॉलीबॉल पसंद है?

- A. E
- B. H
- C. P
- D. C
- E. इनमें से कोई नहीं

41. कौन मंजिल संख्या 2 पर रहता है?

- A. वह व्यक्ति जिसे शतरंज पसंद है
- B. वह व्यक्ति जिसे कैरम पसंद है
- C. H
- D. वह व्यक्ति जिसे फुटबॉल पसंद है
- E. L

42. निम्न में से कौन सा कथन सही है?

- I. P को हॉकी पसंद है
- II. वह व्यक्ति जिसे शतरंज पसंद है सबसे ऊपरी मंजिल पर रहता है।
- III. L और C एक ही मंजिल पर रहते हैं
- A. केवल II
- B. दोनों I और III
- C. केवल III
- D. दोनों II और III
- E. सभी I, II और III

43. कौन L के साथ एक ही फ्लैट में रहता है?

- A. E
- B. D
- C. P
- D. A
- E. C

**निर्देश:** निम्नलिखित प्रश्नों में, प्रतीक @ , # , % , \$ और & का उपयोग निम्नलिखित अर्थों के साथ किया जाता है जैसा कि नीचे दिखाया गया है:

'A @ B' का अर्थ 'A या तो B से बड़ा है या उसके बराबर है'

'A # B' का अर्थ 'A, B से बड़ा या उससे छोटा नहीं है'

'A \$ B' का अर्थ 'A न तो B से बड़ा है और न ही उसके बराबर है'

'A % B' का अर्थ 'A न तो B से छोटा और न ही उसके बराबर है'

'A & B' का अर्थ 'A या तो B से छोटा या उसके बराबर है'

44. कथन:

A % Z # X \$ D & F @ R % T # Y @ U

निष्कर्ष:

I. R % U

II. A \$ F

A. केवल I अनुसरण करता है

B. केवल II अनुसरण करता है

C. दोनों I और II अनुसरण करते हैं

D. या तो I या II अनुसरण करता है

E. न तो I न ही II अनुसरण करता है



45. कथन:

L % J \$ H # G @ T @ Y # R \$ E \$ Q

निष्कर्ष:

I. G @ R

II. L & T

- A. केवल I अनुसरण करता है
- B. केवल II अनुसरण करता है
- C. दोनों I और II अनुसरण करते हैं
- D. या तो I या II अनुसरण करता है
- E. न तो I न ही II अनुसरण करता है

46. कथन:

D % R @ G @ T @ H; Q & S \$ E &

D; H # U # J

निष्कर्ष:

I. Q \$ D

II. R @ J

- A. केवल I अनुसरण करता है
- B. केवल II अनुसरण करता है
- C. दोनों I और II अनुसरण करते हैं
- D. या तो I या II अनुसरण करता है
- E. न तो I न ही II अनुसरण करता है

47. निम्नलिखित जानकारी का ध्यानपूर्वक अध्ययन करें और तदनुसार प्रश्नों के उत्तर दें।

A & B का अर्थ A, B का भाई है

A \* B का अर्थ A, B का पुत्र है

A % B का अर्थ A, B के पिता हैं

A ^ B का अर्थ A, B की बहन है

अभिव्यक्ति U ^ A \* M & P % B \* L के अनुसार, U, P से किस प्रकार संबंधित है?

- A. माता
- B. भतीजी
- C. भतीजा
- D. पुत्री
- E. इनमें से कोई नहीं



**SBI & IBPS 2023**  
A Sure Shot Success Batch 3 (English)

WATCH DEMO CLASS

## ANSWERS

1. Ans. D.

Serbia Novak Djokovic won a seventh Wimbledon men's title and 21st Grand Slam crown with a four-set triumph over Nick Kyrgios. Kyrgios gave his best to challenge the more experienced rival in his first Major final, but he could take only one set, propelling Djokovic toward the 21st Major crown.

He Wimbledon Open single title in 2011, 2014, 2015, 2018, 2019, 2021, 2022.

2. Ans. B.

\* Former Niti Aayog CEO Amitabh Kant has been appointed as the new G20 Sherpa as India takes over the G20 presidency later this year. He replaces Union minister Piyush Goyal.

\* G20 is a grouping of 19 major developed and emerging economies and the European Union. Its members account for more than 80% of global GDP, 75% of global trade, and 60% of the global population.

\* The sherpas are in charge of carrying out negotiations and building consensus among Leaders. They are also responsible for convening working groups, and special events throughout the year.

\* There was a need for a full-time Sherpa given that India was taking over the G20 presidency later this year

3. Ans. A.

\* The IUCN releases Red List of Threatened Species

\* The IUCN Red List of Threatened Species is the world's most comprehensive information source on the global extinction risk status of animal, fungus and plant species.

\* Open to all, it is used by governmental bodies, non-profit organisations, businesses and individuals.

\* The IUCN red list provides taxonomic data, conservation status, and distribution information on species that are facing a high risk of global extinction.

4. Ans. C.

\* Since 1961, international wilderness preservation organisation WWF (opens in new tab) has been recognised by an iconic logo design (opens in new tab) based on Chi Chi - a Giant Panda from.

5. Ans. D.

\* Germany hosted the 48th edition of G7 summit in June 2022.

\* Prime Minister Narendra Modi attended the Group of Seven (G7) Summit at Schloss Elmau.

\* The G7 is an informal forum of leading industrialised nations, which include Canada, France, Germany, Italy, Japan, the United Kingdom and the United States.



**SBI & IBPS 2023**  
A Sure Shot Success Batch 3 (English) [WATCH DEMO CLASS](#)

6. Ans. B.

\* The annual ranking of the World's most liveable cities has been revealed by the Economist Intelligence Unit (EIU) and the Global Liveability Index 2022 has shown some notable changes from the Global Liveability Index for 2021.

\* A total of 173 cities was ranked by EIU based on a range of criteria, including the availability of green space, infrastructure, crime rates, political stability, and health care.

\* Only one Asian city, Osaka, makes the top 10 list, tying with Melbourne for 10th place.

\* Of the 172 cities included in the rankings, many of the most livable cities can be found in Europe. However, three of the top 10 are located in Canada: Vancouver, Calgary, and Toronto.

7. Ans. D.

\* India's urban population is estimated to stand at 675 million in 2035, the second highest behind China's one billion, the U.N. has said in a report, noting that after the COVID-19 pandemic, the global urban population is back on track to grow by another 2.2 billion by 2050.

8. Ans. B.

\* Shinzo Abe was a Japanese politician who served as Prime Minister of Japan and President of the Liberal Democratic Party (LDP) from 2006 to 2007 and again from 2012 to 2020.

\* He was the longest-serving prime minister in Japanese history.

\* Abe also served as Chief Cabinet Secretary from 2005 to 2006 under Junichiro Koizumi and was briefly the opposition leader in 2012.

9. Ans. E.

\* The anti-defection law punishes individual Members of Parliament (MPs)/MLAs for leaving one party for another.

\* Parliament added it to the Constitution as the Tenth Schedule in 1985. Its purpose was to bring stability to governments by discouraging legislators from changing parties.

\* The Tenth Schedule - popularly known as the Anti-Defection Act - was included in the Constitution via the 52nd Amendment Act, 1985.

10. Ans. B.

\* The Cabinet Committee on Economic Affairs has approved extension of the Prime Minister Street Vendor's AtmaNirbhar Nidhi (PM SVANidhi) beyond March 2022 till December 2024.

\* This has been done keeping in mind the impact of the pandemic-related stress on small businesses.

\* The official statement said that the scheme would focus on enhanced collateral-free affordable loan corpus, increased adoption of digital transactions and holistic socio-economic development of the Street Vendors and their families.

11. Ans. D.

\* The Pradhan Mantri Matsya Sampada Yojana (PMMSY) is a flagship scheme for focused and sustainable development of



**SBI & IBPS 2023**  
A Sure Shot Success Batch 3 (English)

**WATCH DEMO CLASS**

fisheries sector in the country with an estimated investment of Rs. 20,050 crores for its implementation during a period of 5 years from FY 2020-21 to FY 2024-25 in all States/Union Territories, as a part of AatmaNirbhar Bharat Package.

\* The investment of Rs. 20,050 crores under PMMSY is the highest ever in the fisheries sector.

\* Out of this, an investment of about Rs 12340 crores is proposed for beneficiary-oriented activities in Marine, Inland fisheries and Aquaculture and about Rs 7710 crores investment for Fisheries Infrastructure.

\* PMMSY aims at enhancing fish production by an additional 70 lakh tonne by 2024-25, increasing fisheries export earnings to Rs.1,00,000 crore by 2024-25, doubling of incomes of fishers and fish farmers, reducing post-harvest losses from 20-25% to about 10% and generation of additional 55 lakhs direct and indirect gainful employment opportunities in fisheries sector and allied activities.

12. Ans. D.

\* The Week is an Indian news magazine founded in the year 1982 and published by The Malayala Manorama Co. Ltd.

\* The magazine is published from Kochi and is currently printed in Delhi, Mumbai, Bangalore and Kottayam. According to the Audit Bureau of Circulations, it is the

largest circulated English news magazine in India.

\* The magazine covers politics, entertainment, social issues, trends, technology and lifestyle.

13. Ans. C.

\* Reserve Bank of India (RBI) has been conducting Financial Literacy Week (FLW) every year since 2016 to propagate financial education messages on various themes among members of public across the country.

\* The theme selected for current year FLW is "Go Digital, Go Secure" which will be observed between February 14-18, 2022. This theme is one of the strategic objectives of the National Strategy for Financial Education 2020-2025.

\* Focus will be on creating awareness about (a) Convenience of digital transactions; (b) Security of digital transactions; and (c) Protection of customers.

14. Ans. B.

\* Prime Minister Narendra Modi launched new portal NIRYAT (National Import-Export Record for Yearly Analysis of Trade) - a one-stop place for all info needed on India's foreign trade.

15. Ans. C.

\* The National Asset Reconstruction Company Limited (NARCL) was incorporated in July 2021 as a 'bad bank' to help dispose of the stressed assets of the commercial banks.

\* The National Asset Reconstruction Company Ltd or NARCL is the name of the asset reconstruction



**SBI & IBPS 2023**  
A Sure Shot Success Batch 3 (English)

**WATCH DEMO CLASS**



company incorporated to take over and dispose of the stressed assets of commercial banks.

\* Stressed assets of commercial banks worth Rs 2 lakh crore have been identified to be taken up in the first phase by the NARCL.

\* NARCL will be starting with a total capital of Rs 6,000 crore.

\* In October 2021, NARCL received the RBI's license to enable it to commence operations as a 'bad bank'.

\* Public Sector Banks (PSBs) have a 51% ownership of NARCL.

\* Banks will aggregate and consolidate stressed assets with NARCL for resolution.

\* NARCL's Managing Director is PM Nair, a stressed assets expert from the State Bank of India (SBI).

16. Ans. A.

\* Odisha has been adjudged the top ranked State followed by Uttar Pradesh at the 2nd spot and Andhra Pradesh at third amongst the General Category States in 'State Ranking Index for NFSA'.

\* Among the Special Category states/UTs, Tripura stood first followed by Himachal Pradesh and Sikkim respectively.

\* Further, among the 3 UTs where Direct Benefit Transfer (DBT)- Cash is operational, Dadra and Nagar Haveli & Daman and Diu is the top ranked UT.

17. Ans. D.

\* There are a total of seven credit agencies in India viz, CRISIL, CARE, ICRA, SMREA, Brickwork Rating,

India Rating and Research Pvt. Ltd and Infometrics Valuation and Rating Private Limited.

\* Credit rating is a numerical representation of the creditworthiness of an individual or a business. The credit rating is a key aspect that makes or breaks a loan application. The credit rating/score acts as an indicator stating if the borrower has defaulted on loan payments before and if he/she is worth trusting with the new loan.

18. Ans. B.

\* Non-banking companies now need ₹25 crore minimum net worth to set up Bharat Bill Payment Operating Units (BBPOU), the Reserve Bank of India (RBI) informed on May 26.

\* The minimum net-worth criterion for non-bank firms has been lowered from the earlier minimum net worth requirement of ₹100 crore.

\* This means that developing a payment app will be easier now, and businesses like Phonepe, Google Pay and Paytm will face increased competition.

19. Ans. B.

\* Pradhan Mantri Sahaj Bijli Har Ghar Yojana –"Saubhagya" is a scheme to ensure electrification of all willing households in the country in rural as well as urban areas.

\* For easy and accelerated implementation of the Scheme, modern technology shall be used for household survey by using Mobile App.



**SBI & IBPS 2023**  
A Sure Shot Success Batch 3 (English) [WATCH DEMO CLASS](#)



\* Beneficiaries shall be identified and their application for electricity connection along with applicant photograph and identity proof shall be registered on spot.

\* The Gram Panchayat/Public institutions in the rural areas may be authorised to collect application forms along with complete documentation, distribute bills and collect revenue in consultation with the Panchayat Raj Institutions and Urban Local Bodies.

\* The Rural Electrification Corporation Limited (REC) will remain the nodal agency for the operationalisation of the scheme throughout the country.

20. Ans. E.

\* Pradhan Mantri Vaya Vandana Yojana (PMVVY) is a Pension Scheme announced by the Government of India exclusively for the senior citizens aged 60 years and above which was available from 4th May, 2017 to 31st March, 2020. The scheme is now extended up to 31st March, 2023 for a further period of three years beyond 31st March, 2020.

21. Ans. E.

\* The minimum and maximum entry age under the Arogya Sanjeevani Policy is 18 years and 65 years respectively.

\* The policy allows the inclusion of children aged 3 months to 25 years under the family floater type.

22. Ans. D.

International Democracy Day is being observed on 15<sup>th</sup> September

to raise public awareness about the democratic system.

**Note:** This year's theme is "Democracy and the 2030 Agenda for Sustainable Development".

23. Ans. D.

Certificate of Deposit can be issued by Reserve Bank, NABARD, Exim Bank, Commercial banks, term lending institutions, Scheduled commercial banks excluding regional rural banks.

24. Ans. B.


\* Chabahar Port is a seaport in Chabahar located in southeastern Iran, on the Gulf of Oman. It serves as Iran's only oceanic port, and consists of two separate ports named Shahid Kalantari and Shahid Beheshti, each of which has five berths

\* Indian firm **India Ports Global Limited** took over the operations of the **Shaheed Beheshti Port at Chabahar** on the southeastern coast of Iran, being jointly developed by India, Iran and Afghanistan.

\* The company opened its office following the first meeting of the follow-up committee for implementation of the trilateral Chabahar Agreement between India, Afghanistan and Iran.

\* "It was agreed to allow cargo movement at Chabahar using TIR Convention provisions."

\* TIR stands for "Transports Internationaux Routiers" or 'International Road Transports.'

 **SBI & IBPS 2023**  
A Sure Shot Success Batch 3 (English) **WATCH DEMO CLASS**

25. Ans. E.

\* Ukrainian mathematician, Maryna Viazovska has been named as one of four recipients of the 2022 Fields Medal for mathematics.

\* She is the second woman to win the Fields Medal after Maryam Mirzakhani (Iranian), who received the prize in 2014.

\* Other winners: Frenchman Hugo Duminil-Copin, Korean-American June Huh, Britisher James Maynard

\* The Fields Medal is awarded by the International Mathematical Union (IMU).

26. Ans. A.

\* Under the Liberalized Remittance Scheme, all resident individuals, including minors, are allowed to freely remit up to USD 2,50,000 per financial year (April – March) for any permissible current or capital account transaction or a combination of both.

\* Further, resident individuals can avail of foreign exchange facility for the purposes mentioned in Para 1 of Schedule III of FEM (CAT) Amendment Rules 2015, dated May 26, 2015, within the limit of USD 2,50,000 only.

\* The Scheme was introduced on February 4, 2004, with a limit of USD 25,000.

### **Prohibited items under the Scheme**

- Purchase of lottery tickets.
- Remittances for purchase of FCCBs issued by Indian companies in the overseas secondary market.

- Remittance for trading in foreign exchange abroad.

- Remittances directly or indirectly to those individuals and entities identified as posing significant risk of committing acts of terrorism.

### **Remittances can be made for following: -**

- Private visits to any country
- Gift or donation
- Going abroad for employment
- Maintenance of close relatives abroad
- Travel for business,
- Medical treatment abroad
- Studies abroad

27. Ans. A.

\* Adani Sportsline has become the principal sponsor with the Indian Olympics Association (IOA) for the upcoming games, Birmingham Commonwealth 2022, Hangzhou Asian Games 2022, and Paris Olympic 2024.

\* This is the second time that the Adani Group has collaborated with IOA after the Tokyo Olympics.

\* Over 28 athletes have been supported by the Adani Sportsline's athlete support initiative, #GarvHai, across a variety of sports.

28. Ans. D.

Let the first two odd numbers be  $(x - 1)$  and  $(x + 1)$ .

$$\text{Then, } (x - 1)(x + 1) = 483$$

$$\Rightarrow x^2 - 1 = 483$$

$$\Rightarrow x^2 = 484$$

$$\Rightarrow x = 22$$

$$\Rightarrow x - 1 = 21$$

So, the 6 numbers are 21, 23, 25, 27, 29 and 31.



**SBI & IBPS 2023**  
A Sure Shot Success Batch 3 (English)

**WATCH DEMO CLASS**

Sum of numbers =  $21 + 23 + 25 + 27 + 29 + 31 = 156$

Required average =  $\frac{156}{6} = 26$

29. Ans. A.

Ratio of profit shares of A, B and C =  $3200 \times 12 : 4800 \times 8 : 12800 \times 7$

=  $3 : 3 : 7$

Let the profit shares of A, B and C be  $3x$ ,  $3x$  and  $7x$  respectively.

Profit share of C =

$$\frac{1740}{3} \times 7 = \text{Rs. } 4060$$

30. Ans. B.

Let the efficiency of A be 4 units/day.

Then, efficiency of B = 150% of 4 = 6 units/day

Efficiency of C = 125% of 4 = 5 units/day

50% of work =  $6(4 + 6) = 60$  units

Total work = 120 units

75% of work = 75% of 120 = 90 units

Time required by A and C together to complete 90 units =

$$\frac{90}{4 + 5} = 10 \text{ days}$$

31. Ans. B.

Let the speed of boat in still water and the speed of stream be  $m$  km/h and  $n$  km/h respectively.

$$\frac{X}{m - n} = \frac{44}{60} \dots\dots(1)$$

$$\text{Also, } \frac{2X}{m + n} = \frac{66}{60} \dots\dots(2)$$

Dividing (1) by (2) we get:

$$\frac{m + n}{2(m - n)} = \frac{2}{3}$$

$$3m + 3n = 4m - 4n$$

$$m = 7n$$

Speed of boat in still water is 700% of the speed of stream. So, speed of boat in still water is 600% percentage more than the speed of stream.

32. Ans. C.

Let the age of mother 4 years ago be  $6x$  years.

Then the age of daughter 4 years ago =  $x$  years

According to question,

$$\frac{6x + 12}{x + 12} = \frac{8}{3}$$

$$\Rightarrow 18x + 36 = 8x + 96$$

$$\Rightarrow 10x = 60$$

$$\Rightarrow x = 6$$

Mother's age 2 years ago =  $6 \times 6 + 2 = 38$  years

Present age of daughter =  $6 + 4 = 10$  years

Required ratio =  $38 : 10 = 19 : 5$

33. Ans. B.

Let the distance between A and B be  $X$  km.

$$\frac{X}{45} = \frac{180}{30} + \frac{X - 180}{54} - \frac{90}{60}$$

$$\Rightarrow \frac{X}{45} - \frac{X - 180}{54} = 4.5$$

$$\Rightarrow \frac{6X - 5X + 900}{270} = 4.5$$

$$\Rightarrow X = 270 \times 4.5 - 900 = 315$$

34. Ans. A.

Maximum possible number of students in any school = 50

Number of students who were absent in school A, B and D together =  $(24 + 18 + 22)\%$  of 200 =  $64\%$  of 200 = 128



**SBI & IBPS 2023**  
A Sure Shot Success Batch 3 (English)

WATCH DEMO CLASS

maximum number of students who were absent in school A, B and D together =  $150 - 128 = 22$

35. Ans. C.

Let number of present students in school C be  $5x$ .

So, number of students (present + absent) in school E =  $6x$

$$5x = 40$$

$$\Rightarrow x = 8$$

$$\Rightarrow 6x = 48$$

$$62.5\% = 5/8$$

Number of boys in school E =  $\frac{5}{8} \times 48 = 30$

Number of girls in school E =  $48 - 30 = 18$

Number of girls in school E who were present =  $32 - 30 = 2$

Number of girls in school E who were absent =  $18 - 2 = 16$

36. Ans. D.

Required percentage =  $\frac{20 - 16}{16} \times 100 = 25\%$

37. Ans. B.

$$6.25\% = \frac{1}{16}$$

Number of students nominated for a prize in school A =

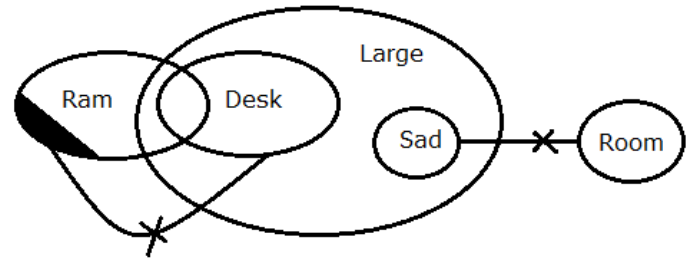
$$\frac{1}{16} \times \frac{24}{100} \times 200 = 3$$

Number of students who were present but not nominated for prize in school A =  $48 - 3 = 45$

Number of students present in school B =  $18\% \text{ of } 200 = 36$

Required ratio =  $45 : 36 = 5 : 4$

38. Ans. B.



39. Ans. C.

Floor	A	B
4	H - Volleyball	E - Handball
3	G - Cricket	D - Football
2	P - Carom	A - Hockey
1	L - Tennis	C - Chess

40. Ans. B.

Floor	A	B
4	H - Volleyball	E - Handball
3	G - Cricket	D - Football
2	P - Carom	A - Hockey
1	L - Tennis	C - Chess

41. Ans. B.

Floor	A	B
4	H - Volleyball	E - Handball
3	G - Cricket	D - Football
2	P - Carom	A - Hockey
1	L - Tennis	C - Chess

**SBI & IBPS 2023**  
A Sure Shot Success Batch 3 (English)

WATCH DEMO CLASS

42. Ans. C.

Floor	A	B
4	H - Volleyball	E - Handball
3	G - Cricket	D - Football
2	P - Carom	A - Hockey
1	L - Tennis	C - Chess

43. Ans. C.

Floor	A	B
4	H - Volleyball	E - Handball
3	G - Cricket	D - Football
2	P - Carom	A - Hockey
1	L - Tennis	C - Chess

44. Ans. A.

$A > Z = X < D \leq F \geq R > T = Y \geq U$

45. Ans. A.

Statement:

$L \% J \$ H \# G @ T @ Y \# R \$ E \$ Q$

Conclusion:

I.  $G @ R$  - follows

II.  $L \& T$  - Does not follow

46. Ans. C.

Statement:

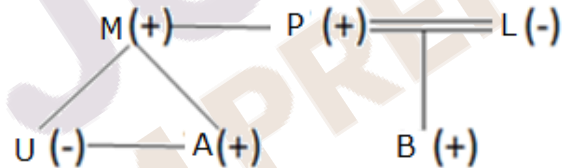
$D \% R @ G @ T @ H; Q \& S \$ E \& D; H \# U \# J$

Conclusion:

I.  $Q \$ D$  - follows

II.  $R @ J$  - follows

47. Ans. B.





**SBI & IBPS 2023**  
A Sure Shot Success Batch 3 (English)

WATCH DEMO CLASS