

PART – I
(1) GENERAL ENGLISH

Directions (1-2) : In each group of words given below only one word is spelt correctly. Choose the one.

1. A. Nutritous B. Nutrishus
C. Nutritius D. Nutritious
2. A. Mangificent B. Magnificent
C. Magneficient D. Megnificient

Directions (3 – 5) : Each of the following sentences has been divided into four parts. There is an error in one of the parts. Identify the part which has the error.

3. No sooner did / the thief see /
(1) (2)
the policeman when / he ran away.
(3) (4)
4. Ram is / anxious to see / you for the /
(1) (2) (3)
last one week.
(4)
5. I asked / my father / if I can / take his pen
(1) (2) (3) (4)

Directions (6 – 7) : Each of the following idioms is followed by four meanings of which only one is correct. Choose the correct one.

6. to take away one's breath
A. to surprise one
B. to hit one badly
C. to kill one
D. to take away one's money
7. a dead letter
A. one which has not been posted
B. one of rejection
C. no longer in use
D. one that has not reached its destination

Directions (8 – 9) : Choose the correct alternative to complete each of the following sentences :

8. You _____ be mad if you think I am going to lend you more money.
A. might B. ought to
C. should D. must

9. Eating sweets _____ be bad for your teeth.

- A. should B. would
C. ought to D. may

Directions (10 – 11) : In each of the following items choose the words opposite in meaning to the given word.

10. SACRED
A. Unholy B. Open
C. False D. Inauspicious
11. SOBER
A. Crooked B. Drunk
C. Unwise D. Cruel

Directions (12 – 13) : Out of the given alternatives, choose the word which most closely fits each definition.

12. One who has vowed not to marry
A. Spinster B. Bachelor
C. Celibate D. Callous
13. A self-centred person
A. Arrogant B. Profane
C. Egoist D. Clever

Directions (14 – 15) : Choose the word from the given options which best expresses the meaning of the given word :

14. RADIANT
A. Famous B. Bright
C. Just D. Timely
15. STRICTURE
A. Criticism B. Harshness
C. Despot D. Passion

भाग - I

(2) सामान्य हिन्दी

16. निम्नलिखित में से कौन सा शब्द सर्वनाम है?
A. राधा B. वह
C. सुन्दर D. विभीषण
17. 'उन्मूलन' का विपरीतार्थक शब्द निम्नलिखित विकल्पों में से छांटिए :
A. रोपण B. विलोमन
C. अनुकूलन D. विनाशन

18. निम्नलिखित वाक्यों में से अशुद्ध वाक्य का चयन कीजिए :
- A. लड़की दौड़ती है |
B. शहर अच्छा है |
C. बादशाह खांसती है |
D. होटल ठीक है |
19. 'दोपहर का समय' - के लिए निम्नलिखित शब्दों में से कौन सा उपयुक्त है? चिह्नित कीजिए |
- A. रात
B. संध्या
C. अपराह्न
D. मध्याह्न
20. 'आँखें चार होना' - मुहावरे के अर्थ का दिए गए विकल्पों में से चयन कीजिए |
- A. प्रेम होना
B. द्रष्टि गिनना
C. रतौंधी होना
D. परेशान होना
21. 'अकल पर पत्थर पड़ना' - मुहावरे के अर्थ का निम्नांकित विकल्पों में से चयन कीजिए :
- A. चोट लगना
B. बुद्धि भ्रष्ट होना
C. कठिन वाक्य
D. मुसीबत
22. 'शीला आई और अंधे को सहारा दिया |'
यह वाक्य किस वाक्य-भेद का उदाहरण है? सही विकल्प बताइए |
- A. संयुक्त वाक्य
B. मिश्र वाक्य
C. नकारात्मक वाक्य
D. प्रश्नवाचक वाक्य
23. निम्नलिखित विकल्पों में से 'देवालय' शब्द का सन्धि-विच्छेद चिह्नित कीजिए :
- A. देवा + लय
B. देवा: + लय
C. देव + आलय
D. दे + वालय
24. 'फ' वर्ण का उच्चारण स्थान बताइए |
- A. मूर्धा
B. तालु
C. कंठ
D. ओष्ठ
25. सही विकल्प को चुनकर निम्नलिखित वाक्य के रिक्त स्थान की पूर्ति कीजिए :
- नाच न आवे _____ टेढ़ा
- A. उँगली
B. पैर
C. आँगन
D. घड़ा
26. निम्नलिखित में से किस शब्द में 'अ' उपसर्ग है? सही विकल्प बताइए |
- A. अनेक
B. अमर
C. अतिशय
D. अधिभार
27. 'छात्रावास' में कौन सी सन्धि है? सही विकल्प बताइए |
- A. दीर्घ
B. गुण
C. वृद्धि
D. अयादि
28. 'ने' किस कारक की विभक्ति है? सही विकल्प चुनिए |
- A. कर्म
B. सम्बन्ध
C. कर्ता
D. अधिकरण
29. निम्नलिखित शब्दों में से अशुद्ध वर्तनी वाले शब्द का चयन कीजिए :
- A. महीना
B. अनुगृह
C. क्रिया
D. सप्ताह
30. 'शक्ति की उपासना करने वाले' को क्या कहते हैं? सही विकल्प बताइए |
- A. शैव
B. वैष्णव
C. शाक्त
D. नाथपन्थी

PART – II
(1) CURRENT AFFAIRS

31. निम्नलिखित जगहों में से यू.एन.ई.एस.सी.ओ. (यूनेस्को) का वर्तमान मुख्यालय कहाँ पर स्थित है?
A. न्यूयॉर्क B. जेनेवा
C. स्विट्ज़रलैंड D. पेरिस
32. निम्नलिखित में से अंतरराष्ट्रीय न्यायालय कहाँ पर स्थित है?
A. बर्लिन B. द हेग
C. बार्सिलोना D. न्यूयॉर्क
33. 2017 में खेले गये महिला रग्बी विश्व कप को निम्नलिखित में से किस देश ने जीता है?
A. इंग्लैंड B. न्यूजीलैण्ड
C. कनाडा D. ऑस्ट्रेलिया
34. 2017 के सन्दर्भ में पुस्तकों और उनके लेखकों का निम्न में से सही मेल-मिलान कौन सा है?
a. फर्स्ट लव i. सारा बॉम
b. ए लाइन मेड बाय ii. गर्वेडोलिन राइले वाकिंग
c. द हर्ट्स iii. वियत थत्र ग्युयेन इनविजिबल फ्यूरिस
d. द रिफ्यूजीस iv. जॉन बायने
- | | | | | |
|----|----|-----|-----|-----|
| | a | b | c | d |
| A. | iv | iii | ii | i |
| B. | ii | iii | i | iv |
| C. | ii | i | iv | iii |
| D. | i | ii | iii | iv |
35. विश्व स्वास्थ्य संगठन का मुख्यालय कहाँ पर स्थित है?
A. जेनेवा B. मेड्रिड
C. न्यूयॉर्क D. जर्मनी
36. निम्नलिखित में से कौन सा विकल्प एशियन एथलेटिक्स चैंपियनशिप, 2017 में विभिन्न देशों द्वारा जीते गये स्वर्ण पदक का क्रमानुसार हिसाब बताता है?
A. चीन, भारत, कज़ाकिस्तान, ईरान
B. भारत, कज़ाकिस्तान, चीन, ईरान
C. ईरान, भारत, चीन, कज़ाकिस्तान
D. भारत, चीन, कज़ाकिस्तान, ईरान
37. हाल ही में, अमरीका की प्रतिनिधि सभा ने भारत के सुरक्षा में सहयोग देने के लिये निम्नलिखित में से किस अधिनियम का संशोधन किया है?
A. नेशनल डिफेंस एक्ट, 2017
B. नेशनल डिफेंस ऑथोराइजेशन एक्ट, 2018
C. नेशनल डिफेंस एक्ट, 1980
D. नेशनल डिफेंस ऑथोराइजेशन एक्ट, 2020
38. 2017 के नवम्बर माह में निर्धारित बंगाल की खाड़ी में पहला खोज एवं बचाव अभ्यास का निम्नलिखित में से क्या नाम है?
A. आई एम एम ई एस ए आर ई एक्स
B. आई एम एम ए ए आर ई एक्स
C. आई एम एम ए एस ए आर ई एक्स
D. टी आई एम ए एस ए आर ई एक्स
39. भारत में खेले गए अंडर 17 फीफा विश्व कप 2017 फुटबॉल प्रतियोगिता का मैसकोट क्या था?
A. शैरा B. भोलू
C. खेलइयो D. अप्पू
40. प्राकृतिक संरक्षण के अंतरराष्ट्रीय संघ का मुख्यालय कहाँ पर स्थित है?
A. पेरिस, फ्रांस
B. ग्लैंड, स्विट्ज़रलैंड
C. वियत्रा, ऑस्ट्रिया
D. न्यूयॉर्क, यू.एस.ए.
41. 2017 में निम्नलिखित में से किस शहर ने 'भारत का त्यौहार' की मेजबानी की थी?
A. दिल्ली B. एम्स्टरडम
C. रोट्टरडम D. द हेग

42. भारतीय संविधान के किस अनुच्छेद के अंतर्गत, केंद्र सरकार ने अगस्त 2017 में अन्य पिछड़े वर्गों के उपवर्गीकरण के परिक्षण के लिए आयोग का गठन किया?
- A. अनुच्छेद 338 B. अनुच्छेद 338A
C. अनुच्छेद 340 D. अनुच्छेद 341
43. 2017 के एशियन एथलेटिक्स चैंपियनशिप की मेज़बानी निम्नलिखित में से किस शहर ने की थी?
- A. दिल्ली B. बेंगलुरु
C. भुवनेश्वर D. चंडीगढ़
44. 2017 में खेले गये एशियन एथलेटिक्स चैंपियनशिप के 10,000 मीटर की दौड़ में निम्नलिखित में से किसने स्वर्ण पदक जीता था?
- A. गोविंदन लक्ष्मनन
B. अदिलत किष्ताबेकोव
C. गोपी थोनाकल
D. चेन चीक
45. 2017 में खेले गए एशियन एथलेटिक्स चैंपियनशिप में पुरुषों के वर्ग में जेवलीन थ्रो की प्रतियोगिता में किस देश ने स्वर्ण पदक जीता?
- A. कतर B. भारत
C. चीन D. थाईलैंड
46. 2017 में निम्नलिखित में से किस दिन 'अंतराष्ट्रीय शिक्षक दिवस' मनाया गया था?
- A. जून, 24 B. मई, 24
C. सितंबर, 5 D. अक्टूबर, 5
47. निम्नलिखित में से राष्ट्रीय विद्युत गतिशीलता मिशन योजना, 2020 कौन सी है?
- A. राष्ट्रीय ईंधन के सुरक्षा के लिये हार्डब्रिड और इलेक्ट्रिक वाहनों को बढ़ावा देना |
B. राष्ट्रीय ईंधन के सुरक्षा के लिये डीजल इंजन को इलेक्ट्रॉनिक इंजन से बदलना |
C. राष्ट्रीय ईंधन के सुरक्षा के लिये कोयला इंजन को इलेक्ट्रिक इंजन से बदलना |
D. राष्ट्रीय ईंधन सुरक्षा के लिये पेट्रोल इंजन को डीजल इंजन से बदलना |
48. इस वर्ष 'विश्व कैंसर दिवस' निम्नलिखित में से किस दिन मनाया गया था?
- A. फरवरी, 1 B. जनवरी, 26
C. फरवरी, 4 D. फरवरी, 14
49. इस वर्ष, 1 मार्च को निम्नलिखित में से कौन सा दिवस मनाया गया था?
- A. आत्म चोट जागरूकता दिवस
B. रक्त कैंसर जागरूकता दिवस
C. आंतकवाद विरोधी दिवस
D. राष्ट्रीय युवा दिवस
50. 2017 में निम्नलिखित में से किस दिन अंतराष्ट्रीय प्रसन्नता दिवस मनाया गया था?
- A. मार्च, 25 B. फरवरी, 14
C. जनवरी, 1 D. मार्च, 20
51. इस वर्ष निम्नलिखित में से, कौन से दिन को 'अंतराष्ट्रीय प्रकृति संरक्षण दिवस' के रूप में मनाया गया था?
- A. 15, अगस्त B. 28, जुलाई
C. 27, जून D. 25, मार्च
52. हाल ही में 'द मिनिस्ट्री ऑफ अट्मोस्ट हैपीनेस' नामक पुस्तक को निम्नलिखित में से किसने लिखा है?
- A. सी. एम. पोखरीयाल
B. अरुंधती रॉय
C. डेविड ग्रॉसमेन
D. माइकल क्लार्क
53. निम्नलिखित में से किस प्रसिद्ध कवि को 2017 में आयोजित चौथा कलिंगा साहित्य पुरस्कार प्रदान किया गया?
- A. हेमंत मोहापात्रा B. अनिल चावड़ा
C. हरप्रसाद दास D. तपन कुमार प्रधान

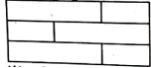
54. हाल ही में प्रकाशित 'इंदिरा गाँधी : ए लाइफ इन नेचर' को किसने लिखा है?
A. जय राम रमेश B. एम. वीरप्पा मौड़ली
C. डी जी. तेंदुलकर D. किरेन रिजिजू
55. 2017 में अश्विनी कुमार ने निम्नलिखित में से किस पुस्तक को लिखा है?
A. द राइज ऑफ सिवागामी
B. गाँधी इन चंपारन
C. होप इन ए चैलेज्ड डेमोक्रेसी : एन इंडियन नैरेटिव
D. द फ्लेमिंग ट्रेसस ऑफ द्रोपदी
56. 2017 में प्रकाशित किताबों और उनके लेखकों का निम्नलिखित में से सही मेल-मिलान कौन सा है?
a. इस्तानबुल; ए टेल ऑफ श्री सिटीज i. पंकज मिश्रा
b. एज ऑफ एंगर: ए हिस्ट्री ऑफ द प्रेजेंट ii. पॉल ऑस्टर
c. 4321 : ए नावेल iii. साराह क्रॉसन और ब्रायन कोनागन
d. वी कम अपार्ट iv. बेटटनी हौग्स
- a b c d
A. iv iii ii i
B. iv i ii iii
C. i ii iii iv
D. iii iv ii i
57. हाल ही में लॉन्च किये गए ई- रकम पोर्टल के संबंध में कौन सा कथन सही है?
A. मुद्राओं का आदान-प्रदान करने का डिजिटल प्लेटफॉर्म |
B. कृषि उत्पादों को खरीदने और बेचने का डिजिटल प्लेटफॉर्म
C. कर चुकाने का डिजिटल प्लेटफॉर्म
D. आयात और निर्यात का डिजिटल प्लेटफॉर्म
58. निम्नलिखित में से कौन सा कथन भारतीय सरकार द्वारा लॉन्च किये गये 'आरंभ' नामक मोबाइल एप्प के लिए सही है?
A. यह एप्प सड़कों के रखरखाव के अनुपालन के लिये है |
B. यह एप्प इमारतों के रखरखाव के अनुपालन के लिये है |
C. यह एप्प जलाशयों के रखरखाव के अनुपालन के लिये है |
D. यह एप्प स्वच्छता के रखरखाव के अनुपालन के लिये है |
59. निम्नलिखित में से कौन से संस्थान ने हाल ही में 'मैटर इंडिया' प्रोग्राम की पहल की है?
A. श्रम आयोग
B. नीति आयोग
C. नमो गंगे आयोग
D. मेक इन इंडिया अभियान
60. निम्नलिखित में से कौन सी राज्य सरकार ने हाल ही में बहरत की सर्वप्रथम छात्र स्टेटअप और नवाचार नीति की शुरुआत की है?
A. गुजरात सरकार B. दिल्ली सरकार
C. हरियाणा सरकार D. तमिलनाडु सरकार
61. 2017 के 'नविका सागर परिक्रमा परियोजना' के बारे में निम्नलिखित में से कौन सा कथन सही है?
A. केवल महिला चालक द्वारा सबसे पहली भारतीय समस्त भूमंडल की परिधि नौयात्रा |
B. भारतीय पुरुषों द्वारा महासागर की प्रथम परिधि यात्रा |
C. भारतीयों द्वारा समुद्रों और महासागरों की प्रथम नौयात्रा |
D. पहली अंतराष्ट्रीय परिधि नौयात्रा |

62. 2017 के राष्ट्रीय बालिका दिवस का विषय कौन सा है?
- A. बाल विवाह निषेध
B. लड़कियों की सुरक्षा
C. बेटी बचाओ, बेटी पढाओ
D. बेटी बचाओ, बेटी बढाओ
63. निम्नलिखित में से कौन सा कथन नवीनतम "ओपन एकीएज लाइसेंसिंग पोलिसी फॉर ऑयल एण्ड गैस एक्सप्लोरेशन" के बारे में सही है?
- A. यह तेल अन्वेषण लाइसेंसिंग नीति को अनुबंधित करता है।
B. यह बोलीदाताओं को उन क्षेत्रों को उत्कीर्ण करने की अनुमति देता है जहाँ वे ड्रिल करना चाहते हैं।
C. यह गैस अन्वेषण लाइसेंसिंग नीति को अनुबंधित करता है।
D. यह तेल और गैस के निर्यात की अनुमति देता है।
64. 2017 में निम्नलिखित में से कौन सा देश सुरक्षा पर G7 इंटरियर मिनिस्टर्स शिखर सम्मेलन की मेजबानी कर रहा है?
- A. कनाडा B. इटली
C. फ्रांस D. जापान
65. 2017 में निम्नलिखित में से किस दिन को अंतरराष्ट्रीय साक्षरता दिवस के रूप में मनाया गया?
- A. अगस्त, 15 B. जनवरी, 26
C. सितंबर, 8 D. अप्रैल, 24
66. निम्नलिखित में से उत्तरी अटलांटिक सन्धि संगठन (नाटो) का मुख्यालय कहाँ पर स्थित है?
- A. ब्रुसेल्स, बेल्जियम B. बर्लिन, जर्मनी
C. काठमांडू, नेपाल D. पेरिस, फ्रांस
67. 2017 में निम्नलिखित में से किस दिन को राष्ट्रीय बालिका दिवस के रूप में मनाया गया था?
- A. अगस्त, 15 B. अगस्त, 24
C. जनवरी, 26 D. जनवरी, 24
68. 2017 की महिला रग्बी विश्व कप प्रतियोगिता किस देश में आयोजित हुई थी?
- A. आयरलैंड B. इंग्लैंड
C. कनाडा D. फ्रांस
69. निम्नलिखित में से किसने पुरुषों के UEFA वार्षिक खिलाड़ी पुरस्कार को 2016/17 सत्र में जीता है?
- A. पाउलो डिबोला B. क्रिस्टियानो रोनाल्डो
C. लियोनल मेस्सी D. केसमीरो
70. विश्व स्वास्थ्य संगठन के अनुसार निम्नलिखित में से किस देश में अभी भी पोलियो पाया जा रहा है?
- A. सोमालिया B. भारत
C. पाकिस्तान D. बांग्लादेश

PART – II

(2) REASONING ABILITY

71. यदि किसी महीने का पहला और अंतिम दिन रविवार हो, तथा महीने में 5 रविवार हों, तो वह महीना कितने दिन का होगा?
- A. 28 B. 29
C. 30 D. 31
72. निम्नलिखित श्रेणी में छूटा हुआ पद ज्ञात कीजिए :
- 0, 4, 18, 48, ?, 180, 294
- A. 72 B. 90
C. 100 D. 142
73. निम्न अंकों में से कौन सा अंक दूसरे अंकों से मेल नहीं खाता?
- 125, 343, 512, 476, 216
- A. 476 B. 343
C. 216 D. 125

74. दिये गये अंकों में से कौन सा अंक अन्य से भिन्न है?
325, 473, 246, 583, 684
A. 684 B. 583
C. 473 D. 325
75. यदि किसी महीने की तीसरी तारीख को रविवार हो तथा महीने में 5 रविवार हों, तो उस महीने में कुल कितने दिन होंगे?
A. 31 दिन B. 30 दिन
C. 29 दिन D. 28 दिन
76. यदि एक सांकेतिक भाषा में 253 को 352 तथा 475 को 574 लिखा जाता है, तो 2317 को लिखा जायेगा :
A. 7321 B. 7231
C. 7123 D. 7132
77. यदि किसी वर्ष के जुलाई माह में 25 तारीख को ब्रहस्पतिवार है, तो उस माह में कितने मंगलवार होंगे?
A. 3 B. 4
C. 5 D. 6
78. निम्नलिखित पदों में से कौन सा पद दी हुई श्रेणी का अगला पद है?
ACX, BDU, CER, DFO, ?
A. FHN B. EGL
C. DHN D. DGM
79. निम्नलिखित में से कौन सा अंक दी गई श्रेणी के छूटे हुए पद को पूरा करेगा?
1, 8, ?, 64, 25, 216
A. 4 B. 9
C. 27 D. 49
80. दिए गए विकल्पों में से उस शब्द को चुनिए जिसे दिए गए शब्द के अक्षरों के प्रयोग द्वारा नहीं बनाया जा सकता :
MANUFACTURER
A. CURRENT B. NATURE
C. FRACTURE D. MANNER
81. एक सांकेतिक भाषा में RACE को लिखा जाता है 3124 तथा LEARN को लिखा जाता है 54136, तो CLEAR को लिखा जायेगा :
A. 25413 B. 21354
C. 25431 D. 24135
82. अपनी कक्षा में एक छात्र का स्थान ऊपर से 9वाँ तथा नीचे से 24 वाँ है | कक्षा में कुल बच्चों की संख्या है :
A. 30 B. 31
C. 32 D. 33
83. निम्नलिखित शब्दों में कौन सा अन्य तीनों शब्दों के अंत में अंग्रजी शब्दकोष में आता है?
A. Opportune B. Opponent
C. Oppress D. Opposite
84. नीचे दी गई आकृति में कितने आयत हैं?

A. 6 B. 9
C. 12 D. 15
85. यदि एक कूट भाषा में 'new school' को '23' लिखा जाये, 'school and teacher' को '304' लिखा जाये, और 'good teacher' को '14' लिखा जाये | तो 'good new teacher and school' को लिखेंगे :
A. 12403 B. 21034
C. 20431 D. 14320
86. कुछ समीकरण किसी विशेष प्रणाली के आधार पर हल किए गए हैं | इसी आधार पर, हल न किए गए समीकरण का सही उत्तर दिए गए चार विकल्पों में से ज्ञात कीजिए |
 $4 \triangle 5 = 29, 6 \triangle 7 = 55, 7 \triangle 8 = ?$
A. 35 B. 44
C. 63 D. 71
87. निम्नलिखित में से कौन सा अंक दी गई श्रेणी के खाली स्थान को भरता है?
11, 31, 41, ?, 71, 91
A. 43 B. 47
C. 51 D. 61
88. यदि 121 : 1331 तथा 169 : 2197, तो 289 : ?
A. 2057 B. 2873
C. 4913 D. 6859
89. एक सांकेतिक भाषा में PARK को RCTM तथा SPARE को URCTG लिखा जाता है, तो BUCKET को लिखा जायेगा :
A. CVDLFU B. FXEMGZ
C. EXFNHW D. DWEMGV

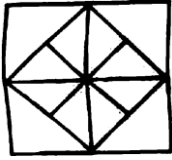
90. एक व्यक्ति 6 मीटर दक्षिण की ओर चलकर दायें मुड़ जाता है | फिर 4 मीटर चलने के बाद दायें मुड़ जाता है और 6 मीटर चलता है | अब वह अपने आरम्भिक स्थान से किस दिशा में है?

- A. पश्चिम B. पूर्व
C. उत्तर D. दक्षिण

91. अंग्रेजी शब्दकोश में निम्नलिखित शब्दों का क्रम क्या होगा?

- i. Breath
ii. Breast
iii. Breadth
iv. Breach
A. i, ii, iii, iv B. iv, ii, i, iii
C. iv, iii, ii, I D. iii, i, iv, ii

92. नीचे दी गई आकृति में त्रिभुजों की संख्या क्या होगी?



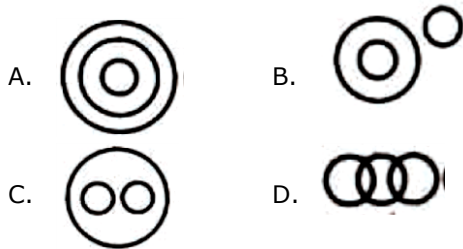
- A. 12 B. 16
C. 20 D. 24

93. पांच विधार्थी एक पंक्ति में बैठे हैं | तुशांत, रवि के दाहिनी ओर बैठा है | मनोज, रवि के बायीं ओर किन्तु लोकेश के दाहिनी ओर बैठा है | तुशांत, कुणाल के बायीं ओर बैठा है | सबके बीच में कौन बैठा है?

- A. रवि B. तुशान्त
C. लोकेश D. मनोज

94. वह आरेख चुनिए जो नीचे दिए गए वर्गों के बीच सम्बन्ध का सही निरूपण करता है ;

द्रव्य, दूध, तेल



95. निम्नलिखित श्रेणी में वह अंक बताइये जो इस श्रेणी में उचित नहीं है :

- 2, 3, 5, 7, 9, 11, 13
A. 5 B. 7
C. 9 D. 13

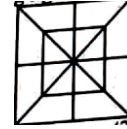
96. निम्नलिखित श्रेणी में कौन से दो पद अन्य से मेल नहीं खाते?

- 13, 23, 33, 43, 53, 63, 73
A. (23, 43) B. (33, 63)
C. (13, 53) D. (53, 73)

97. प्रत्येक पांच वर्ष के अंतराल पर पैदा हुए तीन भाइयों की वर्तमान आयु का योगफल 36 वर्ष है | सबसे बड़े और सबसे छोटे की वर्तमान उम्र में अंतर है :

- A. 5 वर्ष B. 10 वर्ष
C. 12 वर्ष D. 15 वर्ष

98. नीचे दी गई आकृति में कितने त्रिभुज हैं?



- A. 12 B. 20
C. 28 D. 32

99. एक सांकेतिक भाषा में CAPE को 1243 तथा HOLD को 5867 लिखा जाता है | उसी सांकेतिक भाषा में HEAD को लिखा जायेगा :

- A. 7632 B. 5327
C. 8247 D. 5627

100. यदि 312 को 6 और 654 को 15 लिखा जाये, तो 978 को क्या लिखा जाएगा?

- A. 17 B. 19
C. 24 D. 27

101. एक व्यक्ति अपने घर से 3 किमी. उत्तर की ओर चलता है और उसके बाद बायीं तरफ मुड़कर 2 किमी. चलता है | उसके बाद वह दायीं ओर मुड़कर 1 किमी. चलता है और फिर दायीं ओर मुड़कर 5 किमी. चलता है | अब वह अपने घर से कितनी दूर है?

- A. 4 किमी. B. 5 किमी.
C. 8 किमी. D. 11 किमी.

102. मुकेश, सतीश का भाई है | दीप्ति, सौरभ की बहिन है | सतीश, दीप्ति का पुत्र है | मुकेश दीप्ति से किस प्रकार सम्बन्धित है?
A. भतीजा B. पुत्र
C. भाई D. पिता
103. निम्नलिखित में से कौन सा पद दी गई श्रेणी का अगला पद है?
ABZ, CDX, EFV, GHT, _____
A. JLT B. IKS
C. JKR D. IJR
104. STOP : POTS तथा RATS : STAR, तो START : ___?___
A. TRATS B. RATTs
C. STRTA D. TRTSA
105. 'हॉकी' से कौन उसी प्रकार सम्बन्धित है, जिस प्रकार 'अम्पायर' सम्बन्धित है 'क्रिकेट' से है?
A. कैप्टेन B. खिलाड़ी
C. दर्शक D. रैफरी
106. लुप्त संख्या ज्ञात कीजिए :
- | | | |
|----|----|---|
| 7 | 9 | 8 |
| 12 | 2 | ? |
| 5 | 13 | 6 |
- A. 14 B. 12
C. 10 D. 9
107. निम्नलिखित श्रेणी में लुप्त पद ज्ञात कीजिए |
5374261, 537426, 37426, ?, 742, 74
A. 5374 B. 4261
C. 3742 D. 7426
108. निम्नलिखित श्रेणी में छूटे हुए पदों को उनके स्वाभाविक क्रम में ज्ञात कीजिए :
2, 4, 3, ?, 5, 25, ?, 49, 11, ?
A. 9, 7, 121 B. 9, 6, 144
C. 6, 36, 121 D. 5, 125, 144
109. निम्नलिखित में से कौन सा अंक दी गई श्रेणी को आगे बढ़ायेगा?
0, 7, 26, 63, 124, ?
A. 192 B. 200
C. 208 D. 215
110. निम्नलिखित में से कौन सा अंक दूसरों से मेल नहीं खाता?
A. 5202 B. 3411
C. 2431 D. 1413

PART – II

(3) TEACHING METHODOLOGY

111. यदि यह कहा जाए कि कक्षा 7 के बच्चे लिखना-पढ़ना नहीं जानते, तो इस परिस्थिति का सबसे महत्वपूर्ण कारण क्या रहा होगा?
A. विद्यार्थियों का मंद बुद्धि होना
B. अभिभावकों की लापरवाही
C. अवरोध रहित नीति
D. सतत एवं व्यापक मुल्यांकन का असंवेदनशील प्रयोग
112. शैक्षिक तकनीकी में मनोविज्ञान के प्रयोग को क्या कहते हैं?
A. नरम उपागम B. कठोर उपागम
C. शिक्षाशास्त्रीय उपागम D. प्रणाली विश्लेषण
113. विद्यार्थियों में नैतिक मूल्यों की श्रेष्ठतम स्थापना की जा सकती है
A. लब्ध प्रतिह व्यक्तियों के भाषणों से
B. पाठ्य-सहगामी क्रियाओं से
C. प्रासंगिक साहित्य से
D. शिक्षक के अनुकरणीय व्यक्तित्व से
114. ऑपरेशन ब्लैक बोर्ड को निम्नांकित में से किसकी अनुशंसाओं की अनुवर्ती कार्यवाही के रूप में प्रारंभ किया गया था?
A. राष्ट्रीय शिक्षा नीति, 1986
B. केन्द्रीय शिक्षा सलाहकार बोर्ड
C. कोठारी कमिशन (1964-66)
D. प्रारंभिक और माध्यमिक शिक्षा का पाठ्यक्रम - एक रूपरेखा 1988

115. वर्तमान तीव्र प्रौद्योगिकी विकास काल में सबसे बड़ा अवंति-प्रभाव होगा
- A. शिक्षकों की भूमिका समाप्त हो जाएगी
B. कक्षा-कक्ष प्रखर होंगे
C. अधिगम सुगमतर होगा
D. नैतिक मूल्यों का हास होगा
116. शिक्षक को नया उपविषय या पाठ प्रारंभ करना चाहिए
- A. शिक्षक स्वयं के अनुभवों से
B. शिक्षार्थियों में उपलब्ध कुछ रुचियों से
C. विषय के सिंहावलोकन से
D. विषय के महत्व की व्याख्या से
117. कौन सा केन्द्रीय प्रवृत्ति का माप मूल्य नहीं, बिंदु को दर्शाता है?
- A. मध्यमान B. माध्यिका
C. बहुलांक D. औसत
118. यदि विद्यार्थियों को बुद्धि स्तर के अनुसार वर्गीकृत किया जाए तो सामान्य समूह में मध्य के कितने प्रतिशत बच्चे आएँगे?
- A. 33.33 प्रतिशत B. 40.00 प्रतिशत
C. 50.00 प्रतिशत D. 68.26 प्रतिशत
119. एक शैक्षिक संस्था का अच्छा 'प्रधान' वह है, जो
- A. शैक्षिक प्रशासन को समझता है और उसके सिद्धांतों को अक्षरशः लागू करता है
B. अनुशासनहीनता को सहन नहीं करता है
C. लचीला रुख अपनाता है और मानवीय व्यवहार के साथ सहयोगपूर्वक कार्य करता है
D. शिक्षकों और विद्यार्थियों को उनके कार्य-कलापों में स्वतंत्रता देता है
120. प्रगति के अनुवीक्षण का श्रेष्ठतम तरीका क्या होता है?
- A. वरिष्ठों द्वारा अनुवीक्षण
B. स्व-अनुवीक्षण
C. सहकर्मियों द्वारा अनुवीक्षण
D. समाज द्वारा अनुवीक्षण
121. निःशुल्क एवं अनिवार्य शिक्षा अधिनियम, 2009 के अनुसार विधालय विकास योजना का निर्माण किसका दायित्व है?
- A. विधालय मुख्याध्यापक
B. विधालय प्रबंधन समिति
C. खण्ड शिक्षा अधिकारी
D. समूह स्रोत व्यक्ति
122. निःशुल्क एवं अनिवार्य शिक्षा अधिनियम, 2009 के अनुसार छठी से आठवीं कक्षा तक के विधालय के लिए एक पूर्णकालिक मुख्याध्यापक उपलब्ध कराया जाहाँ बच्चों की प्रवेश संख्या होगी?
- A. 80 से अधिक B. 100 से अधिक
C. 120 से अधिक D. 130 से अधिक
123. विधालय के सन्दर्भ में सतत एवं व्यापक मुल्यांकन से आशय है
- A. शिक्षकों की कार्यक्षमता का सतत अनुवीक्षण
B. मुल्यांकन को पूर्ण अनुदेशन समय में न फैलाना
C. बालक अधिगम के पाठ्यचर्या एवं सह-पाठ्यचर्या, दोनों पक्षों का मुल्यांकन
D. अध्यापक को माता-पिता और विधालयी अधिकारी वर्ग के प्रति उत्तरदायी बनाना
124. विधालयों में शारीरिक दण्ड पर रोक लगी है
- A. बाल श्रम निरोधक अधिनियम द्वारा
B. राष्ट्रीय शिक्षा नीति, 1986 द्वारा
C. राष्ट्रीय पाठ्यचर्या की रूपरेखा 2005 द्वारा
D. आर.टी.ई. अधिनियम, 2009 द्वारा
125. विवेचित शिक्षा-शास्त्र के लिए अपरिहार्य नहीं है
- A. सामाजिक मामलों में विविध विचारों की स्वीकृति
B. अनुकरण हेतु आदर्श व्यक्तित्व की प्रवरता
C. लोकतंत्र जीवनचर्या के रूप में
D. खुली चर्चा द्वारा सामूहिक निर्णय लेना

126. व्यवहार संकेतों का प्रयोग किसके द्वारा दिए गए अधिगम सिद्धांत में होता है?
- A. कोहलर B. हल
C. थोर्नडाइक D. स्किनर
127. अधिगम की शर्तें दी गई थीं
- A. स्किनर द्वारा B. रोबर्ट गैगने द्वारा
C. वाटसन द्वारा D. मसलो द्वारा
128. प्राथमिक मानसिक योग्यताओं की संकल्पना को किसने दिया था?
- A. गिलफोर्ड B. थर्स्टन
C. स्पीयरमैन D. वर्नन
129. बच्चे कक्षा में अधिक रुचि लेते हैं, जब ;
- A. शिक्षक मैत्रीपूर्ण व्यवहार करता है
B. विषयवस्तु समझने में बहुत सरल होती है
C. अध्यापक अच्छे व्यक्तित्व का धनी है
D. कक्षा-कक्षा क्रियाएँ बच्चों के अपने अनुभवों से निकट सम्बन्ध रखती है
130. निम्नांकित में से कौन सा पद अवधारणा निर्माणक्रम में पहले आता है?
- A. सारंशीकरण B. अनुभूतिकरण
C. अंतरीकरण D. सामान्यीकरण
131. विद्यार्थी अपने शिक्षक को आदर मुख्यतः उसकी किस विशेषता के कारण देते हैं?
- A. कानूनी अधिकार
B. व्यक्तिगत सत्यनिष्ठा और सदभाव
C. लोकप्रियता और प्रभाव
D. प्रौढ़ता स्तर
132. सामाजिक गतिशीलता किसे बढ़ावा नहीं देती है?
- A. सुयोग्य व्यक्तियों को उच्च पद
B. कल्याण एवं प्रसन्नता
C. अभिमान और वर्गदम्भ
D. कुसमायोजन का उपचार
133. शैक्षिक निर्देशन के समय निम्नांकित में से किस पर जोर नहीं देना चाहिए?
- A. बालक के पूर्व अनुभव और परीक्षा परिणाम
B. बालक की रुचियाँ, आकांक्षाएँ और अन्य गुण
C. अभिभावकों का धर्म, जाति और सामाजिक स्तर
D. अभिभावकों की आकांक्षाएँ
134. निम्नांकित में से कौन सा सजनात्मक का तत्व नहीं है?
- A. आवृत्ति B. संरक्षण
C. नम्यता D. विस्तरण
135. निम्नांकित में से कौन सा एक मुख्य विचार बिंदु नहीं था जब रविन्द्रनाथ टैगोर एक वैश्विक विश्वविद्यालय - विश्व भारती को संकल्पित कर रहे थे?
- A. आक्रामक राष्ट्रीयता से परे जाना
B. सभी राष्ट्रों से मित्रता बनाना
C. पूर्व व् पश्चिम के मध्य सहयोग पर जोर
D. प्राच्य दर्शन पर जोर
136. किलपैट्रिक की प्रोजेक्ट विधि प्रतिफल है
- A. केवल प्रयोजनवाद
B. प्रयोजनवाद और यथार्थवाद
C. केवल यथार्थवाद
D. यथार्थवाद और आदर्शवाद
137. एक अच्छी समय-सारिणी में निम्नांकित में से क्या अवांछनीय है?
- A. शिक्षकों को योग्यतानुसार विषय देना
B. शिक्षकों और शिक्षार्थियों के लिए निश्चित समय और स्थान का आबंटन
C. उपकरणों के प्रयोग के अवसर
D. दोनों छोटे और बड़े कालांशों की व्यवस्था
138. निम्नांकित में से कौन सा व्यक्तित्व का प्रक्षेपण परिक्षण नहीं है?
- A. व्यक्तित्व मापन सूचियाँ
B. वाक्य-पूर्ति परीक्षण
C. रोशा स्याही धब्बा परिक्षण
D. थीमेटिक अप्रसेप्शन टेस्ट

139. न्यूनतम अधिगम स्तर (एम.एल.एल.) (1991) स्थापित किए गए थे
- A. समता और गुणवत्ता के संयोजन हेतु
B. प्रत्येक बालक को कक्षा उत्तीर्ण करने में सहायता हेतु
C. अभिभावकों को बच्चों के अधिगम स्तरों की जानकारी देने हेतु
D. शिक्षकों का कार्य बोझ कम करने के लिए
140. अग्रिम पंक्ति पाठ्यक्रम में शिक्षक किस भूमिका में होता है?
- A. शैक्षिक नेता B. प्रगति निर्धारक
C. तटस्थ व्यक्ति D. सह-अध्येता
141. ब्लूम, क्रेथवाल और मासिज (1964) द्वारा दिए गए भावात्मक क्षेत्र के वर्गीकरण का सही क्रम पहचानिए।
- A. ग्रहण, अनुमुल्यन प्रतिक्रिया चारित्रीकरण और संगठन
B. ग्रहण, प्रतिक्रिया, अनुमुल्यन संगठन और चारित्रीकरण
C. ग्रहण, अनुमुल्यन, संगठन, चारित्रीकरण और प्रतिक्रिया
D. ग्रहण, प्रतिक्रिया, संगठन, अनुमुल्यन और चारित्रीकरण
142. क्या प्रमुख कारण हैं कि सर्व शिक्षा अभियान जैसे कार्यक्रमों से वांछित शैक्षिक परिणाम उपलब्ध नहीं हो पाते हैं?
- A. शिक्षक कम संख्या में हैं
B. निरीक्षण और पर्यवेक्षण कमजोर है
C. गुणवत्ता के आयामों का उचित अनुवीक्षण नहीं हो रहा है
D. बच्चे अभावग्रस्त परिवेश से आते हैं
143. निम्नांकित में से कौन सा सर्व शिक्षा अभियान का उद्देश्य नहीं है/
- A. सभी बच्चे विधालय में हों
B. अधिकांश बच्चे व्यावसायिक शिक्षा प्राप्त कर सकें
C. सभी लिंग व सामाजिक वर्ग विभेद मिट सकें
D. सभी बच्चे आठ वर्ष की शिक्षा प्राप्त करें
144. यदि संस्थागत नियोजन के पदों को निम्न प्रकार संकेतित किया गया है :
- उद्देश्य निर्धारण - a
नियोजित क्रियाकलाप - b
परिस्थिति विश्लेषण - c
अनुश्रवण प्रणालियाँ - d
मुल्यांकन और प्रष्ठोषण - e
- घटनाओं का सही क्रम क्या होगा?
- A. b, a, c, e, d B. c, a, b, d, e
C. a, b, c, d, e D. c, b, a, e, d
145. क्रियामात्मक अनुसंधान किनके द्वारा किया जाता है?
- A. कृतविध व्यक्तियों द्वारा उपाधि हेतु
B. सामाजिक कार्यकर्ताओं द्वारा परियोजनाओं को लागू करने के लिए
C. व्यवसायकर्ताओं द्वारा अपनी कार्यप्रणाली में सुधार हेतु
D. शैक्षिक नियोजकों और प्रशासकों द्वारा
146. निम्नांकित में से कौन सा अभिप्रेरणा का सिद्धांत नहीं है?
- A. स्व कार्यान्वयन सिद्धांत
B. मनोविश्लेषणात्मक सिद्धांत
C. व्यक्तिकरण सिद्धांत
D. उपलब्धि अभिप्रेरण सिद्धांत
147. यदि कोई विधार्थी उसके साथ हुए अन्याय की शिकायत करता है कि उसे कम अंक मिले हैं, तो आप
- A. मुल्यांकन को न्यायसंगत बताएँगे
B. उसे अपने काम से काम रखने के लिए कहेंगे
C. उसे नियमानुसार प्राचार्य से शिकायत करने के लिए कहेंगे
D. उसकी उत्तर पुस्तिका का मिलान दूसरों के साथ करा देंगे

148. एक परिक्षण की विश्वसनीयता कैसे बढ़ाई जा सकती है?
- A. विशेषज्ञों की सहमति प्राप्त करके
 - B. परिक्षण की लम्बाई बढ़ाकर
 - C. परिक्षण को छोटा करके
 - D. पदों को कठिनाई स्तर के अनुसार क्रमबद्ध करके
149. एक अच्छा निदानात्मक परिक्षण हमें बताता है कि
- A. बच्चों का उपलब्धि का स्तर क्या है
 - B. कक्षा में अनुदेशन की गुणवत्ता क्या है
 - C. बच्चे की कमजोरी के क्षेत्र और उसके संभावित कारण क्या हैं
 - D. शिक्षक की प्रभावशीलता क्या है
150. किस शिक्षा दर्शन के अनुसार शिक्षक की भूमिका मात्र पथप्रदर्शक और प्रेक्षक की बताई गई?
- A. प्रकृतिवाद
 - B. आदर्शवाद
 - C. यथार्थवाद
 - D. प्रयोजनवाद