

भाग - I/PART - I

Directions (1-2): Choose the word from the given options which best expresses the meaning of the underlined word.

- Solicit
 - Require
 - Beseech
 - Demand
 - Claim
- Amicable
 - Friendly
 - Interesting
 - Loving
 - Affectionate

Directions (3 - 4): Choose the correct alternative to complete each of the sentences given below.

- Work hard lest you _____ fail.
 - should not
 - may
 - may not
 - should
- _____ my brother come, give him this message.
 - Will
 - Would
 - Ought
 - Should

Directions (5 - 6): Out of the given alternatives choose the word which most closely fits each definition.

- An old unmarried woman
 - Spinster
 - Virgin
 - Chaperson
 - Maid
- Medicine used against a poison.
 - Antiseptic
 - Antimony
 - Antipode
 - Antidote

Directions (7 - 8): In each group of words given below, one word is spelt wrongly. Choose the word.

- Across
 - Adherence
 - Arbitrage
 - Accidentally
- Villain
 - Forcast
 - Forego
 - Omission

Directions (9 - 10): Each of the following idioms is followed by four meanings of which one is correct. Choose the correct one.

- To look down upon.
 - to scorn at
 - to look at something from a height
 - to search for something
 - to examine superficially

- To pull strings
 - to act as a mediator
 - to tighten up
 - to become alert
 - to manipulate

Directions (11 - 13): Each of the following sentences has been divided into four parts : (1), (2), (3) and (4). There is an error in one of the parts. Identify the part which has the error.

- You must go / to my village /
(1) (2)
and see my property / before you returned.
(3) (4)
- There is going / to be a election / of office-
(1) (2)
bearers / of the cooperative society.
(3) (4)
- Just / three minutes before / the train was
(1) (2)
to reach Pantra / she suddenly screeched
(3) (4)
to a halt.

Directions (14 - 15): In each of the following items, choose the word opposite in meaning to the given word.

- Discount
 - Concession
 - Interest
 - Premium
 - Profit
- Enough
 - Less
 - Inadequate
 - Scarce
 - Deficit

16. उच्चारण स्थान के आधार पर हिन्दी-व्यंजनों को कितने वर्गों में रखा जाता है? निम्नलिखित में से सही विकल्प को चिह्नित कीजिए :

- ग्यारह
- नौ
- सात
- पांच

17. 'को' किस कारक की विभक्ति है? निम्नलिखित में से सही विकल्प का चयन कीजिए :

- आपादन
- कर्ता
- कर्म
- संबंध

18. 'पानी में आग लगाना' - मुहावरे के अर्थ का दिए गए विकल्पों में से चयन कीजिए :
- A. असंभव कार्य को संभव कर डालना
B. शांति में विध्वन डालना
C. क्षुब्ध होना
D. पुरानी दुश्मनी को ताजा करना
19. 'दोपहर के बाद का समय' - के लिए निम्नलिखित शब्दों में से कौन-सा उपयुक्त है? चिह्नित कीजिए :
- A. सन्ध्या B. अपराह्न
C. पूर्वाह्न D. दिन
20. 'आविर्भाव' का विपरीतार्थक शब्द निम्नलिखित विकल्पों में से छांटिए :
- A. सुप्त B. तिरोभाव
C. समभाव D. अन्तर्धान
21. 'शिव की आराधना करनेवाले' को क्या कहते हैं? निम्नलिखित विकल्पों में से सही विकल्प को चिह्नित कीजिए :
- A. सिद्ध B. शाक्त
C. शैव D. वैष्णव
22. 'यशोधरा' शब्द का सन्धि-विच्छेद निम्नलिखित विकल्पों में से एक है | सही विकल्प को चिह्नित कीजिए :
- A. यशः + धरा B. यश + उधरा
C. यशो + धरा D. यश + अधरा
23. सही विकल्प को चुनकर निम्नलिखित वाक्य के रिक्त स्थान की पूर्ति कीजिए :
सिंहासन खाली करो कि _____ आती है |
- A. असुर B. जनता
C. लोक D. देवता
24. 'कौन' सर्वनाम का गुणवाचक शब्द दिए गए विकल्पों में से चिह्नित कीजिए :
- A. कैसा B. कितना
C. किस D. कितने
25. पद-क्रम की दृष्टि से निम्नलिखित विकल्पों में से कौन-सा असंगत है?
- A. आशा - निराशा B. स्वर्ग - नरक
C. सार्थक - निरर्थक D. विराग - राग
26. निम्नलिखित वाक्यों में से अशुद्ध वाक्य का चयन कीजिए :
- A. हेमा मुझसे प्यार करती है |
B. गीता अच्छी पुस्तक है |
C. संजय देखने में सुन्दर लगता है |
D. मैंने आपके लिए शहर के अच्छी होटल से खाना मँगावाया है |
27. 'अतीव' शब्द में निम्नलिखित में से कौन-सा उपसर्ग है?
- A. अपि B. अधि
C. अति D. अती
28. हिंदी में शब्दों का लिंग-निर्धारण किसके आधार पर होता है? निम्नलिखित विकल्पों में से सही विकल्प को चिह्नित कीजिए :
- A. विशेषण B. क्रिया
C. सर्वनाम D. संज्ञा
29. निम्नलिखित शब्दों में से शुद्ध वर्तनी उज्ज्वलवाले शब्द का चयन कीजिए :
- A. उज्ज्वल B. उज्जवल
C. उज्वल D. उज्ज्वल
30. 'डॉक्टर ने मरीज को देखा और उसे दवा दी |'
- A. संयुक्त - मिश्र वाक्य
B. सरल वाक्य
C. मिश्र वाक्य
D. संयुक्त वाक्य

भाग - II

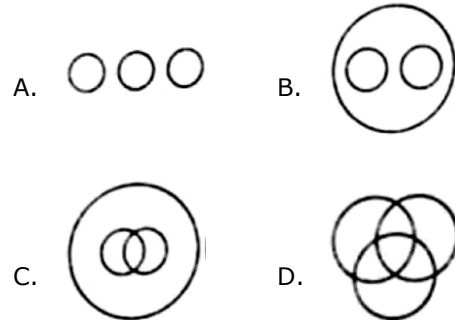
31. भारत के रिज़र्व बैंक ने जनवरी 01, 2017 से सभी प्रकार के लेन-देन के लिए _____ कार्डों को अनिवार्य कर दिया है |
A. ए.टी.एम. B. वोटर आई.डी.
C. आधार D. क्रेडिट
32. केन्द्रीय मंत्रिमंडल ने अगस्त 31, 2016 को 100% तक वृद्धि की अनुमति देकर एफ.डी.आई. प्रणाली में क्रांतिकारी परिवर्तनों को स्वीकृति प्रदान की :
A. कृषि फार्म और फार्म उत्पाद
B. रक्षा क्षेत्र
C. संचार उद्योग
D. भारतीय शिक्षा प्रणाली
33. सितंबर 2016 से प्रेस ट्रस्ट ऑफ इंडिया के नए निदेशक हैं :
A. रियाद मैथ्यू
B. श्याम बेनेगल
C. होरमुसजी एन. कामा
D. प्रणय राँय
34. हार्वर्ड फाउंडेशन का 2015 का मानवतावादी सम्मान _____ को प्रदान किया गया |
A. कैलाश सत्यार्थी
B. बाबा आम्टे
C. मलाला युसुफजई
D. बिल और मेलिंडा गेट्स
35. वर्ष 2015 के लिए श्रेष्ठ अभिनेत्री (फिल्मफेयर) सम्मान किस अभिनेत्री ने प्राप्त किया?
A. सोनाक्षी सिन्हा B. करीना कपूर
C. दीपिका पादुकोण D. भूमी पेदणेकर
36. जुलाई 2016 में हेग में इंटरनेशनल कोर्ट ने किस पर चीन के दावे को खारिज किया?
A. पीत समुद्र
B. पूर्व चीन सागर
C. ताइवान जलडमरूमध्य
D. दक्षिण चीन सागर
37. भारत का बहुकार्य सुपर सोनिक लड़ाकू विमान का 'तेजस' नाम किसने रखा?
A. एयर मार्शल जसबीर वली
B. नरेंद्र मोदी
C. अब्दुल कलाम
D. अटल बिहारी बाजपेयी
38. केन्द्रीय सांख्यिकी कार्यालय द्वारा जारी आँकड़ों के अनुसार भारत के GDP में प्रत्याशित वृद्धि 2016-17 की पहली तिमाही में है :
A. 7.9% B. 7%
C. 7.1% D. 7.2%
39. भारत का सबसे पुराना वायुयान वाहक पोत जिसे हाल ही में बेड़े से हटा दिया गया, था :
A. आई.एन.एस. कोंकण
B. आई.एन.एस. विराट
C. आई.एन.एस. विक्रान्त
D. आई.एन.एस. अरिहंत
40. निम्नलिखित में से किस राज्य में 2017 में चुनाव नहीं होंगे?
A. उत्तरखंड B. उत्तर प्रदेश
C. राजस्थान D. पंजाब
41. उस भारतीय जिमनास्ट का नाम लिखिए जो बहुत कम अंतर से कांस्य पदक प्राप्त करने से वंचित रह गया?
A. डायना कुंजू B. दीपिका कुमार
C. दीप्ति करमरकर D. दीपा करमाकर
42. 21 सितंबर 2016 के बाद हमारे प्रधान मंत्री का सरकारी निवास कहा जाएगा :
A. प्रधान मंत्री निलयम
B. 7 आर. सी. आर.
C. लोक कल्याण निवास
D. पंचवटी

43. हाल में निर्मित सारोगेसी (नियन्त्रण) विधेयक उन माता-पिता को कोख किराए पर लेने की अनुमति प्रदान करता है :
- I. जो पांच वर्ष से विवाहित हों और प्राकृतिक रूप से संतान को जन्म न दे सकते हों |
- II. जिनकी पहुँच पुनर्जनन की अन्य तकनीकियों तक नहीं है |
- A. (I) और (II) दोनों असत्य हैं |
- B. (I) सत्य है और (II) असत्य है |
- C. (II) सत्य है और (I) असत्य हैं |
- D. (I) और (II) दोनों सत्य हैं |
44. सारे विश्व में अंतरराष्ट्रीय शांति दिवस कब मनाया गया?
- A. सितंबर 16, 2016
- B. सितंबर 19, 2016
- C. सितंबर 21, 2016
- D. सितंबर 28, 2016
45. सतत विकास सूचकांक (SDI) 2016 में प्रथम स्थान दिया गया :
- A. ब्रिटेन को B. फिनलैंड को
- C. नॉर्वे को D. स्वेडन को
46. इरोम शर्मिला ने हाल ही में एक राजनितिक दल का गठन किया है जिसका नाम है :
- A. पीपल्स रिसर्जेंस ऐंड जस्टिस एलाएंस
- B. पीपल्स पॉलिटिकल एलाएंस
- C. पीपल्स जस्टिस एलाएंस
- D. रिसर्जेंस ऐंड जस्टिस एलाएंस ऑफ पीपल
47. यूनेस्को कन्फ्यूशियस पुरस्कार 2016 प्रदान किया गया है :
- A. जन शिक्षण संस्थान, मल्लपुरम को
- B. साक्षरता निकेतन, लखनऊ को
- C. राष्ट्रीय मुक्त विधालयी संस्थान, दिल्ली को
- D. नागौर स्थित, स्टेप-बाइ-स्टेप को
48. मानहानि कानून पर अपनी सम्पति देते हुए सर्वोच्च न्यायालय ने कहा है :
- A. राजनितिक नेताओं को अपने भाषण और अभिव्यक्ति के बारे में सतर्क होना चाहिए |
- B. भाषण और अभिव्यक्ति की स्वतंत्रता एक निरपेक्ष अधिकार नहीं है |
- C. प्रतिष्ठा का अधिकार अभिव्यक्ति की स्वतंत्रता से बढ़कर है |
- D. अभिव्यक्ति की स्वतंत्रता को कोई संवैधानिक वैधता प्राप्त नहीं है |
49. MCC आजीवन सदस्यता से सम्मानित प्रथम भारतीय महिला क्रिकेटर होंगी :
- A. नीतू डेविड B. अंजुम चोपड़ा
- C. झूलन गोस्वामी D. मिथाली राज
50. कनाडा की संसद हाउस ऑफ कॉमन्स में भारतीय मूल के कितने सदस्यों ने चुनाव (2016) जीता?
- A. 19 B. 12
- C. 15 D. 17
51. हाल ही में स्क्रेमजेट राकेट इंजन को सफलता पूर्वक परिक्षण उडान के लिए भेजा गया :
- A. ICSR द्वारा B. ISRO द्वारा
- C. DRDO द्वारा D. BARC द्वारा
52. निम्नलिखित में कौन-सा विकल्प शेष से भिन्न है?
- A. विश्व खाद्य दिवस - अक्टूबर 01
- B. विश्व पोलियो दिवस - अक्टूबर 24
- C. विश्व अध्यापक दिवस - अक्टूबर 05
- D. विश्व मानसिक स्वास्थ्य दिवस - अक्टूबर 10
53. जुलाई 2016 में _____ को एयरपोर्ट्स अथॉरिटी ऑफ इंडिया का अध्यक्ष नियुक्त किया गया |
- A. अशोक प्रसाद B. ए.के. पटनायक
- C. गुरुप्रसाद महापात्र D. ए. बी. पांडे

54. सुप्रीम कोर्ट ने बी. सी. सी. आई. को किस बारे में फटकार लगाकर अंतिम चेतावनी दी है?
- A. अपने को अंतरराष्ट्रीय क्रिकेट सम्मेलन से अलग करना
B. आने वाली टेस्ट श्रृंखला के लिए कोष जारी करना
C. लोढ़ा समिति की रिपोर्ट के पुनरीक्षण करने के लिए एक उप-समिति बनाना
D. लोढ़ा समिति की सिफारिशें लागू करना
55. रियो ओलंपिक्स में महिलाओं की हॉकी टीम की कप्तान कौन थी?
- A. दीपिका B. रानी रामपाल
C. सुशीला चानू D. पूनम रानी
56. डोनाल्ड ट्रंप सं. राज्य अमेरिका के _____ राष्ट्रपति हैं |
- A. 47वें B. 44वें
C. 45वें D. 46वें
57. चिकित्सा के लिए नोबेल पुरस्कार 2016 दिया गया है :
- A. बॉब डाइलन B. योगोनोरी ओशुमी
C. डेविड थोलस D. फेजर स्टोहार्ट
58. हाल ही में प्रकाशित निम्नलिखित पुस्तकों का मिलान उनके लेखकों से कीजिए :
- | A | | B | |
|-----|---------------------------------|-------|-----------------|
| (a) | टाइगर : दि लाइफ ऑफ टीपू सुल्तान | (i) | नीना गोपाल |
| (b) | आल ऑफ अस इन अवर ओन लाइफ | (ii) | मंजूश्री गोपाल |
| (c) | दि एसेसिनेशन ऑफ राजीव गाँधी | (iii) | केट ब्रिटल बैंक |
- (a) (b) (c)
A. (iii) (i) (ii)
B. (iii) (ii) (i)
C. (i) (ii) (iii)
D. (ii) (i) (iii)
59. केंद्रीय प्रत्यक्ष कर बोर्ड ने करदाताओं की सहायता के लिए ई-निवारण सुविधा प्रदान की है। इसका संबंध है :
- I. आयकर वापसी से
II. आयकर विवरणी से
III. स्रोत पर आयकर कटौती से
- A. I, II और III तीनों सत्य है |
B. I सत्य है और II असत्य है |
C. II सत्य है और III असत्य है |
D. III सत्य है और I असत्य है |
60. रियो ओलंपिक्स 2016 में 90 मिनट तक खेलने के बाद ब्राजील और जर्मनी के बीच फुटबॉल फाइनल मैच, कितने गोल की बराबरी पर था?
- A. 3 - 3 B. 0 - 0
C. 1 - 1 D. 2 - 2
61. प्रेसिडेंट बराक ओबामा और राज्य काउंसलर ऑंग सान सू की के बीच हुई बैठक के बाद सं. राज्य अमेरिका तैयार दिखाई पड़ता है :
- A. नई सरकार को सैन्य सहायता देने को
B. उसकी सरकार को सैनिक जनता के विरुद्ध समर्थन देने को
C. मुस्लिम शरणार्थियों के पुनर्वासन को
D. म्यांमार से सभी नियन्त्रण उठा लेने को
62. हमारी गणतन्त्र दिवस परेड 2016 में मुख्य अतिथि कौन थे?
- A. कतर के शेख
B. अबू धाबी के युवराज
C. संयुक्त अरब अमीरात के शाह
D. दुबई के शेख
63. "भारतीय बैंकों ने हाल ही में अपनी ATM मशीनों को पुनः अंशांकित किया है |" यहाँ ATM से तात्पर्य है :
- A. ऑटोमेटेड ट्रांसफर मशीन
B. ऑटोमेटेड ट्रांसफर ऑफ मनी
C. ऑटोमेटेड ट्रांसफर ऑफ मनी
D. ऑटोमेटेड टेलर मशीन

64. पैरालिंपिक खेल 2016 में स्वर्ण पदक प्राप्त करने वाली प्रथम भारतीय महिला थीं :
- A. अल्का ग्रेस B. साक्षी मलिक
C. दीपा मलिक D. वरुणा भाटी
65. 2015 के लिए फिल्मफेयर श्रेष्ठ अभिनेता सम्मान किसे मिला?
- A. शाहरुख खान
B. अमिताभ बच्चन
C. अक्षय कुमार
D. रणवीर सिंह
66. आठवाँ BRICS शिखर सम्मलेन अक्टूबर 2016 में _____ में आयोजित हुआ |
- A. मुम्बई B. गोवा
C. अहमदाबाद D. आगरा
67. BRICS की महिला सांसदों की बैठक हाल ही में _____ में आयोजित की गई |
- A. माउंट आबू B. अजमेर
C. जयपुर D. जोधपुर
68. फोर्ब्स की 100 सर्वाधिक धनी भारतीयों की सूची में प्रथम स्थान पर कौन है?
- A. मुकेश अंबानी B. नुस्ली वाडिया
C. अजीम प्रेमजी D. दिलीप संघवी
69. नोबेल शांति पुरस्कार 2016 के विजेता जुआन मेनूएल सांतोस _____ राष्ट्रपति है |
- A. वेनेजुएला B. इक्वाडोर
C. पराग्वे D. कोलंबिया
70. दिल्ली हाईकोर्ट ने हाल ही में उन तिब्बतियों को भारतीय नागरिकता प्रदान की है जिनका जन्म _____ के बीच हुआ हो |
- A. जनवरी 31, 1960 - मार्च 31, 1990
B. अगस्त 15, 1947 - जुलाई 30, 1987
C. जनवरी 26, 1950 - जुलाई 01, 1987
D. जनवरी 01, 1952 - अगस्त 15, 1990
71. इन में से कौन-सा विकल्प समान संबंध दर्शाता है जो कि भाई : बहन में है?

- A. पिता : पुत्री B. पिता : माता
C. पति : पत्नी D. पिता : पुत्र
72. दिए गए कथनों को सत्य मानकर चाहे वे सामान्यतः ज्ञात तथ्यों से भिन्न प्रतीत होते हों, यह निर्णय कीजिए कि कथनों से कौन-से निष्कर्ष तर्क संगत रूप से निकलते हैं |
- कथन :
सभी आम फल हैं; सभी फल सब्जियाँ हैं | कोई भी सब्जी अनाज नहीं है |
- निष्कर्ष :
- I. कुछ फल आम हैं |
II. कुछ अनाज सब्जियाँ हैं |
III. कुछ फल अनाज हैं |
- A. केवल निष्कर्ष II और III निकलते हैं |
B. केवल निष्कर्ष I निकलता है |
C. केवल निष्कर्ष I और II निकलते हैं |
D. केवल निष्कर्ष II निकलता है |
73. कोनिका ने कहा, "विवेक मेरी माँ का इकलौता बेटा है तथा जया की इकलौती बेटा सोनल का पिता है |" सोनल कोनिका से किस तरह संबंधित है?
- A. पौत्री B. भाभी
C. भतीजी D. बहन
74. निम्न दिए रेखाचित्रों में से कौन-सा चित्र मेज, कुर्सी और फर्नीचर में सम्बन्ध दर्शाता है?



निर्देश (75-78): निम्नलिखित सूचना पर आधारित हैं।

सात लोग ABCDEF और G एक बस में यात्रा कर रहे हैं जो कि विभिन्न राज्यों जैसे दिल्ली, असम व गुजरात के रहने वाले हैं। किसी भी एक राज्य के व्यक्ति न तो दो से कम हैं और न ही तीन से अधिक हैं। हर एक ने अलग-अलग रंग का परिधान पहना हुआ है जैसे लाल, सफ़ेद, पीला, नीला, हरा, भूरा और काला पर जरूरी नहीं है की इसी क्रम में हो।

E गुजरात से नहीं है तथा भूरे रंग का परिधान पहना है। जिसने लाल रंग का परिधान पहना है वह असम से है। A दिल्ली राज्य से है और D भी। B ने पीला परिधान पहना है और उसी राज्य से है जिस से C व F हैं। गुजरात राज्य के किसी भी व्यक्ति ने सफ़ेद या नीला परिधान नहीं पहना है। C ने हरा नहीं पहना है और A ने नीला नहीं पहना है।

75. लाल रंग का परिधान किसने पहना है?
A. G B. A
C. C D. D
76. निम्न से कौन-सा समूह व्यक्ति-राज्य-परिधान का रंग सही है?
A. F - गुजरात - हरा
B. E - दिल्ली - भूरा
C. A - असम - लाल
D. C - गुजरात - पीला
77. D के परिधान का क्या रंग है?
A. लाल B. सफ़ेद
C. नीला D. काला
78. इन में कौन सा समूह गुजरात राज्य से है?
A. CEF B. ABC
C. BCF D. BCE
79. यदि शब्द 'INTERNATIONAL' का हर स्वर अंग्रेजी भाषा के वर्णमाला के अनुसार उसके अगले अक्षर से बदल दिया जाए तथा हर व्यंजन अंग्रेजी भाषा के वर्णमाला अनुसार उसके पिछले अक्षर से बदल दिया जाए तो बाएँ ओर से पांचवाँ अक्षर क्या होगा?

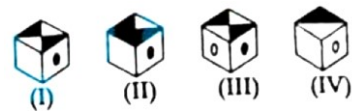
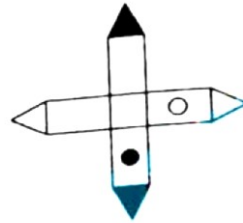
- A. Q B. F
C. M D. N

80. 'वर्ग' उसी तरह सम्बन्धित है 'घन' से जिस प्रकार 'आयत' सम्बन्धित है _____ से।
A. घनाभ B. गोला
C. शंकु D. बहुभुज
81. निम्न विकल्पों से कौन-सा विकल्प JAN : JUL के संबंध को दर्शाता है?
A. NOV : DEC B. MAR : SEP
C. FEB : OCT D. APR : AUG

निर्देश (82 - 83): निम्नलिखित सूचना पर आधारित हैं।

6 व्यवसायिक लोगों के समूह में, दो युगल हैं। इन में से एक युगल का व्यवसाय डॉक्टर है तथा दूसरा अध्यापक हैं, शेष वकील व बैकर की पत्नी व्यवसायिक नहीं है, जब कि वकील की अभी तक शादी नहीं हुई।

82. इस 6 पेशावरों के समूह में कितने पुरुष हैं?
A. चार B. केवल दो
C. केवल तीन D. तीन या चार
83. इन 6 व्यवसायिक लोगों के समूह में कितनी स्त्रियाँ हैं?
A. तीन B. केवल एक
C. केवल दो D. दो या तीन
84. निम्न दिए विकल्पों में से उस घन को चुनिए जो दी गई आकृति को मोड़ने पर बनेगा।



- A. केवल (IV) B. केवल (I)
C. केवल (II) D. केवल (III)

85. दिए गए कथन को सत्य मानकर, चाहे वह सामान्यतः जात तथ्यों से भिन्न हों, यह निश्चित कीजिए कि कथन से कौन-से निष्कर्ष तर्क संगत रूप से निकाले जा सकते हैं।

कथन :

निजी विधालयों में कार्यरत शिक्षक परिश्रमी होते हैं।

निष्कर्ष :

- I. कुछ परिश्रमी शिक्षक निजी विधालयों में कार्यरत हैं।
 - II. सरकारी कर्मचारी परिश्रमी नहीं होते।
- A. न तो निष्कर्ष I न ही II निकलता है।
 - B. केवल निष्कर्ष I निकलता है।
 - C. केवल निष्कर्ष II निकलता है।
 - D. निष्कर्ष I और II दोनों निकलते हैं।

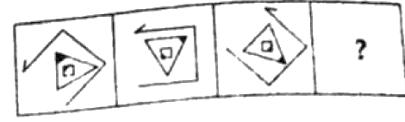
86. नीचे दिए गए कथन को सत्य मानते हुए, कथन में दी गई सूचना के आधार पर सुझायी गई कौन-सी कार्यवाही करने के लिए तर्क संगत है?

कथन :

नई दिल्ली में एक बड़ी जनसंख्या डेंगू से ग्रसित पाई गई।

कार्यवाही :

- I. नई दिल्ली के सबसे प्रभावित क्षेत्रों में तत्काल धुआँ देना चाहिए।
 - II. मच्छर के काटने से कैसे बचें और बीमारी को फैलने से कैसे रोकें पर प्रचार करना चाहिए।
- A. कार्यवाही I और II दोनों अनुसरणीय हैं।
 - B. केवल कार्यवाही I अनुसरणीय है।
 - C. केवल कार्यवाही II अनुसरणीय है।
 - D. कार्यवाही I या II अनुसरणीय हैं।
87. निम्न दिए विकल्पों में से वह आकृति चुनिए जो दी गई श्रंखला को पूरा करें।



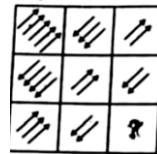
- A.
- B.
- C.
- D.

88. कौशल एक सरकारी संस्था में अच्छे पद पर है। वह ईमानदारी से कार्य करता है। अपने दफ्तर में वह सबसे ज्यादा पसंद किए जाने वाला कर्मचारी है। वह अपने अधिन कार्यर्तों की सहायता करता है व वरिष्ठ अधिकारियों को सहयोग देता है। वह कठिन परिश्रम करता है परंतु कई बार लोग उसे गलत समझ लेते हैं। दी गई सूचना के आधार पर निम्नलिखित में से कौन-सा कथन सत्य है?

- A. वह अपने आप को अभिव्यक्त नहीं कर पाता है।
- B. कौशल एक दयालु सहृदय व्यक्ति है।
- C. कौशल सरकारी कर्मचारी है।
- D. वह अपने वरिष्ठ अधिकारियों का सम्मान करता है।

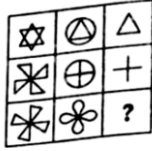
निर्देश (89-91) : में दिए चार विकल्पों में से वह आकृति चुनिए जो दी गई मैट्रिक्स को पूरा करें।

89.



- A.
- B.
- C.
- D.

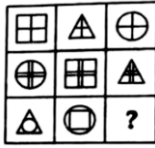
90.



मैट्रिक्स

- A.
- B.
- C.
- D.

91.



- A.
- B.
- C.
- D.

92. दिए हुए विकल्पों में से उस शब्द को चुनिए जो दिए गए शब्द के अक्षरों का प्रयोग करके नहीं

बनाया जा सकता |

ENVIRONMENT

- A. NEVER B. METER
C. RIVER D. ENTRE

93. विकल्पों में से उस शब्द युगल को चुनिए जो दिए शब्द युगल जैसा ही सम्बन्ध दर्शाता है |

रेशा : वस्त्र

- A. लुगदी : कागज B. धागा : सुई
C. बीज : पेड़ D. बाल : कंघी

94. निम्न विकल्पों में से अंकों के उस संयोजन को चुनिए जिस के अनुसार यदि दिए अक्षरों को व्यवस्थित करें तो एक सार्थक शब्द बन जाए |

A B W L E K
↓ ↓ ↓ ↓ ↓ ↓
1 2 3 4 5 6

- A. 314652 B. 413652
C. 251462 D. 652314

95. सलमान नौ वर्ष का बालक है | वह अपने माता-पिता का इकलौता बच्चा है | वह अपने दोस्तों के साथ हर शाम खेलता है | सलमान के पिता अधिकतर देर शाम तक घर आते हैं | उसकी माँ तीन लोगों के परिवार के लिए स्वादिष्ट खाना बनाती है | अब, निम्न दिए कथनों में से वह कथन पहचानिए जो कि उपरोक्त जानकारी के अनुसार बिल्कुल सही है |

- A. सलमान अपने मित्रों के साथ फुटबॉल खेलता है।
B. सलमान के माता-पिता उसके साथ नहीं खेलते हैं |
C. सलमान के कोई सहोदर भाई-बहन नहीं है |
D. सलमान की माता जी को खाना बनाना पसंद है |

96. दिए गए विकल्पों में से उस शब्द को चुनिए जो दिए गए शब्द के अक्षरों का प्रयोग करके नहीं बनाया जा सकता |

INTERNATIONAL

- A. INNER B. RATION
C. LETTER D. TRAIN

निर्देश (97-99): निम्नलिखित सूचना पर आधारित हैं।

$A \Delta B$ अर्थात A, B से छोटा नहीं है |

$A * B$ अर्थात A n B से छोटा है न बराबर है |

$A @ B$ अर्थात A, B से न ही बड़ा है नहीं बराबर है |

$A + B$ अर्थात A, B से बड़ा नहीं है |

$A \% B$ अर्थात A, B से न ही बड़ा है न ही छोटा है |

97. कथन : $P @ Q, Q + R, R \% T$

निष्कर्ष :

- I. $P @ T$
II. $Q + T$
III. $P * R$

- A. केवल III सत्य है |
B. केवल I सत्य है |
C. केवल II सत्य है |
D. केवल I व II सत्य हैं |

98. कथन :
 $P * Q, Q \Delta R, R * T$
 निष्कर्ष :
 I. $P * T$
 II. $P \Delta R$
 III. $Q \Delta T$
 A. केवल II व III सत्य हैं |
 B. केवल I सत्य हैं |
 C. केवल II सत्य हैं |
 D. केवल I व II सत्य हैं |
99. ये मानते हुए कि दिए कथन सही हैं, यह निर्णय कीजिए कि इन नीचे दिए कथनों पर आधारित कौन-से निष्कर्ष सत्य हैं?
 कथन :
 $P + Q, Q \% R, R @ T$
 निष्कर्ष :
 I. $P @ T$
 II. $Q + T$
 III. $P + R$
 A. केवल II व III सत्य हैं |
 B. केवल I सत्य हैं |
 C. केवल I और II सत्य हैं |
 D. केवल III सत्य हैं |
100. निम्न दिए शब्दों को अंग्रेजी शब्दकोश के अनुरूप व्यवस्थित कीजिए |
 (a) peremptory
 (b) perceptible
 (c) perceptual
 (d) perforation
 (e) percentile
 A. (e), (c), (b), (d), (a)
 B. (e), (b), (c), (a), (d)
 C. (e), (c), (b), (a), (d)
 D. (e), (b), (c), (d), (a)
101. उस सही विकल्प को चुनिए जो दी गई संख्या-श्रंखला को पूरा करेगा |
 10, 11, 15, 24, 40, 65, _____
 A. 95 B. 100
 C. 90 D. 101
102. उसे चुनिए जो अन्य तीन से भिन्न है :
 A. नर्मदा B. गंगा
 C. यमुना D. गोदावरी
103. उस सही विकल्प को चुनिए जो दी गई अक्षर - श्रंखला को पूरा करेगा |
 ABCD, BDFH, CFIL, DHLP, _____
 A. EJOU B. EINT
 C. EJOT D. EJOS
- निर्देश (104 - 106):** निम्नलिखित सूचना पर आधारित हैं |
 आठ अधिकारी A, B, C, D, E, F, G और H एक आयताकार मेज के आस पास एक बैठक कर रहे हैं | 'E', 'C' के दाएं ओर दूसरे स्थान पर बैठा है जबकि 'C', 'A' के दाएं ओर बैठा है | जो 'F' के दाएं ओर बैठा है | 'A', 'B' ले सामने बैठा है | 'D', 'F' और 'H' के बीच में बैठा है | इनमें से कोई भी मेज के कोने में नहीं बैठा है | मेज के विपरीत ओर बराबर अधिकारी बैठे हैं |
104. 'G' का स्थान 'C' के अनुसार क्या है?
 A. बिल्कुल विपरीत
 B. निकटतम दाएं
 C. निकटतम बाएँ
 D. उसके दाएं से दूसरा
105. C और E के बीच में कौन बैठा है?
 A. B B. F
 C. G D. H
106. D के निकटतम दायीं ओर कौन बैठा है?
 A. H B. A
 C. B D. F
107. दिए गए शब्द में ऐसे कितने अक्षर युगल हैं, शब्द में जिनके बीच में उतने ही अक्षर हैं जितने अंग्रेजी वर्णमाला में हैं?
 CORPORATION
 A. 4 B. 1
 C. 2 D. 3

निर्देश (108-110): निम्नलिखित सूचना पर आधारित हैं |

कल्पना, अलका से 6 मी. दूर दक्षिण की ओर खड़ी है | सिन्धिया, कल्पना के पूर्व में 12 मी. पर खड़ी है | समीरा, सिन्धिया के 10 मी. दूर दक्षिण की ओर खड़ी है | समीरा भी इला के पूर्व में 12 मी. दूर खड़ी है तथा जासमीन, इला के उत्तर में 8 मी. दूर खड़ी है |

108. तैंतीस छात्रों की कक्षा में मोहन का ऊपर से 12 वाँ स्थान है परन्तु उसका जुड़वाँ भाई मोहित उससे चार स्थान ऊपर है | बताइए मोहित का नीचे से क्या स्थान है?

- A. 21 B. 29
C. 26 D. 25

109. यदि कल्पना दक्षिण की ओर 4 मी. चल के जाती है तो वह इला से कितनी दूरी पर खड़ी है?

- A. 10 मी. B. 4 मी.
C. 5 मी. D. 6 मी.

110. कल्पना जासमीन से कितनी दूरी पर खड़ी है?

- A. 10 मी. B. 1 मी.
C. 2 मी. D. 8 मी.

111. सूक्ष्म शिक्षण से अभिप्राय है :

- A. विषय की सूक्ष्म अवधारणाओं को समझाना
B. सूक्ष्म स्तर पर अध्यापन करना
C. अवधारणाओं तथा सिद्धांतों का विस्तृत विवरण देना
D. विभिन्न अध्यापन कौशलों का पृथक रूप में अभ्यास करना

112. परिक्षण विनिर्देशन / ब्लू प्रिंट के अनुसार किसी परिक्षण की रचना करने से प्रायः किस चीज में वृद्धि होती है?

- A. कंस्ट्रक्ट वैधता
B. विश्वसनीयता
C. विषयवस्तु की वैधता
D. समवर्ती वैधता

113. सर्वाधिक सामान्य प्रतिरूप जिसे कोई बालक अपने जीवन को निर्देशित करने के लिए चयनित करता है वह है :

- A. ऐसा कोई व्यक्ति जिसकी आत्म संकल्पना उससे अत्यधिक मिलती जुलती हो
B. अपना बड़ा भाई या बहन
C. एक माता या पिता, या एक अध्यापक अथवा कोई प्राधिकारी
D. कोई अन्य व्यक्ति जिसका आचरण पूर्णता की ओर जाता लगता हो

114. अध्यापन के विषय में निम्नलिखित में कौन-सा कथन सही नहीं है?

- A. अध्यापन, शिक्षा की एक आवश्यक शर्त तो होती है परन्तु पर्याप्त नहीं
B. अध्यापन के परिणाम स्वरूप बच्चे अनिवार्यतः सीखते ही हैं
C. अध्यापन में यह भावना निहित होती है कि कोई कुछ न कुछ सीखता ही है
D. अध्यापन की यह विशेषता है कि अध्यापक और अध्येता के मध्य एक विशेष संबंध होता है

115. जहाँ तक मूल्यों का प्रश्न है :

- A. प्रयोजनवादी तथा यथार्थवादी मूल्यों के सन्तोषजनक स्रोत के रूप में अलौकिकवाद या अधिदैविकता को अस्वीकृत करते हैं
B. यथार्थवादी तथा आदर्शवादी दोनों के मूल्यों का आधार मानव अनुभव होता है
C. प्रयोजनवादी तथा आदर्शवादी दोनों के लिए मूल्यों का स्रोत व्यक्ति के बाहर स्थित है
D. आदर्शवादी और यथार्थवादी दोनों के लिए मूल्यों की व्युत्पत्ती अंतर्ज्ञान तथा तर्कणा से होती है

116. वह चिन्तन क्या कहलाता है जिस में व्यक्ति बहुत सारे विचारों से आरंभ कर "एकल" समाधान पर पहुँचता है?

- A. अभिसारी चिन्तन B. ऊध्व चिंतन
C. विचारावेश D. अपसारी चिंतन

117. सामाजिक विकास अनिवार्यतः :
- सामाजिक कौशलों के विकास से जुड़ा है
 - सामाजिक व्यवस्था की अपेक्षाओं के साथ अनुसारिता का मामला है
 - सामाजिक सुरक्षा और सविकरण की प्राप्ति का मामला है
 - सामाजिक व्यवस्था और व्यक्ति के उद्देश्यों के समाकलन से संबंधित है
118. एक प्रकार का श्रेणीकरण जिसमें अलग-अलग श्रेणी-बिन्दुओं पर अध्येताओं का एक निश्चित अनुपात होता है, क्या कहलाता है?
- निरपेक्ष श्रेणीकरण
 - प्रत्यक्ष श्रेणीकरण
 - अप्रत्यक्ष श्रेणीकरण
 - सापेक्ष श्रेणीकरण
119. ADHD (ए.डी.एच.डी.) संकेताक्षर का पूरा रूप क्या है?
- अटेंशन डैफिसिट हाईपर वैटीलेटिंग डिसऑर्डर
 - अटैटिव डिजाइन हैंड डिसऑर्डर
 - अटेंशन डैफिसिट हाइपरएक्टिविटी डिसऑर्डर
 - आल डाईट हाइपरएक्टिविटी डिसऑर्डर
120. निम्नलिखित में से कौन-सा कथन व्यक्ति के विकास पर आनुवंशिकता के प्रभाव को सर्वश्रेष्ठ रूप में वर्णित करता है?
- आनुवंशिकता यह निर्धारित करता है कि हम कहाँ तक जाएँगे
 - आनुवंशिकता यह बताने के लिए कि हम किस सीमा तक जा सकते हैं एक मूलभूत निर्धारक है
 - आनुवंशिकता यह बताने के लिए कि हम किस सीमा तक जाएँगे, एक मूलभूत निर्धारक है
 - आनुवंशिकता यह निर्धारित करता है कि हम कहाँ तक जा सकते हैं
121. अधिगम के क्षेत्र सिद्धांत का मुख्य बल निम्नलिखित में से किस पर है?
- वह भूमिका जो सीखी गई सामग्री लक्ष्यों की प्राप्ति में अदा करती है
 - अधिगम प्रक्रिया की समग्रता
 - अधिगम अवस्थिति की समग्रता
 - व्यवहार की सोदेश्यता
122. निम्नलिखित में से कौन-सा विशिष्ट अधिगम निःशक्तता का उदाहरण है?
- औत्तिस्तिक स्पेक्ट्रम विकार
 - मानसिक मंदन
 - पठनवैकल्य
 - ए. डी. एच. डी.
123. परामर्श प्रक्रिया की निम्नलिखित अवस्थाओं को उस अनुक्रम में रखें जिसमें इनका पालन किया जाता है :
- कोड :
- परानुभूतिक समझ स्थापित करना
 - समापन तथा अनुवर्ती कार्यवाही
 - आरंभिक प्रक्रियाएँ
 - अंतः क्षेप कार्यनीतियाँ
- कोड :
- (a), (d), (b), (c)
 - (d), (c), (b), (a)
 - (a), (c), (d), (b)
 - (a), (b), (d), (c)
124. निम्नलिखित में से कौन-सी स्थिति प्रयोजनवाद की घातक होगी?
- खेल का उद्देश्य कार्य करने की योग्यता में सुधार लाना है
 - कोई संस्था इतनी पुनीत नहीं हो सकती जिसका विवेचित विश्लेषण अनिवार्य न हो
 - अच्छाई का विलोम बुराई होता है
 - जो एक व्यक्ति के लिए श्रेय है, वह अंतर्निहित रूप से श्रेय होगा

125. पर्यवेक्षण का मूल उद्देश्य है :
- बच्चों द्वारा अधिक प्रभावित रूप से सिखने में उनकी सहायता करना
 - उनकी अध्यापन तकनीकों को सुधरने में अध्यापकों की सहायता करना
 - बच्चों के प्रति अध्यापकों की समझ को सुधरने में उनकी सहायता करना
 - बच्चों के साथ बरताव करने में अध्यापकों के कुशल बनाने में उनकी सहायता करना
126. वे व्यक्ति जिन का शैक्षिक दर्शन प्रयोजनवाद है:
- उन का विचार है कि बुद्धिलब्धि जन्मजात होती है और स्थिर भी
 - प्रयोगीकरण की वैज्ञानिक विधि को अस्वीकार कर देते हैं
 - दावा करते हैं कि संपूर्ण रूप से वस्तु निष्ठता संभव है
 - दावा करते हैं कि ज्ञान अंतरिम या अस्थाई होता है तथा सत्य सापेक्ष होता है
127. निःशक्त बच्चों की समेकित शिक्षा से अभिप्राय है:
- आंशिक शिक्षा विशेष विद्यालयों में, तत्पश्चात सामान्य विद्यालयों में
 - बच्चों की योग्यताओं के अनुसार निःशक्त बच्चों को विशेष विद्यालय में दाखिल करना
 - आरंभ से ही उन्हें सामान्य बालकों के साथ शिक्षा देना
 - विशेष बच्चों का अध्यापन विशेष अध्यापक ही कराते हैं
128. जॉयस तथा वायल (1980) ने विभिन्न उपलब्ध अध्यापन प्रतिरूपों को चार स्पष्ट वर्गों (समूहों) में बाँटा | निम्नलिखित में से कौन-सा वर्ग, उन वर्गों में से एक नहीं है?
- व्यवहार रूपान्तरण वर्ग
 - सूचना प्रक्रमण वर्ग
 - वैयक्तिक वर्ग
 - उदार अधिगम वर्ग
129. एक लोकतान्त्रिक समाज का मूल आदर्श है :
- जिस चीज को भी व्यक्ति अनुचित समझे तुरंत उसकी आलोचना करे
 - सशक्त नेतृत्व
 - नेता के विचारों में विश्वास
 - एक प्रबुद्ध व्यक्ति के लिए सम्मान
130. संचयी बारंबारता ग्राफ को क्या कहा जाता है?
- दंड आरेख
 - तोरण
 - पाई-आरेख
 - हिस्टोग्राम
131. सत्य-असत्य परिक्षण का सर्वाधिक महत्वपूर्ण लाभ है _____।
- इसका उच्च नैदानिक मूल्य
 - इसमें संसुद्धि के माध्यम से अनुमान का विलोपन
 - इसका व्यापक प्रतिदर्शन
 - इसके मर्दों की वैधता
132. निम्नलिखित में से कौन-सा कथन मानसिक मंदता के संबंध में सही है?
- लगभग सभी प्रकार की शारीरिक चोट और मानसिक आघात मानसिक मंदता का कारण बनता है
 - मानसिक रूप से मंद बच्चों के माता-पिता भी सामान्यतः मानसिक मंदता से पीड़ित होते हैं
 - चिरकालिक संक्रमण तथा रोगों से पीड़ित माँ के बच्चों में मानसिक मंदता आ जाती है
 - अत्यंत गरीब परिवारों के बच्चे आवश्यक रूप से मानसिक मंदता का शिकार हो जाते हैं
133. निम्नलिखित में से किस की संप्राप्ति वस्तुनिष्ठ प्रकार के परिक्षण मर्दों का प्रयोग करने से नहीं की जा सकती है?
- उच्च कोटि की विश्वसनीयता
 - समंकन प्रक्रिया में वस्तुनिष्ठता
 - विषयवस्तु का व्यापक विस्तार
 - समस्या समाधान योग्यता

134. श्रव्य-द्रश्य सहायक सामग्री का मुख्य उद्देश्य है:
- जब भी कक्षा बेचैन या कोलाहल पूर्ण लगे, उसे शांत करना
 - अधिगम अनुभव के कुछ पक्षों को स्पष्ट करना
 - शाब्दिक उपागम के अति एकांतिक प्रयोग की बजाए विविधता प्रदान करना
 - वास्तविक अधिगम अनुभवों में सार्थक विधार्थी सहभागित्व का अवसर देना
135. यदि विद्यालयों ने समाज की अपेक्षाओं पर खरा उतरना है तो नीचे दिए कथनों में से तीन कथन ऐसे अहिं जिन्हें अध्यापकों को अनिवार्य रूप से करना चाहिए | जो नहीं करना चाहिए वह कौन-सा है?
- उन्हें चाहिए कि विद्यालयी क्रियाकलाप को सांस्कृतिक प्रतिरूपों से संबंधित करें
 - उन्हें चाहिए कि व्यवहार को सामाजिक अन्यान्य क्रिया के लिए निर्देशित करें और उसका रिकार्ड रखें
 - उन्हें चाहिए कि विद्यालय को प्रौढ़ समाज की एक प्रतिकृति का रूप प्रदान करें
 - उन्हें विधार्थियों की सांस्कृतिक धरोहर को जानना चाहिए
136. निम्नलिखित में से किस विधि में निष्कर्ष निकालने के लिए वर्तमान ज्ञान का उपयोग किया जाता है?
- प्रत्यक्षवाद विधि
 - आगमनात्मक तर्कणा विधि
 - निगमनात्मक तर्कणा विधि
 - सर्वेक्षण विधि
137. अधिगम को प्रभावशाली होने के लिए यह आवश्यक है कि _____ के रूप में लक्ष्य अर्थ पूर्ण हो |
- विद्यालय की प्रतिष्ठा
 - पाठ्यचर्यात्मक उद्देश्यों
 - उसमें सम्मिलित बौद्धिक विचार या धारणाओं
 - अध्येता की आवश्यकताओं और प्रयोजनों
138. एन. सी. ई. आर. टी. के विषय में निम्नलिखित में से कौन-सा कथन सही नहीं है?
- इस का मुख्य सरोकार विद्यालयी शिक्षा की गुणवत्ता में सुधार लाना है
 - यह एक सांविधिक संस्था है जिस की स्थापना संसद के अधिनियम द्वारा की गई है
 - यह सोसाइटी पंजीकरण अधिनियम के अंतर्गत पंजीकृत संस्था है
 - यह भारत सरकार की एक स्वायत्त संस्था है
139. विद्यालयी पाठ्यचर्या का उद्देश्य होता है :
- बच्चे को संघटित अर्थपूर्ण शैक्षिक अनुभूतियाँ प्रदान करना
 - शैक्षिक उपलब्धि के मानक स्थापित करना
 - भारतीय शिक्षा को एकरूपता प्रदान करना
 - बच्चे को एक प्रभावी और अर्थपूर्ण जीवनयापन के लिए अपेक्षित कौशल प्रदान करना
140. किसी परिक्षण की वैधता तथा विश्वस्तता के संबंध में निम्नलिखित में से कौन-सा कथन सर्वाधिक सही है?
- कोई परिक्षण यदि मानकीकृत नहीं है तो वह विश्वसनीय भी नहीं होगा
 - जब तक कोई परिक्षण विश्वसनीय नहीं होगा वह वैध नहीं होगा
 - जब तक कोई परिक्षण वस्तुनिष्ठ नहीं होगा, वह वैध नहीं हो सकता
 - यदि कोई परिक्षण वैध नहीं है तो वह विश्वसनीय भी नहीं होगा

141. निम्नलिखित में से कौन-सा अधिक्रम मैसलो द्वारा प्रतिपादित मानव आवश्यकता अधिक्रम का उपयुक्त क्रम है?
- A. शारीरिक, सुरक्षा, स्नेह/अपनापन, स्वाभिमान, स्वानुभूति
B. शारीरिक, स्नेह या अपनापन, सुरक्षा, स्वाभिमान, स्वानुभूति
C. स्नेह/अपनापन, शारीरिक, स्वाभिमान, सुरक्षा, स्वानुभूति
D. स्वाभिमान, शारीरिक, स्नेह/अपनापन, सुरक्षा, स्वानुभूति
142. एक विधार्थी को व्यक्तिगत रूप से समझने का मूल कारण क्या है?
- A. शैक्षिक सिद्धांत और अभ्यास की द्रष्टि से स्वयं को अघटित किया जा सके
B. ताकि उसे समांगी रूप से समझा जा सके और शैक्षिक प्रशासन सुगम बन सके
C. ताकि उसकी क्षमताओं को समझने और विकसित करने में सहायता मिल सके और उसकी दुर्बलताओं की पहचान की जा सके
D. ताकि यह मालूम हो सके कि उसने कितना और क्या सिखा है अतः वहीं से अनुदेशन आरंभ किया जा सके
143. शोध अध्ययनों के आधार पर यह स्पष्ट होता है कि बच्चों पर धार्मिक मतों और सिद्धांतों के सिद्धांतरोपण से :
- A. सामाजिक रूप से अनुमोदित व्यवहार में सार्थक रूप से कमी आई
B. उनके सामाजिक रूप से अनुमोदित व्यवहार पर कोई सार्थक प्रभाव नहीं पड़ा
C. उनके सामाजिक रूप से अनुमोदित व्यवहार में 60% की वृद्धि हो गई
D. अपराधों में प्रबल कमी आई
144. एक अध्यापक का सर्वाधिक महत्वपूर्ण कार्य है :
- A. कक्षा में व्यवस्था और अनुशासन कायम रखना
B. बच्चों के विकास को मार्ग-दर्शित करना
C. जहाँ भी आवश्यकता हो उपचारात्मक सहायता
D. प्रभावी अध्यापन करना
145. स"निबंधात्मक परीक्षण" की इतनी लोकप्रियता का मुख्य कारण है :
- A. इसकी संक्षेपण तथा संगठन कौशल को मापने की योग्यता
B. इसकी उच्च वैधता
C. इसके उच्च निदानात्मक मूल्य
D. इसकी उच्च विश्वसनीयता
146. स्रजनात्मक बालकों की पहचान निम्नलिखित में से किस तकनीक से नहीं की जा सकती अहि?
- A. बुद्धिलब्धि परिक्षण बैटरी
B. कुछ प्रेक्षणात्मक तकनीक
C. अभिक्षमता परिक्षण
D. साक्षात्कार
147. प्रकृति अनुसार शिक्षित करने से अभिप्राय है :
- A. प्राचीन काल की भांति आश्रम पद्धति की भांति प्रकृति की गोद में शैक्षिक संस्थाएँ स्थापित करना
B. मानव विकास के "प्राकृतिक नियमों" के अनुसार शिक्षित करना
C. प्रकृति नियमों का अध्ययन करना और शैक्षिक प्रक्रिया में उन का उपयोग करना
D. जीवन में कृत्रिम की बजाए प्राकृतिक की ओर अभिमुख होना
148. जब विधालयी बच्चे शरारती, विस्फोटक, विद्रोही अथवा भावशून्य हो जाएँ तो अध्यापक को सर्वप्रथम, ध्यान देना चाहिए :

- A. घर और समुदाय को गुप्त रूप से दुर्बल बनाने वाला प्रभाव की ओर
B. उसके घर का वातावरण की ओर जहाँ से बच्चा आता है
C. निर्धारित कार्य की उपयुक्तता तथा बच्चों से की गई अपेक्षाओं की ओर
D. कक्षा की समाज मितीय संरचना की ओर
149. शिक्षा के उद्देश्य निम्नलिखित में से किसमें सहायक नहीं होते?
A. मुल्यांकन उपकरणों को तैयार करने में
B. बच्चे के विकास को समझने में
C. अनुदेशात्मक सामग्री के चयन में
D. अधिगम अनुभवों के निर्माण में
150. व्याख्यान विधि किस स्थिति में सर्वाधिक उपयुक्त विधि होगी?
A. जब विवादास्पद विषयों को पढ़ाना हो
B. उपद्रवी कक्षा का ध्यान आकृष्ट करने के लिए
C. अभिरुचि के विकास और पाठ्य सामग्री के संपूरक के रूप में
D. जब पाठ्य सामग्री का पूर्ण रूप से प्रतिपादन करना हो