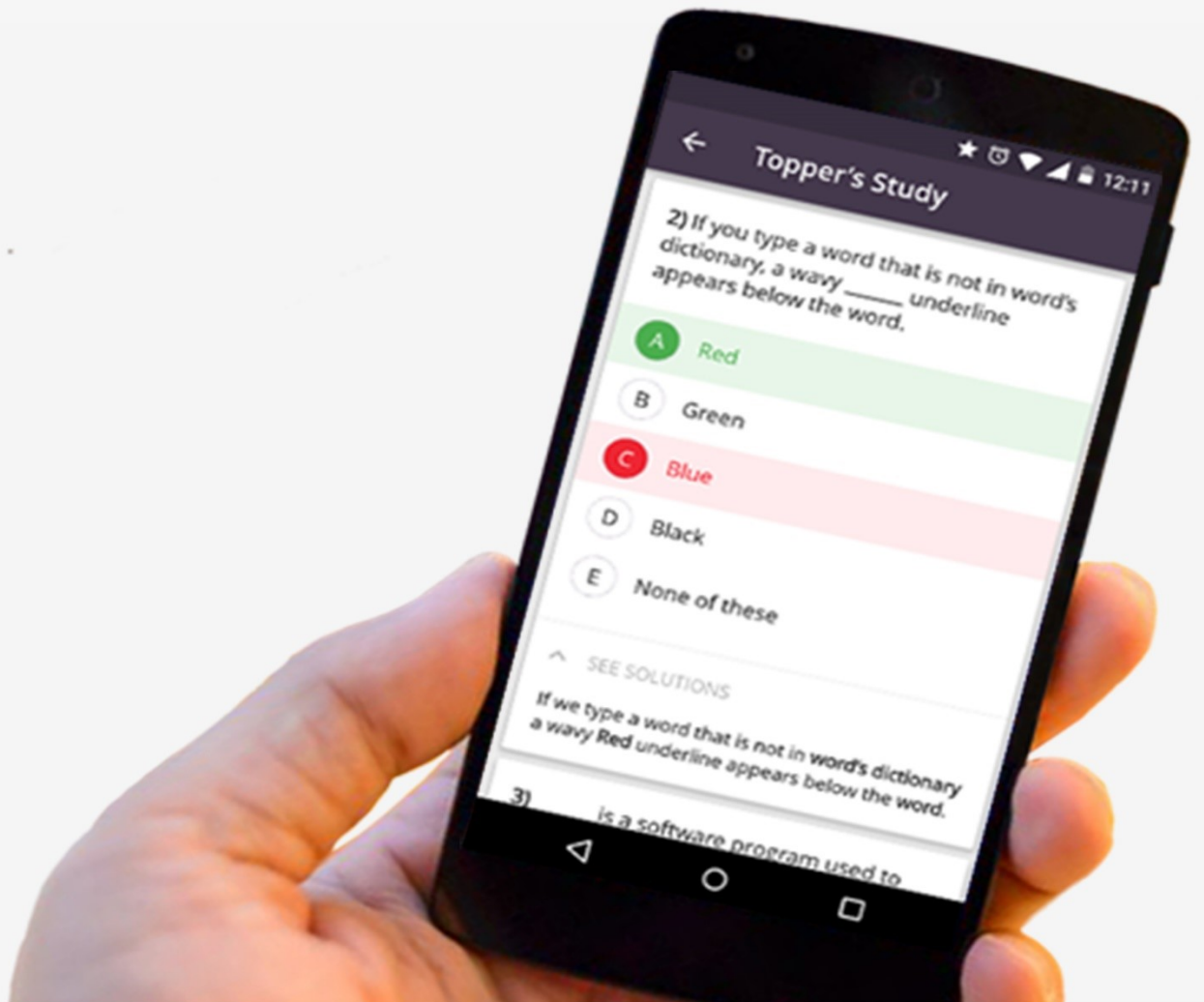




आईबीपीएस पीओ मेंस 2017

प्रश्न पत्र

(मेमोरी आधारित)



Direction (1-5): Read the following passage carefully and answer the questions that follow.

Beijing now produces almost 15 billion pounds of municipal household waste each year; the landfill at Asuwei receives 7.2 million pounds. In an effort to deal with the growing amount of trash generated by China's expanding middle class and increasingly consumerist society, Beijing and other cities are building huge incinerators—including one close to the landfill in Asuwei. The people are worried; once fully operational, the new incinerator will reportedly burn 6 million pounds of garbage a day.

Environmental authorities have said the project passed the required assessments, but the residents are mistrustful, fearing the emissions that will come from the plant. "The environment cannot tolerate it, and our health would be at risk," a lady says. She maintains that everyone in the area is against the incinerator, though only a few—including herself—are taking action, organizing and participating in public protests. She spends a lot of time reading and analyzing reports and environmental assessments, trying to find a way to stop the incinerator from opening. China's leaders appear fearful that the many, small localized bands of discontented citizens will coalesce into a larger movement; it now spends more money on internal security, which includes managing and suppressing these protests, than it does on its military. The unification of what are now disconnected grassroots actions against specific pollution sources into a national environmental movement is perceived as a threat to the rule of the Communist Party. The Internet, used by activists and protesters as a tool for sharing information, is often quickly scrubbed of evidence of any protest actions or criticism of the government. Earlier this year, a documentary film on China's environmental ills received hundreds of millions of hits in just one week before being taken down by government censors, presumably out of fear that it could become China's Silent Spring moment, sparking a nationwide outcry. At the same time, citizens are fearful too—of the rash of toxins that threaten their lives, and of the government that has shown it is willing to punish those who dare complain about the threat. Nevertheless, complaining they are, in increasing numbers and with increasing boldness—and impact.

1. Which of the following best describes the central idea of the passage?
 - A. Growing economy of the country
 - B. Banning of Internet by the Government to stop interaction
 - C. Use of harmful chemicals by the Government plants
 - D. Extension of Government support to the harmful chemical plants
 - E. Ignorance and suppression of the growing environmental threat by the Government
2. Which of the following can be inferred from the passage?
 - A. The industrialization process must be stopped in order to protect the environment.

B. The Government harasses the people who try to create awareness about the environment and engage in protests.

C. The Government is trying its best to curb pollution but it will take time to be effective.

D. The Government does not want to harm the citizens but it will take time to cut down on the rate of pollution.

E. The Government does not want to create unemployment problems thus cannot close down certain plants.

3. Which of the following is the major issue discussed in the passage?

A. The Government is supporting the growth of certain chemical plants which should be shut down keeping in mind the environmental issues.

B. The Government wants to suppress all the voices which have pointed out the fallacies in the economic policies.

C. The Government is treating the waste materials in a deleterious way that threatens the health of people.

D. The Government is practising the use of nuclear weapons on the citizens which has caused havoc in places.

E. The Government has chosen to stop all efforts for the cause of environmental upgradation.

4. Which of the following can be inferred from the given passage?

A. The citizens dare not complain against the Government as the number of people protesting is really less.

B. The Government has taken some initiatives to curb the pollution but they are not satisfactory.

C. The citizens are more concerned about losing their jobs so would not protest much.

D. The Government is too powerful to be complained against, hence no efforts are likely to bring about any change.

E. The citizens are complaining against all odds which makes it clear that they are concerned about the health threats that are lurking.

5. Which of the following can be inferred correctly from the line 'Earlier this year, a documentary film on China's environmental ills received hundreds of millions of hits in just one week'?

A. Instigating people against the government is on the process.

B. The use of Internet is high and any topic can be brought to the notice of the public through Internet.

C. The citizens of China are aware of the environmental degradation and have the mindset to protest against it.

D. Film making is a powerful force or tool that helps bring forth any issue.

E. The environment is seriously deteriorating in the country and is not a made up story.

Direction (6-7): In the given question, few sentences which are grammatically correct and meaningful are stated. Connect them to form pairs with the given word in the best possible way without changing the intended meaning. Choose the answer accordingly.

6. WHILE
 A) Point-source pollution enters the environment and the place most affected is usually the area immediately around the source and are often neglected by the government.
 B) A great deal of water pollution happens not from one single source but from many different scattered sources which is called nonpoint-source pollution and are taken care of.
 C) We know that pollution is a human problem because it is a relatively recent development in the planet's history: before the 19th century Industrial Revolution, people lived more in harmony with their immediate environment.
 D) Many initiatives have been taken by local people to reduce pollution and take care of the point sources.
- A. A-B B. B-C
 C. C-D D. Both A-B and A-D
 E. Both A-C and A-D
7. AND
 A) Nightingale came to prominence while serving as a manager of nurses trained by her during the Crimean War.
 B) Nightingale organised the tending to wounded soldiers in the camps during the war, coming to be known as the 'Lady with the Lamp.'
 C) Nightingale's social reforms include improving healthcare for all sections of British society, advocating better hunger relief in India.
 D) Nightingale helped to abolish prostitution laws that were over-harsh to women.
- A. A-C B. A-B
 C. C-D D. Both A-C and C-D
 E. Both A-B and B-C

Direction (8-10): In the given question, statements with two blanks are stated. Each blank can be filled with more than one option. Find the combination/s which can most suitably complete the sentence without altering the meaning of the statement.

8. Economic globalization is the increasing economic _____ of national economies across the world through a rapid increase in cross-border movement of goods, services, technology, and capital. Whereas the globalization of business is centred around the _____ of international trade regulations as well as tariffs, taxes, and other impediments that suppresses global trade, economic globalization is the process of increasing economic integration between countries, leading to the emergence of a global marketplace or a single world market.
- I. Interdependence
 II. Rivalry
 III. Diminution
 IV. Tyranny
 V. Specious
- A. I-IV B. II-III
 C. I-III D. III-V
 E. No combination fits

9. Meditation is a practice where an individual operates or trains the mind or _____ a mode of consciousness to allow the mind to engage in peaceful thoughts. Meditation has been practised since _____ in numerous religious traditions and beliefs. Since the 19th century, it has spread from its Asian origins to Western cultures where it is commonly practised in private and business life.
- I. Conjures
 II. Practices
 III. Induces
 IV. Arcane
 V. Antiquity
- A. I-III B. II-IV
 C. II-V D. I-V
 E. III-V
10. Some believe that the same technology that has _____ our world might also imprison us if we don't seriously examine its effects on us personally and collectively. The impact of cell phone use is more than a passing phenomenon and something worthy of _____ academic study. The impact of cell phone is still debated and various people put forward various opinions.
- I. Impacted
 II. Liberated
 III. Oppressed
 IV. Legitimate
 V. Comprehensive
- A. I-IV B. II-IV
 C. III-V D. III-IV
 E. No combination fits

Direction (11-15): Read the passage carefully and answer the questions that follow.

'When dealing with people, remember you are not dealing with creatures of logic, but with creatures of emotion, creatures with prejudice and motivated by pride and vanity.' Throughout its history, humankind has been motivated to war, terrorism, ethnic cleansing, genocide, racist hysteria, religious intolerance and extremism, mass suicide and many other forms of irrational and pathological behaviour. The problem arises as Milan Kundera defines it, when we ask that terrible anthropological question - 'What are people capable of?' Governments seek to regulate or influence the behaviour of individuals and organisations through a range of policy tools, including legislation, sanctions, regulations, taxes and subsidies, the provision of public services and information and guidance material. There is a growing range of complex policy areas, so-called 'wicked' problems, where it has become increasingly clear that government cannot simply 'deliver' key policy outcomes to a disengaged and passive public. In the areas of welfare, health, crime, employment, education and the environment, it is clear that achieving significant progress requires the active involvement and cooperation of citizens. Nudge theory(or nudge) is a concept in behavioural science, political theory and economics which proposes positive reinforcement and indirect suggestions to try to

achieve non-forced compliance to influence the motives, incentives and decision making of groups and individuals. The claim is that nudges are at least as effective, if not more effective, than direct instruction, legislation, or enforcement. The concept is a relatively subtle policy shift that encourages people to make decisions that are in their broad self-interest. It's not about penalising people financially if they don't act in certain way. It's about making it easier for them to make a certain decision. A good recent example can be found in UK pension policy. In order to increase worryingly low pension saving rates among private sector workers the Government mandated employers to establish an 'automatic enrolment' scheme in 2012. This meant that workers would be automatically placed into a firm's scheme, and contributions would be deducted from their pay packet, unless they formally requested to be exempted. The theory was that many people actually wanted to put more money aside for retirement but they were put off from doing so by the need to make what they feared would be complicated decisions. The idea was that auto enrolment would make saving the default for employees, and thus make it easier for them to do what they really wanted to do and push up savings rates. In many areas of public policy the range of traditional tools to influence behaviour works well. For some social policy problems, however, influencing human behaviour is very difficult and complex, and the effectiveness of traditional approaches may be limited without some additional tools and understanding of how to engage citizens in cooperative behavioural change.

11. Which of the following can be inferred from the first few lines of the passage?
 - A. People fail to achieve certain objectives in life because they fail to think logically.
 - B. Politics exists in society because people fail to think with logic.
 - C. Driven by emotions, people involve themselves in terrible activities.
 - D. Dealing with people at times is easier because everyone is of the same kind.
 - E. Since human beings are not logical creatures influencing them has to be through emotions.
12. Which of the following can be inferred about the nudge theory often applied by the governments?
 - A. It helps to implement laws which are liked by the people.
 - B. It is perfect in many cases as it brings more participation on the people's part.
 - C. The chances of deceiving the people reduce a lot when using this theory.
 - D. The laws implemented using this theory often bring advantage to the government by misleading the people.
 - E. Financial decisions taken on this basis often become a problem and penalty for the people.

13. Which of the following is TRUE, according to the passage?
 - A. The efficacy of the policies on the basis of nudge theory is really low as they involve the minds of a large number of people.
 - B. The success of the policies implemented through this theory is higher than that of the direct policies which are enforced by the Government.
 - C. The decisions taken through this theory are solely people's decisions without anyone's influence.
 - D. The decisions taken through this theory seem to have been people's own decisions but they are actually influenced.
 - E. The evil behind the implementation of nudge theory should be understood.
14. Which of the following best describes the essence of the passage?
 - A. Emotions of people exploited by politicians
 - B. Deception of the people by the government using psychological tools.
 - C. The implementation of nudge theory and the associated problems.
 - D. The influence of politics in people's lives
 - E. Advantages of the nudge theory and its implementation in politics.
15. Which of the following was the main advantage of the UK pension policy of 2012?
 - A. It made people realize that decisions taken in haste do not yield to good results.
 - B. It helped the government to invest more on infrastructure and planning activities of an organization.
 - C. It encouraged people to save more money for their future without any fear or hesitation.
 - D. It helped the people to have a huge amount of money with higher interest rates.
 - E. It made people take complicated decisions and made the passive people think.
16. Direction: In the given question, four words are given of which two are most nearly the same or opposite in meaning. Find the two words and indicate your answer by marking the option which represents the correct combination.

A. Tormented	
B. Agonised	
C. Aroused	
D. Removed	
A. A – C	B. A – B
C. A – D	D. C – D
E. B – C	
17. Direction: In the given question, four words are given of which two are most nearly the same or opposite in meaning. Find the two words and indicate your answer by marking the option which represents the correct combination.

A. Fathomed	
B. Devastated	
C. Ruined	
D. Abrupt	
A. B – D	B. B – C
C. C – D	D. A – C
E. A – D	

18. Direction: In the given question, four words are given of which two are most nearly the same or opposite in meaning. Find the two words and indicate your answer by marking the option which represents the correct combination.

A. Consent
B. Nascent
C. Emerging
D. Insecure

A. A – C
B. B – D
C. B – C
D. A – D
E. A – B

19. Direction: In the given question, four words are given of which two are most nearly the same or opposite in meaning. Find the two words and indicate your answer by marking the option which represents the correct combination.

A. Abundance
B. Incomparable
C. Projection
D. Plethora

A. A – C
B. A – B
C. C – D
D. B – D
E. A – D

Direction(20-22): Read the five given statements carefully and answer the questions that follow.

I. Increased prosperity oftentimes leads to trouble, for it creates expectations of power and status to go with it

II. The problem was that the middle class artisans and farmers had little or no social status or political power to go with the expectation to fight in the phalanx.

III. In many, usually the more commercial poleis such as Corinth, Megara, and Athens, some disgruntled and ambitious nobles used the frustrated middle class to seize power from the ruling aristocracy.

IV. In order to maintain his popularity, the tyrant protected peoples' rights with a written law code, literally carved in stone, confiscated the lands of the nobles he had driven from power and redistributed them among the poor and provided jobs through building projects.

V. However, the increased prosperity brought on by the tyrants only gave the people a taste for more of the same.

20. Which of the following statements can follow statement V?

A. In the more agricultural poleis, the farmer-hoplites seem to have taken control more peacefully.

B. This ethos of equality discouraged the accumulation of large fortunes and encouraged the rich to donate their services and wealth to the polis

C. By the second or third generation, tyrants could not or would not meet those growing demands, and people grew resentful.

D. Since it was the farmers who both declared war and fought it for the polis, they made sure that it was short and decisive so it would not disrupt their agricultural work or damage their crops.

E. Eventually, this feedback of resentment and repression would lead to a revolution to replace the tyrants with a limited democracy.

21. Which of the following statements fits between II and III?

A. Thus the sixth century B.C.E. saw a flourishing of Greek culture in such areas as architecture, sculpture, and poetry.

B. Their frustration in more commercial poleis played itself out somewhat differently than in the more agricultural poleis, but ultimately with the same basic result.

C. Pheidon, the ruler of Argos, was the first to use the new hoplite phalanx against Sparta, defeating it in the process.

D. Such is the fuel of revolutions, and ancient Greece was no exception.

E. People who have virtually nothing expect nothing more.

22. Which of the following statements can replace statement III?

A. Being a very significant era the actions and policies had an everlasting effect on the society.

B. Revolts broke out in small parts and it had to be subdued by the aristocracies.

C. It was a period of social unrest and chaos and commotion characterized the era.

D. Thus came the end of the era of aristocracies.

E. The situation was utilized by the nobles and with the help of the middle class they rose to powerful positions overthrowing the aristocracies.

23. Which of the following structures of the given words best represents a grammatically and meaningfully coherent sentence?

Purposes related to one's business specific and it also promotes is essential for greater staff training job satisfaction.

A. For specific purposes related to staff training and one's business also promotes greater job satisfaction it is essential.

B. Greater job satisfaction for specific purpose is essential to one's business and it also promotes related staff training.

C. Staff training is essential for specific purposes related to one's business and it also promotes greater job satisfaction.

D. Related staff training to one's business for specific purposes also promotes and it is essential for greater job satisfaction.

E. Specific and greater job satisfaction purposes related to one's business is for essential greater purposes training staff.

24. Direction: Arrange the given sentences sequentially to form a grammatically correct and coherent sentence.

The outcome of World War II had a greater extent than World War I and seemed to merely plant the seeds for another great power conflict. The battle lines were drawn when the Soviet Union created an Iron Curtain stretching across most of Central and Eastern Europe.

A. The outcome of World War II had a greater extent than World War I and seemed to merely plant the seeds for another great power conflict

when the battle lines were drawn when the Soviet Union created an Iron Curtain stretching across most of Central and Eastern Europe.

B. As the outcome of World War II had a greater extent than World War I and seemed to merely plant the seeds for another great power conflict the battle lines were drawn when the Soviet Union created an Iron Curtain stretching across most of Central and Eastern Europe.

C. The outcome of World War II had a greater extent than World War I and seemed to merely plant the seeds for another great power conflict as the battle lines were drawn when the Soviet Union created an Iron Curtain stretching across most of Central and Eastern Europe.

D. When the outcome of World War II had a greater extent than World War I and seemed to merely plant the seeds for another great power conflict, the battle lines were drawn when the Soviet Union created an Iron Curtain stretching across most of Central and Eastern Europe.

E. None of these

25. **Direction:** In the given sentence, some parts are printed in bold while some are not. The parts printed in bold are correct and need no improvement. The parts which are not printed in bold may or may not be correct. Choose the part which is incorrect and needs improvement.

China will either shut down or **curtail operations** at dozens of steel plants from November 2017, over the next five months for an aggressive action plan **to reduce winter pollution** in Beijing and its surrounding areas.

A. will either shut down

B. **curtail operations at** dozens of

C. for an aggressive action plan

D. plan **to reduce winter pollution** in

E. Beijing and its surrounding areas.

26. **Direction:** In the given sentence, some parts are printed in bold while some are not. The parts printed in bold are correct and need no improvement. The parts which are not printed in bold may or may not be correct. Choose the part which is incorrect and needs improvement.

A **ban came into effect on** 1 June 2008 that prohibits all supermarkets, department stores and shops throughout Kenya **from giving out free plastic bags**, therefore encouraging people to use cloth bags as during the ancient times.

A. A **ban came into effect on**

B. that prohibits all supermarkets, department stores

C. and shops throughout Kenya

D. **from giving out free plastic bags**, therefore encouraging

E. to use cloth bags as during the ancient times

27. **Direction:** In the given sentence, some parts are printed in bold while some are not. The parts printed in bold are correct and need no improvement. The parts which are not printed in bold may or may not be correct. Choose the part which is incorrect and needs improvement.

Safety officials **have been moving from province to province** shutting down factories as well as electricity and gas as they inspect the factories for meeting **emissions requirement that has** resulted in late and missed orders, increased costs, and could ultimately resulting in higher prices on US shelves.

A. Safety officials **have been moving from**

B. shutting down factories as well as electricity and gas

C. for meeting **emissions requirement that has** resulted

D. increased costs, and could ultimately

E. resulting in higher prices on US shelves.

28. **Direction:** Five statements are given at A, B, C, D and E. Among these, four statements are in a logical order and form a coherent paragraph/passage. From the given options, choose the option that does not fit into the theme of the passage.

A. Maharashtra's Vidarbha region has faced an immense developmental backlog and an acute agrarian crisis that has led to nearly 14,000 suicides of farmers in the last 16 years.

B. Since July this year, it is facing another kind of disaster with farm laborers and small farmers being hospitalized for symptoms of pesticide poisoning.

C. Considering the public outrage over farmer suicides and the state of agriculture, both the state and central governments ought to be extra vigilant about such occurrences.

D. One of the main reasons for the intense spraying of pesticide for cotton pests in July this year is explained by the findings of the CICR.

E. Pesticide dealers are central players and are not shy to promote and sell toxic pesticides to illiterate farmers.

Direction (29-35): In the following passage, there are blanks each of which has been numbered. These numbers correspond to the question numbers; against each question, five options with two words in each have been suggested (both the words should fit the given blank).

In good economic times as well as in bad, financial ___(###Q29###)___ can always strike. And when it does, people might have to ___(###Q30###)___ on housing, which is typically the largest household expense. However, cutting housing costs involves hard ___(###Q31###)___: moving can be expensive and ___(###Q32###)___, and living with family, friends, or strangers ___(###Q33###)___. Twice as many people would prefer downsizing than the next most popular actions of renting out part of their home to a roommate or housemate or moving to a more ___(###Q34###)___ neighbourhood. Far fewer people would take the more ___(###Q35###)___ of living in their car or not paying the rent or mortgage.

29. Find the appropriate word in each case.
A. Hardship, turnover
B. Nettle, background
C. Deprivation, hardship
D. Goad, Expense
E. Background, expense
30. Find the appropriate word in each case.
A. Call on, Eliminate
B. Cut back, make a reduction
C. Cut back, Decide
D. Make a reduction, Decide
E. Eliminate, Decide
31. Find the appropriate word in each case.
A. Halcyon, compromises
B. Halcyon, decisions
C. Rattle, halcyon
D. Tradeoffs, compromises
E. Steps, decisions
32. Find the appropriate word in each case.
A. A hassle, a nuisance
B. Hasidic, a nuisance
C. A harassment, an objective
D. An objective, Hasidic
E. A hassle, a freight
33. Find the appropriate word in each case.
A. Is not easy, is often zealous
B. Is often zealous, can cause disputes
C. Brings out negativities, can cause disputes
D. Can be a challenge, can cause discomfort
E. Can be dangerous, is often zealous
34. Find the appropriate word in each case.
A. Jeune, Affordable B. Priced, Insidious
C. Jeune, Insidious D. Bolster, priced
E. Affordable, reasonably priced
35. Find the appropriate word in each case.
A. Severity, mundane steps
B. Abstinence actions, drastic steps
C. Radical actions, drastic steps
D. Severity, aberration
E. Abrasion, Mundane steps
36. निर्देश: श्रेणी में गलत पद चुने-
8.4, 8.2, 8.6, 7.8, 9.4, 6.4, 12.6
A. 8.2 B. 7.8
C. 6.4 D. 12.6
E. 9.4
37. निर्देश: श्रेणी में गलत पद चुने
2, 3, 8, 27, 112, 570, 3396
A. 3 B. 570
C. 3396 D. 8
E. 112
38. निर्देश: श्रेणी में गलत पद चुने
602, 598, 591, 563, 498, 372, 155
A. 155 B. 591
C. 498 D. 598
E. 372
39. निर्देश: श्रेणी में गलत पद चुने
7, 4, 5, 9, 21, 52.5, 160.5
A. 52.5 B. 21
C. 5 D. 9
E. 4

40. निर्देश: श्रेणी में गलत पद चुने
130, 60, 34, 18, 10, 6, 4
A. 60 B. 18
C. 6 D. 10
E. 4

निर्देश (41-45): नीचे दी गई जानकारी को ध्यानपूर्वक पढ़ें और इस पर आधारित प्रश्नों के उत्तर दें।

सारिणी चार गांवों से सर्वे में भाग लेने वाले ऑनलाइन और ऑफलाइन प्रतिभागियों की संख्या को और सर्वे (ऑनलाइन और ऑफलाइन) पूरा न करने वाले कुल प्रतिभागियों को दर्शाती है।

नोट 1: गांव में कुल प्रतिभागी = ऑनलाइन प्रतिभागी + ऑफलाइन प्रतिभागी

नोट 2: गांव में कुल प्रतिभागी = सर्वे पूरा करने वाले प्रतिभागियों की संख्या + सर्वे पूरा न करने वाले प्रतिभागियों की संख्या

गांव	ऑनलाइन प्रतिभागी	ऑफलाइन प्रतिभागी	सर्वे पूरा नहीं करने वाले प्रतिभागियों की संख्या
A	486	46%	92
B	336	52%	108
C	480	40%	76
D	455	30%	128
E	216	55%	84

41. गांव A में, यदि सर्वे पूरा न करने वाले ऑनलाइन और ऑफलाइन प्रतिभागियों की संख्या समान है, गांव A से सर्वे पूरा करने वाले प्रतिभागियों की संख्या, समान गांव से सर्वे पूरा करने वाले ऑफलाइन प्रतिभागियों की संख्या की कितने प्रतिशत (लगभग) है?
A. 15% B. 25%
C. 12% D. 20%
E. 32%
42. गांव C से सर्वे पूरा करने वाले कुल प्रतिभागियों की संख्या, गांव B से सर्वे पूरा करने वाले प्रतिभागियों की संख्या से कितने कम या अधिक है?
A. 240 B. 132
C. 152 D. 212
E. 158
43. यदि गांव 'D' से सर्वे पूरा न करने वाले ऑनलाइन और ऑफलाइन प्रतिभागियों की संख्या में 5:3 का अनुपात है और सर्वे पूरा करने वाले 40 प्रतिशत ऑनलाइन प्रतिभागी पुरुष हैं और सर्वे पूरा करने वाले 25 प्रतिशत ऑफलाइन प्रतिभागी महिलाएँ हैं तो सर्वे पूरा करने वाले ऑनलाइन महिला प्रतिभागियों की संख्या और सर्वे पूरा करने वाले ऑफलाइन पुरुष प्रतिभागियों की संख्या में अंतर बताइये?
A. 105 B. 85
C. 112 D. 86
E. 212
44. गांव C से गांव E में ऑफलाइन प्रतिभागियों की संख्या में अंतर ज्ञात कीजिये?
A. 68 B. 72
C. 46 D. 58
E. 56
45. गांव A से सर्वे पूरा करने वाले ऑनलाइन और ऑफलाइन प्रतिभागियों की कुल संख्या, गांव D से सर्वे में भाग लेने वाले प्रतिभागियों की संख्या का लगभग कितने प्रतिशत है?

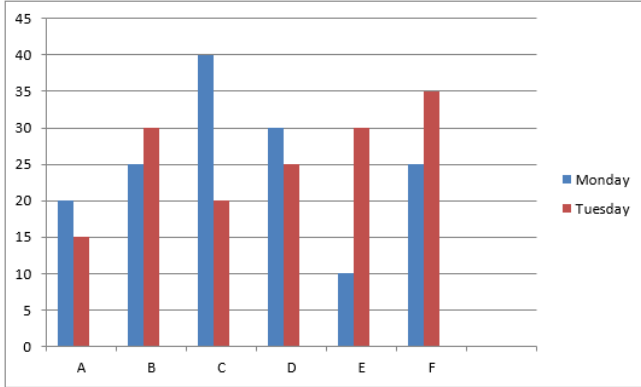
- A. 110% B. 135%
C. 55% D. 59%
E. 98%
46. निम्नलिखित प्रश्न में, कुछ कथन दिए गए हैं। आपको यह निर्धारित करना है कि प्रश्न का उत्तर देने के लिये निम्नलिखित में से कौन सा/से कथन आवश्यक है:
एक स्कूल में, 60 प्रतिशत लड़कों ने और 40 प्रतिशत लड़कियों ने एक खेल में भाग लिया। स्कूल में कितने लड़के हैं?
I. यहां पर 300 से अधिक लड़के हैं। 120 लड़कियों ने खेल में भाग लिया है।
II. स्कूल में लड़कियों की संख्या, खेल में भाग लेने वाले लड़कों की संख्या से 25 प्रतिशत अधिक है।
A. अकेले कथन I में दी गई जानकारी प्रश्न का उत्तर देने के लिये पर्याप्त है, जब कि अकेले कथन II में दी गई जानकारी प्रश्न का उत्तर देने के लिये पर्याप्त नहीं है।
B. अकेले कथन II में दी गई जानकारी प्रश्न का उत्तर देने के लिये पर्याप्त है, जब कि अकेले कथन I में दी गई जानकारी प्रश्न का उत्तर देने के लिये पर्याप्त नहीं है।
C. या तो अकेले कथन I या अकेले कथन II में दी गई जानकारी प्रश्न का उत्तर देने के लिये पर्याप्त है।
D. दोनों कथन I और कथन II में दी गई जानकारी एक साथ प्रश्न का उत्तर देने के लिये पर्याप्त नहीं है।
E. दोनों कथन I और कथन II में दी गई जानकारी एक साथ प्रश्न का उत्तर देने के लिये पर्याप्त है।
47. **दिशा निर्देश:** निम्नलिखित प्रश्न में, कुछ कथन दिए गए हैं। आपको यह निर्धारित करना है कि प्रश्न का उत्तर देने के लिये निम्नलिखित में से कौन सा/से कथन आवश्यक है:
एक बॉक्स में 10 ट्यूब लाइट हैं जिनमें से आधी खराब हैं। बॉक्स से दो ट्यूब लाइटों को एक साथ खींचा जाता है। यदि बॉक्स में लाइटों का N खराब है, तो N का मान क्या है?
I. निकाली गई दो ट्यूबों के खराब होने की संभावना $1/15$ होगी।
II. निकाली गई ट्यूबों में से एक के खराब होने की तथा दूसरी के खराब न होने की संभावना $7/15$ होगी।
A. केवल कथन I पर्याप्त है
B. केवल कथन II पर्याप्त है
C. दोनों कथन I तथा II पर्याप्त हैं
D. कथन I या कथन II अकेले पर्याप्त है
E. न तो कथन I न ही कथन II पर्याप्त है
48. **निर्देश:** नीचे दिये गये प्रत्येक प्रश्न में एक प्रश्न और दो कथन I और II समाहित हैं। कथन को पढ़ें और निर्धारित करें कि दिये गये प्रश्न के उत्तर देने के लिये कौन सा कथन आवश्यक है।
जब मूलधन के 20 प्रतिशत पर साधारण ब्याज को शेष राशि पर 2 वर्षों में प्राप्त होने चक्रवृद्धि ब्याज में जोड़ा जाता है, तो एक वर्ष में कमाया गया कुल लाभ प्रतिशत बताइये?
कथन I : दोनों राशियों पर ब्याज दर क्रमशः 5% और 10% है।
कथन II : साधारण ब्याज से 1500 रु. का लाभ कमाया गया।

- A. अकेले कथन I में दी गई जानकारी प्रश्न का उत्तर देने के लिये पर्याप्त है, जब कि अकेले कथन II में दी गई जानकारी प्रश्न का उत्तर देने के लिये पर्याप्त है।
B. अकेले कथन II में दी गई जानकारी प्रश्न का उत्तर देने के लिये पर्याप्त है, जब कि अकेले कथन I में दी गई जानकारी प्रश्न का उत्तर देने के लिये पर्याप्त है।
C. या तो कथन I या कथन II में दी गई जानकारी प्रश्न का उत्तर देने के लिये पर्याप्त है।
D. यदि ना तो कथन I ना ही कथन II में दी गई जानकारी प्रश्न का उत्तर देने के लिये पर्याप्त नहीं है।
E. दोनों कथन I और II में एक साथ दी गई जानकारी प्रश्न का उत्तर देने के लिये पर्याप्त है।
49. **निर्देश:** नीचे दिये गये प्रत्येक प्रश्न में एक प्रश्न और दो कथन I और II दिये गये हैं। दोनों कथनों को पढ़ें और निर्धारित करें कि कथनों में दिया गया डेटा उत्तर देने के लिये पर्याप्त है या नहीं।
दो द्विअंकीय धनात्मक संख्या के अंकों का योग क्या होगा यदि दोनों संख्याएँ एक ही संख्या के अंकों को पलटने से प्राप्त हों?
कथन I: दो अंकों का योग 13 है।
कथन II: अंकों का अन्तर 5 है जबकि अंकों का गुणनफल 24 है।
A. कथन I में दिया गया डेटा अकेले उत्तर देने के लिये पर्याप्त है जबकि कथन II में दिया गया डेटा उत्तर देने के लिये पर्याप्त नहीं है।
B. कथन II में दिया गया डेटा अकेले उत्तर देने के लिये पर्याप्त है जबकि कथन I में दिया गया डेटा उत्तर देने के लिये पर्याप्त नहीं है।
C. या तो कथन I या कथन II में दिया गया डेटा अकेले उत्तर देने के लिये पर्याप्त है।
D. ना तो कथन I ना कथन II में दिया गया डेटा उत्तर देने के लिये पर्याप्त है।
E. दोनों कथन I व कथन II में दिया गया डेटा उत्तर देने के लिये पर्याप्त है।
50. 15000 रुपये की धनराशि पर एक वर्ष के लिये चक्रवृद्धि ब्याज और साधारण ब्याज में अन्तर ज्ञात कीजिये?
कथन I: चक्रवृद्धि ब्याज और साधारण ब्याज की दर के बीच अन्तर 3.8% है।
कथन II: चक्रवृद्धि ब्याज और साधारण ब्याज की दर के बीच अनुपात 3:8 है।
A. कथन I में दिया गया डेटा अकेले उत्तर देने के लिये पर्याप्त है जबकि कथन II में दिया गया डेटा उत्तर देने के लिये पर्याप्त नहीं है।
B. कथन II में दिया गया डेटा अकेले उत्तर देने के लिये पर्याप्त है जबकि कथन I में दिया गया डेटा उत्तर देने के लिये पर्याप्त नहीं है।
C. या तो कथन I या कथन II में दिया गया डेटा अकेले उत्तर देने के लिये पर्याप्त है।
D. ना तो कथन I ना कथन II में दिया गया डेटा उत्तर देने के लिये पर्याप्त है।
E. दोनों कथन I व कथन II में दिया गया डेटा उत्तर देने के लिये पर्याप्त है।

निर्देश (51-55): नीचे दी गई जानकारी का ध्यानपूर्वक अध्ययन करें और इस पर आधारित प्रश्नों के उत्तर दें।

बार चार्ट, सप्ताह के दो विभिन्न दिनों अर्थात् सोमवार और मंगलवार को 6 विभिन्न वस्तुओं पर दी गई छूट प्रतिशत को दर्शाता है। सारिणी में विभिन्न वस्तुओं का अंकित मूल्य दिया गया है। सारिणी में कुछ जानकारी विलुप्त है।

नोट- दोनों दिनों में वस्तुओं के लागत मूल्य और अंकित मूल्य समान हैं।



वस्तु	अंकित मूल्य
A	---
B	1500
C	1400
D	---
E	1200
F	---

51. यदि दोनों दिनों में वस्तु F के विक्रय मूल्य का अंतर 100 रुपये है, तो समान वस्तु का लागत मूल्य ज्ञात कीजिये यदि वस्तु F पर सोमवार को 25% का लाभ होता है?
- A. 500 B. 600
C. 700 D. 800
E. 750
52. यदि मंगलवार को वस्तु D और मंगलवार को वस्तु A पर होने वाला लाभ क्रमशः 20% और 27.5% हैं तो वस्तु D और वस्तु A के लागत मूल्य का अनुपात ज्ञात कीजिये, यदि वस्तु A का अंकित मूल्य, वस्तु D के अंकित मूल्य का $\frac{3}{4}$ है?
- A. 5:6 B. 4:5
C. 5:4 D. 3:5
E. 5:8
53. मंगलवार को वस्तु A और सोमवार को वस्तु E का विक्रय मूल्य 1590 है। सोमवार को वस्तु C का लाभ ज्ञात कीजिये, यदि वस्तु C का लागत मूल्य, वस्तु A के अंकित मूल्य का $\frac{5}{4}$ है?
- A. 110 B. 80
C. 250 D. 90
E. 125

54. सोमवार को वस्तु B, मंगलवार को वस्तु C और वस्तु E के विक्रय मूल्य का योग ज्ञात कीजिये?
- A. 3100 B. 2165
C. 3085 D. 2750
E. 1790
55. यदि वस्तु B और वस्तु D का कुल लागत मूल्य 1500 रुपये है तो वस्तु D का लागत मूल्य ज्ञात कीजिये यदि मंगलवार को वस्तु B का लाभ 5% है?
- A. 700 B. 600
C. 800 D. 550
E. 500

निर्देश (56-60): नीचे दी गई जानकारी का ध्यानपूर्वक अध्ययन करें और इस पर आधारित प्रश्नों के उत्तर दें।

यहां पर तीन राजमार्ग हैं अर्थात् राजमार्ग A, राजमार्ग B और राजमार्ग C, विभिन्न दिनों अर्थात् शुक्रवार, शनिवार और रविवार को इन राजमार्गों पर कुछ वाहनों की संख्या होती है। प्रत्येक दिन इन तीन राजमार्गों से कुछ संख्या में वाहन गुजरते हैं।


शुक्रवार: राजमार्ग B पर वाहनों की संख्या, शनिवार को राजमार्ग B पर वाहनों की संख्या का एक-तिहाई है। राजमार्ग C पर वाहनों की संख्या, शनिवार को राजमार्ग C पर वाहनों की संख्या का $\frac{3}{4}$ है। राजमार्ग A और C पर वाहनों की संख्या समान है।

शनिवार: शनिवार को वाहनों की कुल संख्या 75000 है। राजमार्ग B पर वाहनों की संख्या, राजमार्ग A और C पर एक साथ वाहनों की कुल संख्या से 15000 कम हैं। राजमार्ग A पर वाहनों की संख्या, रविवार को राजमार्ग A पर वाहनों की संख्या का $\frac{5}{6}$ है।

रविवार: रविवार को कुल वाहनों की संख्या, शनिवार को वाहनों की संख्या का $\frac{4}{5}$ है। राजमार्ग A पर वाहनों की संख्या, शनिवार को राजमार्ग B पर वाहनों की संख्या के बराबर है। शनिवार और रविवार को राजमार्ग C पर वाहनों की संख्या समान है।

56. शुक्रवार को कुल वाहनों की संख्या बताइये?
- A. 45000 B. 40000
C. 50000 D. 55000
E. 48000
57. तीन दिनों में राजमार्ग A पर कुल वाहनों की संख्या बताइये?
- A. 75000 B. 65000
C. 60000 D. 70000
E. 80000
58. रविवार को वाहनों की औसत संख्या बताइये?
- A. 15000 B. 20000
C. 25000 D. 10000
E. 12000
59. शनिवार को राजमार्ग A पर वाहनों की संख्या और शुक्रवार को राजमार्ग C पर वाहनों की संख्या में अंतर बताइये?
- A. 5000 B. 15000
C. 10000 D. 20000
E. 8000
60. शुक्रवार को राजमार्ग B पर वाहनों की संख्या, रविवार को कुल वाहनों की संख्या का लगभग कितने प्रतिशत है?
- A. 15% B. 18%
C. 12% D. 17%
E. 21%

निर्देश (61-65): निम्नलिखित प्रश्नों में मात्रा I और मात्रा II के लिये उपयुक्त संबंध बताइयें।

61. दिया है कि, $A+B=11$ और $A^2 + B^2=73$.
मात्रा 1: $A^3 + B^3$
मात्रा 2: 539
A. मात्रा 1 > मात्रा 2 B. मात्रा 1 < मात्रा 2
C. मात्रा 1 \geq मात्रा 2 D. मात्रा 1 \leq मात्रा 2
E. मात्रा 1 = मात्रा 2 अथवा कोई संबंध नहीं है
62. दिया है कि, $m^4=1/625$ और $m^3 < m^2$.
मात्रा 1: m का मान
मात्रा 2: 0
A. मात्रा 1 > मात्रा 2 B. मात्रा 1 < मात्रा 2
C. मात्रा 1 \geq मात्रा 2 D. मात्रा 1 \leq मात्रा 2
E. मात्रा 1 = मात्रा 2 अथवा कोई संबंध नहीं है
63. एक बक्से में 01 से 63 संख्या तक अंकित किये गए 63 कार्ड हैं। प्रत्येक कार्ड पर केवल एक संख्या अंकित हैं।
मात्रा 1: एक कार्ड के उठाने की प्रायिकता जिसके अंको को यदि आपस में बदल दिए जाए तो परिणामी संख्या, वास्तविक संख्या से 36 अधिक होती है।
मात्रा 2: एक कार्ड के उठाने की प्रायिकता, जिस पर अंकित संख्या 8 का गुणक है लेकिन 16 का नहीं।
A. मात्रा 1 < मात्रा 2
B. मात्रा 2 < मात्रा 1
C. मात्रा 1 = मात्रा 2
D. संबंध स्थापित नहीं किया जा सकता
E. उपरोक्त में से कोई नहीं
64. मीरा 3 मील प्रति घंटे की चाल से स्कूल जाती है। एक दिन स्कूल पहुंचने पर उसे एहसास हुआ कि वह अपनी किताबें लाना भूल गई हैं, इसलिये वह तुरंत 6 मील प्रति घंटे की चाल से घर गई। फिर वह 4 मील प्रति घंटे की चाल से स्कूल गई। हर बार उसने एक ही रास्ते का प्रयोग किया।
मात्रा I: पूरी यात्रा के दौरान उसकी औसत चाल।
मात्रा II: 4 मील प्रति घंटे
A. मात्रा I > मात्रा II B. मात्रा I < मात्रा II
C. मात्रा I \geq मात्रा II D. मात्रा I \leq मात्रा II
E. मात्रा I = मात्रा II या कोई भी संबंध स्थापित नहीं किया जा सकता।
65. यदि $PQ = QS$, $QR = RS$ और $\angle PRS = 104^\circ$
- 
- परिमाण A:** कोण $\angle QPS$ का मान डिग्री में ज्ञात कीजिये?
परिमाण B: डिग्री मान 20° , 19°
A. परिमाण A < परिमाण B
B. परिमाण A > परिमाण B
C. परिमाण A \leq परिमाण B
D. परिमाण A \geq परिमाण B
E. परिमाण A = परिमाण B अथवा कोई संबंध नहीं है

66. B, A से 200 प्रतिशत अधिक कार्यकुशल है और C से 50 प्रतिशत अधिक कार्यकुशल है। यदि वे सभी काम पूरा करने के लिए एक साथ 2 दिनों तक काम करते हैं तो A अकेले कितने दिनों में यह काम पूरा करेगा?
A. 10 दिन B. 12 दिन
C. 4 दिन D. 6 दिन
E. 8 दिन
67. A, B और C की आयु का योग 81 वर्ष है। एक वर्ष पहले A और B की आयु में 1:2 का अनुपात था, एक वर्ष पहले B और C की आयु में 4:7 का अनुपात था, तो 6 वर्ष बाद B की आयु ज्ञात कीजिये?
A. 33 वर्ष B. 35 वर्ष
C. 42 वर्ष D. 31 वर्ष
E. 29 वर्ष
68. यदि समान त्रिज्या (R) के वृत्त की परिधि और अर्धवृत्त की परिधि का योग 400 से.मी. है तो अन्य वृत्त की त्रिज्या ज्ञात कीजिये, जिसकी जिसकी त्रिज्या, R से 200 प्रतिशत अधिक है?
A. 75 से.मी. B. 105 से.मी.
C. 63 से.मी. D. 48 से.मी.
E. 42 से.मी.
69. यहां पर दो बर्तन A और B हैं, जिनमें दूध और पानी है। बर्तनों में मात्राओं का अनुपात 6:7 है और दोनों बर्तनों में समान मात्रा में पानी है। बर्तन A और B में शुद्ध दूध की मात्रा क्रमशः 40 लीटर और 50 लीटर है। अब इन दोनों बर्तनों A और B को एक अन्य बर्तन C में पलटा जाता है। बर्तन C में दूध और पानी का अनुपात ज्ञात कीजिये?
A. 9:4 B. 3:4
C. 5:6 D. 7:5
E. 8:11
70. एक दुकानदार ने एक घड़ी और एक स्पीकर कुल 1600 रु. में खरीदा। उसने घड़ी को 30 प्रतिशत के लाभ पर बेचा और स्पीकर के अंकित मूल्य पर 20 प्रतिशत की छूट देने के बाद 20 प्रतिशत के लाभ पर बेचा। उसका कुल लाभ 25.625 प्रतिशत हुआ। यदि वह स्पीकर को अंकित मूल्य पर ही बेचता तो उसे और कितना लाभ होता?
A. 225 B. 180
C. 210 D. 216
E. इनमें से कोई नहीं

दिशा निर्देश (71-72): निम्न जानकारी का ध्यानपूर्वक अध्ययन करें और नीचे दिए गए प्रश्नों के उत्तर दें।

"जैसा कि विज्ञापित किया गया है कि माताओं ने अपने भूखे बच्चों की नहीं, बल्कि मैगी की किस्मत बदल दी है। खाना पकाने की पुस्तकों में उपलब्ध चाउमीन और हक्का नूडल्स बनाने की छोटी सी विधि भी कम से कम आधा घंटा लेगी।"

यह प्रश्न ऊपर दी गयी जानकारी और नीचे दिए गए वाक्य (A), (B), (C), (D), (E) and (F) पर आधारित है।

A) भूखे बच्चों को उनकी माताओं द्वारा मैगी खिलाया गया और इसलिए स्नैक्स की लोकप्रियता में वृद्धि हुई।

B) मैगी बाजार में उपलब्ध अन्य हक्का नूडल्स या चाउमीन की तुलना में जल्दी और आसानी से बनायीं जा सकती है।

- C) मैगी बनने में आधे घंटे से भी कम समय लेगी।
 D) इसके हानि न पहुँचाने की प्रकृति और बच्चों के खुश होकर स्नैक्स खाने की वजह से देश भर में माताएं मैगी पर भरोसा करती हैं।
 E) मैगी पर प्रतिबंध लगा दिया गया था, क्योंकि यह स्नैक्स अत्यधिक वांछनीय तरीके से बनाया जा रहा था।
 F) बच्चे दोपहर के भोजन के रूप में स्कूलों में मैगी ले जाते हैं, जो कि लंबे समय तक भंडारण करने पर चिपचिपी हो जाती है।

दिशा निर्देश (71-72): निम्न जानकारी का ध्यानपूर्वक अध्ययन करें और नीचे दिए गए प्रश्नों के उत्तर दें।

"जैसा कि विज्ञापित किया गया है कि माताओं ने अपने भूखे बच्चों की नहीं, बल्कि मैगी की किस्मत बदल दी है। खाना पकाने की पुस्तकों में उपलब्ध चाउमीन और हक्का नूडल्स बनाने की छोटी सी विधि भी कम से कम आधा घंटा लेगी।"

यह प्रश्न ऊपर दी गयी जानकारी और नीचे दिए गए वाक्य (A), (B), (C), (D), (E) and (F) पर आधारित है।

A) भूखे बच्चों को उनकी माताओं द्वारा मैगी खिलाया गया और इसलिए स्नैक्स की लोकप्रियता में वृद्धि हुई।

B) मैगी बाजार में उपलब्ध अन्य हक्का नूडल्स या चाउमीन की तुलना में जल्दी और आसानी से बनायीं जा सकती है।

C) मैगी बनने में आधे घंटे से भी कम समय लेगी।

D) इसके हानि न पहुँचाने की प्रकृति और बच्चों के खुश होकर स्नैक्स खाने की वजह से देश भर में माताएं मैगी पर भरोसा करती हैं।

E) मैगी पर प्रतिबंध लगा दिया गया था, क्योंकि यह स्नैक्स अत्यधिक वांछनीय तरीके से बनाया जा रहा था।

F) बच्चे दोपहर के भोजन के रूप में स्कूलों में मैगी ले जाते हैं, जो कि लंबे समय तक भंडारण करने पर चिपचिपी हो जाती है।

71. वाक्य संख्या (A), (B), (C), (D), (E) और (F) में से कौन दिए गए तथ्यों / जानकारी में अनुमानिक है? (एक अनुमान वह धारणा है, जिसे बिना प्रमाण के सत्य मान लिया जाता है)
- A. केवल F B. केवल A
 C. C, D और E D. B और C दोनों
 E. इनमें से कोई नहीं
72. वाक्य संख्या (A), (B), (C), (D), (E) और (F) में से कौन सा, यदि सत्य है तो वाक्य को मजबूत कर सकता है?
- A. केवल F B. D और F
 C. केवल D D. उपरोक्त सभी
 E. इनमें से कोई नहीं

73. **दिशा-निर्देश :** निम्नलिखित प्रश्न अनुमान/ निष्कर्ष के रूप में नीचे दिए गए अवतरणों पर आधारित हैं। प्रत्येक अवतरण में पांच अनुमान दिए गए हैं। आपको अवतरण के संदर्भ में अलग से एक निष्कर्ष की जांच करके उसकी सत्यता और असत्यता के स्तर को तय करना आवश्यक है।

ब्रिटिश लोगों में विवाद के चलते प्रधानमंत्री ने इस्तीफा दे दिया है। मतदाताओं ने जो कहा और उन्होंने ऐसा क्यों कहा, इसके

परिणाम पहले ही सामने आ गए हैं और इसने गहरे और खतरनाक तरीके में ब्रिटेन के भविष्य को नयी आकृति प्रदान करना शुरू कर दिया है। देश द्वारा एक खतरनाक यात्रा शुरू की गयी है, जिसमें राजनीति और अर्थव्यवस्था तब्दील होती जा रही है। यूरोपीय संघ छोड़ने का मत न केवल सरकार और नेताओं के लिए बल्कि उन लोगों के लिए भी एक चुनौती है, जिनके विचारों को खारिज कर दिया गया है।

दुनिया में ब्रिटेन की जगह पर अब पुनर्विचार किया जाना चाहिए। यह देश के गठबंधन के बारे में विभिन्न वाद-विवादों की मांग कर रहे हैं जो कि ब्रिटेन में स्वेज संकट के बाद से कभी नहीं हुआ था। एक बार फिर, देश को अपने लिए गए फैसले पर विचार करना होगा। यह देश के निर्माण पर गहरा दाग है जो आंशिक रूप से प्रो-यूरोपियन स्कॉटलैंड, उत्तरी आयरलैंड और लन्दन के रूप में व्यक्त हो रहा है, और तत्काल ही यह एक विरोधी यूरोपीय इंग्लैंड और वेल्स में सम्बोधित किया जायेगा और यह यूरोप के साथ एक नए रिश्ते की उदार बातचीत किये जाने के विचार में नहीं है। जैसा कि ज़िंदादिल निगेल फ़ैरैंग ने पूर्व शुक्रवार को बताया है, कि डेनमार्क, फ्रांस और नीदरलैंड में अपने स्वयं के निश्चित वोट के लिए जनमत अधिकारों से आवाजें आ रही हैं। और प्रारंभिक शेयरों के मूल्य गिरने और पाउंड के टूटने के बाद जब इंग्लैंड के बैंक सफलतापूर्वक शहर को सम्भाले, तो उन्हें इन चीजों का सावधानी से प्रबंधन करना होगा, यदि ऐसा नहीं होता है तो, जैसा कि जॉर्ज सोरोस ने पहले सप्ताह में चेतावनी दी है, कि बैंकों पर एक नया संकट, एक मंदी या यहां तक अचानक वित्तपोषण के लिए भुगतान संतुलन की असमर्थता हो सकती है।

हाल की घटनाओं के कारण यूनाइटेड किंगडम का भविष्य अब गंभीरता से प्रभावित हो जाएगा।

- A. यदि निष्कर्ष निश्चित रूप से सत्य है, अर्थात् यह दिए गए तथ्यों के विवरण का अनुसरण करता है।
 B. यदि निष्कर्ष सम्भवतः सत्य है, यद्यपि दिए गए तथ्यों में निश्चित रूप से सत्य नहीं है।
 C. यदि डेटा अपर्याप्त है, अर्थात् दिए गए तथ्यों के आधार पर आप कह नहीं सकते हैं, कि निष्कर्ष सही है या गलत।
 D. यदि निष्कर्ष सम्भवतः गलत है हालांकि दिए गए तथ्यों के आधार पर निश्चित रूप से गलत नहीं है।
 E. यदि निष्कर्ष निश्चित रूप से गलत है, अर्थात् यह संभवतः दिए गए तथ्यों से तैयार नहीं किया जा सकता है या यह दिए गए तथ्यों के विपरीत है।

निर्देश (74-78): दिए गए प्रश्नों के उत्तर देने के लिए निम्न जानकारी पढ़िए:

आठ लोग, चार चार वाली दो समानांतर पंक्तियों में बैठाए गए हैं। पंक्ति 1 में, A, B, C, और D बैठे हैं (पर जरूरी नहीं कि इसी क्रम में) और उन सभी का मुह दक्षिण की ओर है। पंक्ति 2 में P, Q, R, और S बैठे हैं (पर जरूरी नहीं कि इसी क्रम में) और उन सभी का मुह उत्तर की ओर है।

इसलिए बैठने की दी गई व्यवस्था में एक पंक्ति में बैठे एक व्यक्ति का मुंह दूसरी पंक्ति में बैठे दूसरे व्यक्ति की ओर है। R उस व्यक्ति के बाएं को दूसरे स्थान पर बैठा है जिसका मुंह A की ओर है। S, R की बगल में बैठा है। A व D के बीच केवल एक व्यक्ति बैठा है। C की बगल में बैठे हुए एक व्यक्ति का मुंह Q की ओर है। B पंक्ति के किसी भी अंतिम छोर पर नहीं बैठा है।

74. जिस व्यक्ति का मुंह P की ओर है उसके दाएं को दूसरे स्थान पर निम्न में से कौन बैठा है?
A. A B. B
C. C D. D
E. निर्धारित नहीं किया जा सकता
75. बैठने की दो व्यवस्था के आधार पर निम्नलिखित पांच में से चार किसी प्रकार समान है इसलिए उनका समूह बनता है। वह एक कौन सा है जो इस समूह में नहीं आता है?
A. C B. R
C. Q D. P
E. D
76. C के संबंध में निम्न में से कौनसा सत्य है?
A. D के दाएं को दूसरे स्थान पर C बैठा है
B. A, C की दाईं बगल में बैठा है
C. S का मुंह C की ओर है
D. D, C की बगल में बैठा है
E. जिस व्यक्ति का मुंह C की ओर है R की बगल में बैठा है
77. निम्न में से किसका मुंह R की ओर है ?
A. A B. B
C. C D. D
E. निर्धारित नहीं किया जा सकता
78. निम्न में से किसका मुंह B की ओर है ?
A. P B. Q
C. R D. S
E. निर्धारित नहीं किया जा सकता

निर्देश (79-83): निम्नलिखित जानकारी को पढ़ें और जवाब दें:

आठ व्यक्ति A, B, C, D, E, F, G और H एक पंक्ति में बैठते हैं और सभी का मुख उत्तर दिशा में है लेकिन आवश्यक नहीं कि इसी क्रम में। वे सभी विभिन्न रंग जैसे लाल, हरा, नीला, पीला, नारंगी, सफेद, काला और बैंगनी पसंद करते हैं पर आवश्यक नहीं किसी क्रम में। एक जो नीला रंग पसंद करता है हरा रंग पसंद करने वाले के दांयें दूसरे स्थान पर बैठा है। C, नारंगी रंग पसंद करता है। A, बैंगनी रंग पसंद करने वाले के बांयें चौथे स्थान पर बैठा है। D, H के निकटतम स्थान पर नहीं बैठा है। ना तो A ना ही बैंगनी रंग पसंद करने वाला व्यक्ति पंक्ति के अन्तिम छोर पर बैठा है। B, F के बांयें तीसरे स्थान पर बैठा है। लाल रंग पसंद करने वाले व्यक्ति G और बैंगनी रंग पसंद करने वाले व्यक्ति के बीच में सिर्फ एक व्यक्ति बैठा है। G और काला रंग पसंद करने वाले व्यक्ति के बीच में दो व्यक्ति बैठते हैं। H, काला रंग पसंद करने वाले के निकटतम बांयें बैठा है।

H और F जो सफेद रंग पसंद करता है, के बीच में दो व्यक्ति बैठते हैं।

79. A और B के बीच में कितने व्यक्ति बैठते हैं?
A. एक B. दो
C. तीन D. चार
E. कोई नहीं
80. D निम्न में से कौन सा रंग पसंद करता है?
A. हरा B. पीला
C. काला D. नीला
E. इनमें से कोई नहीं
81. निम्न में से कौन G के दांयें तीसरे स्थान पर बैठा है?
A. D
B. एक जो बैंगनी रंग पसंद करता है।
C. एक जो काला रंग पसंद करता है।
D. A
E. B
82. E कौन सा रंग पसंद करता है?
A. नीला B. हरा
C. लाल D. काला
E. इनमें से कोई नहीं
83. निम्न में से कौन सफेद रंग पसंद करने वाले व्यक्ति के निकटतम बांयें बैठा है?
A. D
B. G
C. D
D. एक जो नारंगी रंग पसंद करता है।
E. इनमें से कोई नहीं

निर्देश (84-87): प्रश्नों को ध्यानपूर्वक पढ़ें तथा निम्नलिखित प्रश्नों के उत्तर दें।

P@Q: P, Q के पश्चिम में है; P, Q के पश्चिम में या तो 2 या 12 कि.मी. में है।

P#Q: P, Q के पूर्व में है; P, Q के पूर्व में या तो 2 या 12 कि.मी. में है।

P\$Q: P, Q के उत्तर में है; P, Q के उत्तर में या तो 5 या 9 कि.मी. में है।

P&Q: P, Q के दक्षिण में है; P, Q के दक्षिण में या तो 5 या 9 कि.मी. में है।

P@&Q: P बिन्दु Q के उत्तर-पश्चिम में है। (P तथा Q के बीच की दूरी ज्ञात नहीं है)।

P&#Q: P बिन्दु Q के दक्षिण-पूर्व में है। (P तथा Q के बीच की दूरी ज्ञात नहीं है)।

84. P@Q, R&#Q, Q\$R. यदि P तथा R के बीच की दूरी 13 है तो Q तथा R के बीच की दूरी ज्ञात करें?

- A. 12 B. 2
C. 5 D. 9
E. इनमें से कोई नहीं

85. U @Q, U\$T, T#S, R#T, निम्न में से कौन सी S तथा R के बीच की दूरी नहीं हो सकती है?
A. 14 B. 24
C. 4 D. 16
E. इनमें से कोई नहीं
86. S@\$T, T@Z, X&Z; X, S के संदर्भ में किस दिशा में है?
A. उत्तर पूर्व B. दक्षिण पूर्व
C. दक्षिण पश्चिम D. उत्तर पश्चिम
E. इनमें से कोई नहीं
87. S&#T, T#Q, R@\$Q; S के संदर्भ में R की स्थिति क्या है?
A. उत्तर पूर्व B. उत्तर पश्चिम
C. उत्तर D. दक्षिण
E. दक्षिण पश्चिम

निर्देश (88-90): प्रश्नों को ध्यानपूर्वक पढ़ें तथा निम्नलिखित प्रश्नों के उत्तर दें।

10 से अधिक व्यक्ति केन्द्र की ओर मुख करके वृत्तीय पंक्ति में बैठे हैं। R, L की बाईं ओर से तीसरे स्थान पर है। S तथा R के बीच 2 व्यक्ति बैठे हैं। P, Q की दाईं ओर से दूसरे स्थान पर है। L तथा Q के बीच 1 व्यक्ति बैठा है। S तथा P के बीच 2 से कम व्यक्ति बैठे हैं।

88. वृत्तीय व्यवस्था में कितने व्यक्ति बैठे हैं?
A. 14 B. 16
C. 12 D. 18
E. इनमें से कोई नहीं
89. P के संदर्भ में L की स्थिति क्या है?
A. बाईं ओर से तीसरा B. दाईं ओर से तीसरा
C. बाईं ओर से चौथा D. दाईं ओर से पांचवां
E. इनमें से कोई नहीं
90. वामावर्त दिशा में R तथा P के बीच कितने लोग बैठे हैं?
A. 3 B. 4
C. 5 D. 6
E. 7

निर्देश (91- 94): नीचे दी गई जानकारी का ध्यानपूर्वक अध्ययन करें तथा उसके आधार पर प्रश्नों के उत्तर दें।

यहां 2वृत्त, आंतरिक वृत्त और बाह्य वृत्त तथा एक वर्ग है। सबसे पहले आठ व्यक्ति A, B, C, D, E, F, G तथा H आंतरिक वृत्त में बैठे हैं और उनका मुख केन्द्र की ओर है। B, C की बाईं ओर से दूसरे स्थान पर है। A, B के विपरीत बैठा है। A तथा H के बीच केवल एक व्यक्ति बैठा है। H तथा G के बीच केवल दो व्यक्ति बैठे हैं। G, A का पड़ोसी नहीं है। D, G की बाईं ओर से दूसरे स्थान पर है। F, H का पड़ोसी नहीं है।

अब, प्रत्येक व्यक्ति बैठा है, यहां उनके सामने 52कार्डों का एक पैक है तथा उनमें से कुछ यादृच्छिक तौर पर एक कार्ड का चयन करेंगे और नीचे दिए गए दिशा-निर्देशों के अनुसार अपनी स्थिति को परिवर्तित करेंगे -

- 1) यदि वह व्यक्ति जिसने हार्ट का कार्ड खींचा है, तो वह उसी स्थिति में अंदर की तरफ मुख करके बाह्य वृत्त में आ जाएगा, जिस स्थिति में वह आंतरिक वृत्त में बैठा हुआ था।
- 2) यदि वह व्यक्ति जिसने स्पेड का कार्ड खींचा है, वह व्यक्ति उसी स्थान पर, उसी आंतरिक वृत्त में रहेगा लेकिन उसका मुख बाह्य वृत्त की ओर हो जाएगा।
- 3) यदि वह व्यक्ति, जिसने क्लब का कार्ड खींचा है, तो वह अंदर की ओर मुख करके अपनी पिछली स्थिति की बाईं ओर से दूसरे स्थान पर बाह्य वृत्त में आ जाएगा।
- 4) यदि वह व्यक्ति जिसने डायमण्ड कार्ड खींचा है, तो वह कॉर्नर नं. 1 पर स्क्वायर टेबल में बाहर निकल आएगा, डायमण्ड कार्ड को खींचने वाला दूसरा व्यक्ति कॉर्नर नं. 2 पर आ जाएगा और बाकी भी इसी तरह करेंगे।

अब, देखते हैं वे कार्डों को कैसे खींचते हैं-

- 1) E एक कार्ड उठाता है तथा उसे हार्ट का ऐस मिलता है।
 - 2) C एक कार्ड उठाता है तथा उसे क्लब का 4 मिलता है।
 - 3) H एक कार्ड उठाता है तथा उसे डायमण्ड का किंग मिलता है।
 - 4) B एक कार्ड उठाता है तथा उसे स्पेड की क्विन मिलती है।
 - 5) D एक कार्ड उठाता है तथा उसे डायमण्ड का जैक मिलता है।
 - 6) F एक कार्ड उठाता है तथा उसे क्लब का 7 मिलता है।
91. सभी 6 कार्ड खींचे जाने के बाद, आंतरिक वृत्त में कितने व्यक्ति बैठे हैं?
A. 0 B. 1
C. 2 D. 3
E. 4
92. E तथा F के बीच कितने व्यक्ति बैठे हैं?
A. कोई नहीं, क्योंकि वे अलग-अलग वृत्त में हैं
B. 1 C. 2
D. 3 E. 4
93. यदि A एक कार्ड उठाता है तथा उसे डायमण्ड की क्विन मिलती है, तो इस व्यवस्था के बाद H की बाईं ओर से दूसरे स्थान पर कौन बैठा है?
A. A B. D
C. E D. कोई नहीं
E. F
94. यदि G क्लब का कार्ड खींचता है तथा उसे क्लब का किंग मिलता है तो G का तत्काल पड़ोसी कौन होगा?
A. E B. C
C. कोई नहीं D. F
E. A

निर्देश (95-98): निम्नलिखित जानकारी को ध्यानपूर्वक पढ़ें तथा प्रश्नों के उत्तर दें।

एक क्रिकेट मैच का आयोजन दो क्षेत्रों राजनगर तथा मिरगढ़ में किया जाना है। इसमें चार बल्लेबाज A, B, C तथा D हैं जहां D कीपर बल्लेबाज है और पांच गेंदबाज P, Q, R, S तथा T हैं जहां P विशेष कीपर है और उनमें से S एकमात्र स्पिनर है।

खिलाडियों का चयन निम्नलिखित शर्तों के आधार पर तय किया जाना चाहिए।

खिलाडियों की पुरस्कार राशि :-

A- 10 लाख	P- 9 लाख
B- 9 लाख	Q- 7 लाख
C- 8 लाख	R- 8 लाख
D- 7 लाख	S- 10 लाख
T- 6 लाख	

- 1) विकेट के पीछे हमेशा एक कीपर होना चाहिए।
- 2) राजनगर का बजट 55 लाख तथा मिरगढ़ का बजट 60 लाख से अधिक नहीं है।
- 3) राजनगर की पिच तेज गेंदबाजों का समर्थन करती है इसलिए सभी तेज गेंदबाजों को इस मैच में अवश्य खेलना चाहिए तथा विकेट बहुत जल्दी गिरते हैं इसलिए दो से अधिक बल्लेबाजों की आवश्यकता होती है।
- 4) स्पिनर को मिरगढ़ की टीम में अवश्य खेलना चाहिए तथा दो से अधिक बल्लेबाजों और कम से कम दो गेंदबाजों को इस टीम में खेलना चाहिए।
- 5) वे खिलाड़ी जो पहले मैच में नहीं खेल रहे हैं वे दूसरे मैच में अवश्य खेलेंगे।
- 6) मैच के नियम अपरंपरागत हैं तथा प्रत्येक मैच में खिलाड़ियों की संख्या भिन्न हो सकती है।

95. निम्न में से किसे राजनगर के मैच में अवश्य खेलना चाहिए ?
- A. D तथा P B. B तथा S
C. D तथा P D. D तथा T
E. इनमें से कोई नहीं
96. P को किस खिलाड़ी के साथ अवश्य खेलना चाहिए ?
- A. B B. D
C. R D. T
E. S
97. यदि राजनगर का बजट 45 लाख तक कम हो जाता है तो निम्न में से कौन सा खिलाड़ी इस मैच में नहीं खेल रहा है ?
- A. Q B. R
C. D D. A
E. B
98. यदि मिरगढ़ की टीम में सभी बल्लेबाजों को शामिल होना चाहिए तो निम्न में से कौन सा खिलाड़ी इस टीम के लिए नहीं खेलेगा ?
- A. Q B. R
C. T D. S
E. इनमें से कोई नहीं

99. निर्देश: निम्न में से प्रत्येक प्रश्न में, दो कथन I तथा II दिए हुए हैं। ये दो कथनों के बीच संबंधों में कारण तथा प्रभाव हो सकते हैं। ये दो कथन उसी कारण या स्वतंत्र कारणों के प्रभाव हो सकते हैं। ये कथन बिना किसी संबंध के स्वतंत्र कारण हो सकते हैं। दोनों कथनों को पढ़ें और निर्णय करें कि निम्न उत्तर विकल्पों में से कौन इन दो कथनों के मध्य सही संबंध दर्शाता है।

I. भारतीय परिवेश में लोगो के रहन- सहन में उपभोक्ताओं के द्वारा पिछले कुछ वर्षों में उत्पादों पर किये गये खर्च में आयी महत्वपूर्ण बढ़ोतरी के कारण, उनके रहन-सहन में काफी बदलाव आया है।

II. सकल घरेलू आय में पिछले कुछ वर्षों में उतार-चढ़ाव देखा गया है जो कि पूरी भारतीय अर्थव्यवस्था के लिये अच्छे संकेत नहीं है।

- A. कथन 1 कारण है और कथन 2 प्रभाव है
B. कथन 2 कारण है और कथन 1 प्रभाव है
C. दोनों कथन 1 और 2 स्वतंत्र कारण हैं।
D. दोनों कथन 1 और 2 स्वतंत्र कारणों के प्रभाव हैं
E. दोनों कथन 1 और 2 कुछ सामान्य कारणों के प्रभाव हैं

100. कथन: कोचीन से शिमला तक, नयी परम्परायें भारत की कई एकड़ की वास्तुकला संबंधी खजानों को तरदीद करती हैं। पहले के मालिक हमेशा किसी नजाकत दार दरवाजे या खिड़की के लिये सैकड़ों रुपये में ठगे जाते थे। जो कि किसी विदेशी डीलर और किसी अमेरिका या यूरोप के सुंदर आलीशान बैठक कमरे से पचास गुना अधिक होता था। भारत की खजानों की संपत्ति का इस प्रकार बलात्कार होने का कारण क्षेत्रीय विभिन्नताओं और दुर्भाग्यशाली मिश्रित कार्यकर्ताओं में एकता ना होने को समर्पित है।

लेख से किसे अनुमति प्रदान की गई है ?

- A. भारत ने विवेकहीन व्यापारियों को बाजार प्रदान किया।
B. केवल भारतीयों को अपनी पारंपरिक धरोहरों पर गर्व नहीं है और वे विदेशी मुद्रा के भूखे हैं जो कलाकृतियों के बदले आसानी से उपलब्ध हैं।
C. कई परिवारों के पास विरासतें थी जो अमेरिकी और यूरोपीयों को ऊँची कीमतों पर बेच दी गयी।
D. बंटे हुए कार्यकर्ताओं और क्षेत्रीय विभिन्नताओं की बैठक के द्वारा बनाया गया माहौल से व्यापारियों के लिये भारत में बने रहने का एक आदर्श मौका था।
E. इनमें से कोई नहीं

101. निर्देश: नीचे दिये गये प्रत्येक प्रश्न में एक कथन दिया गया है, जो वादकरण I और II का अनुसरण करता है। आपको कथन में दी गयी जानकारी के आधार पर उन्हें पूर्णतया सत्य मानना है। निश्चित करें कि कौन सा वादकरण तार्किक रूप से अनुसरण करता है।

कथन: वित्तीय कठोरता ने कंपनी को इस साल अप्रैल से अपने कर्मचारियों को वेतन देने से रोका दिया।

कार्यवाही :

I. कंपनी को इस वित्तीय संकट को तुरंत रोकने के समाधान के लिए परामर्श फर्म से परामर्श करना चाहिए।

II. कंपनी को बेकार का व्यय कम करना चाहिए और अपने कर्मचारियों के लिए वेतन का भुगतान करने की व्यवस्था करनी चाहिए।

A. यदि सिर्फ कार्यवाही I अनुसरण करती है।

B. यदि सिर्फ कार्यवाही II अनुसरण करती है।

C. यदि दोनों कार्यवाही I और II अनुसरण करती हैं।

D. यदि ना तो I ना II अनुसरण करती है।

E. यदि या तो I या II अनुसरण करती है।

102. गुजरात विधानसभा चुनावों में सभी निर्वाचन क्षेत्रों के लिये मतदाता सत्यापन पेपर ऑडिट ट्रायल सिस्टम को शुरू करने का चुनाव आयोग का फैसला संदेहास्पद है। पहली बार वीवीपीएटी का प्रयोग राज्य आधार पर किया जायेगा। इलेक्ट्रॉनिक वोटिंग मशीन के लिये उपयोगी कथन है और पेपर ट्रायल चुनाव के परिणामों के ऑडिट की स्वीकृति प्रदान करता है और चुनाव आयोग के द्वारा निर्वाचन क्षेत्रों के एक सुनिश्चित और यादृच्छिक रूप से चयन की स्वीकृति देता है। वीवीपीएटी के प्रयोग का संभावित कारण क्या हो सकता है?

A. तकनीक विकसित करने के लिये

B. यह केवल एक प्रयोग है

C. लोगों को मत देने के लिये प्रोत्साहित करना

D. ई.वी.एम में अपना मत पंजीकृत करने के बाद मतदाताओं को अपने मत की पुष्टि करने की स्वीकृति प्रदान करना

E. उपर्युक्त सभी

निर्देश (103-105): निम्नलिखित जानकारी को पढ़ें और उस पर आधारित प्रश्नों के उत्तर दें-

छ: व्यक्तियों A, B, C, D, E और F की ऊंचाई और भार भिन्न-भिन्न हैं। B, A और E से लम्बा है लेकिन A और E से हल्का है। D, B से लम्बा है। E सिर्फ C और F से लम्बा है। सिर्फ एक व्यक्ति A से हल्का है। D, C और E से भारी है लेकिन सबसे भारी नहीं है। F से भारी लोगों की संख्या उससे छोटे लोगों की संख्या के बराबर है। दो से अधिक लोग C से भारी नहीं हैं।

103. निम्न में से समूह में सबसे छोटा कौन है?

A. C

B. F

C. E

D. A

E. D

104. निम्न में से समूह में सबसे भारी कौन है?

A. D

B. C

C. F

D. B

E. E

105. कितने लोग C से हल्के हैं?

A. कोई नहीं

B. एक

C. दो

D. तीन

E. चार

निर्देश (106-109): नीचे दी गई जानकारी का ध्यानपूर्वक अध्ययन करें और नीचे दिए गए प्रश्नों के उत्तर दें।

जब एक संख्या तथा अक्षर क्रम व्यवस्थापन मशीन में संख्या तथा अक्षरों की एक श्रृंखला इनपुट की जाती है, तो यह एक विशेष नियम के अनुसार उसको व्यवस्थित करती है। निम्नलिखित एक दिए गए इनपुट और उसकी पुनर्व्यवस्था का उदाहरण है।

इनपुट: njes glfu 53 18 31 44 wird dect.

चरण 1: ykte 106 njes glfu 18 31 44 dect.

चरण 2: qmhu 132 ykte 106 glfu 18 31 dect.

चरण 3: kpjx 124 qmhu 133 ykte 106 18 dect.

चरण 4: ijhx 90 kpjx 124 qmhu 133 ykte 106.

दिए गए चरणों में अपनाए गए नियम के अनुसार प्रत्येक प्रश्न के लिए दिए गए निम्नलिखित इनपुट के उचित चरण ज्ञात कीजिये।

इनपुट: olpj 21 htpl 34 tnjg 56 67 bnmc

106. दिए गए इनपुट के चरण IV में कौन सा तत्व '105' और '168' के ठीक बीच में आता है?

A. Vplh

B. Lxto

C. Rosl

D. 136

E. इनमें से कोई नहीं

107. दूसरे अंतिम चरण में कौन सा तत्व बाएं से चौथा है?

A. 134

B. 168

C. Vplh

D. Rosl

E. इनमें से कोई नहीं

108. किस चरण में तत्व '168 vplh 134' समान क्रम में पाया जाता है?

A. तीसरे

B. दूसरे

C. पहले

D. चौथे

E. तत्वों का दिया गया क्रम किसी भी चरण में नहीं पाया जाता है

109. यदि चरण III में, '136' अपने स्थान को 'bnmc' से बदल लेता है और 'rosl' अपने स्थान को '21' से बदल लेता है तो कौन सा तत्व 'rosl' के बाएं से पांचवा होगा?

A. bnmc

B. 136

C. Vplh

D. 134

E. इनमें से कोई नहीं

निर्देश (110-112): निम्नलिखित जानकारी को ध्यानपूर्वक पढ़ें और निम्नलिखित प्रश्नों के उत्तर दें।

आपको व्यंजन अक्षरों के लिए 1 से 8 तक की संख्याएं निर्धारित करनी हैं। उदाहरण के लिए- B के लिए संख्या 1 निर्धारित की गई है, C के लिए संख्या 2 निर्धारित की गई है और इसी प्रकार आगे K तक के लिए संख्या 8 तक निर्धारित की गई है। दोबारा फिर L के लिए संख्या 1 निर्धारित करके शुरू करते हुए और आगे के व्यंजन अक्षरों के लिए भी इसी प्रकार संख्याएं निर्धारित की जाएंगी। नियमों का अनुसरण करते हुए दी गई शर्त के अनुसार अक्षरों में लागू करें और उसी के अनुसार कोड निर्धारित करें:

- i) यदि शब्द के प्रारंभ और अंत दोनों में स्वर हैं तो दोनों स्वरों को क्रमशः * और # से बदलें।
 ii) यदि शब्द में तीन या तीन से अधिक स्वर हैं तो पहले दो स्वरों को % और * से बदल लें और अन्य स्वरों के क्रम को उल्टा कर दें।
 iii) यदि यहां पर क्रमागत स्वर हैं तो उनके स्थान आपस में बदल दें और अक्षरों के क्रम को उल्टा कर दें और उसके अक्षरों के कोड के मान को 2 तक बढ़ा दें।
 iv) यदि पहला अक्षर स्वर और दूसरा अक्षर व्यंजन है तो उनके स्थानों को आपस में बदलें और स्वर अक्षरों के क्रम को उल्टा कर दें।
 v) यदि यहां पर शब्द में दो स्वर हैं लेकिन क्रमागत रूप से नहीं हैं तो उनके स्थानों को आपस में बदल दें और दोनों अक्षरों के क्रम को उल्टा कर दें।

110. शब्द 'philatelist' के लिए क्या कोड होगा?
 A. 46%1*821768 B. 46%1*812678
 C. 46%1*821678 D. 46%1*811678
 E. इनमें से कोई नहीं
111. निम्न में से कौन सा 'MUSIC BITE' का कोड है?
 A. 26642 1266 B. 26732 1176
 C. 26742 1186 D. 26632 1286
 E. इनमें से कोई नहीं
112. शब्द 'your fairy tales' में सभी स्वतंत्र संख्याओं का योग कितना होगा?
 A. 63 B. 64
 C. 65 D. 66
 E. इनमें से कोई नहीं

निर्देश (113-115): निम्नलिखित प्रश्नों में, प्रतीकों %, @, #, \$, & और * का प्रयोग नीचे दर्शाए गए निम्नलिखित अर्थों के साथ किया जाता है।

P @ Q → P और Q
 P % Q → Q, P की पत्नी है।
 P # Q → Q, P की पुत्री है।
 P * Q → P, Q से छोटा है।
 P \$ Q → Q, P के माता-पिता हैं।
 P & Q → P और Q सहोदर हैं।
 R * S # T & V
 S & R \$ P @ Q
 T * V, U % S, P % Q
 X & W \$ R

113. यदि X की आयु 10 वर्ष है, तो W की अनुमानिक आयु कितनी होगी?
 A. 8 B. 14
 C. 12 D. निर्धारित नहीं कर सकते
 E. इनमें से कोई नहीं

114. दी गई स्थिति में T, P से किस प्रकार संबंधित है?
 A. पुत्र B. पुत्री
 C. पौत्री D. पौत्र
 E. इनमें से कोई नहीं
115. यदि T की आयु 20 वर्ष है तो V की आयु कितनी होगी?
 A. 13 B. 22
 C. 18 D. 15
 E. इनमें से कोई नहीं
116. हाल ही में, सरकार ने देश के 21 सरकारी बैंकों के विलय के बारे में विचार करने और निगरानी करने के लिए _____ के नेतृत्व में एक मंत्रीय पैनल स्थापित किया है।
 A. उर्जित पटेल B. अरुण जेटली
 C. हसमुख अधिया D. राजीव कुमार
 E. डॉ. विरल वी. आचार्य
117. निम्न में से ई-पुस्तक 'India 2017 Year Book' के लेखक कौन हैं?
 A. राजीव गौबा B. राजीव महर्षि
 C. आर.के. वर्मा D. ए.के. लोहानी
 E. इनमें से कोई नहीं
118. राष्ट्रमंडल खेलों 2018 के मेजबान के रूप में निम्नलिखित देशों में से कौन सा चुना गया है?
 A. भारत B. ऑस्ट्रेलिया
 C. पाकिस्तान D. दक्षिण अफ्रीका
 E. श्री लंका
119. केंद्रीय बजट 2017 के तहत, मनरेगा (महात्मा गांधी राष्ट्रीय ग्रामीण रोजगार गारंटी अधिनियम) के तहत प्रावधान _____ तक बढ़ा दी गई है?
 A. 38500 करोड़ B. 40000 करोड़
 C. 45000 करोड़ D. 48000 करोड़
 E. उपरोक्त में से कोई नहीं
120. एमनेस्टी इंटरनेशनल का मुख्यालय _____ में है।
 A. न्यूयॉर्क B. लंदन
 C. वाशिंगटन D. बर्लिन
 E. इनमें से कोई नहीं
121. निम्नलिखित में से किस देश ने 2017 फीफा अंडर-17 विश्व कप जीता है?
 A. भारत B. जर्मनी
 C. इंग्लैंड D. स्पेन
 E. इनमें से कोई नहीं
122. वित्तीय पद "SWIFT" में 'S' क्या दर्शाता है?
 A. Society B. Saving
 C. Scheme D. Securitization
 E. Standard

123. इटली के प्रधान मंत्री के दो दिनों के दौरे के दौरान भारत और इटली के बीच छह समझौतों पर हस्ताक्षर किए गए। इटली के वर्तमान प्रधान मंत्री कौन हैं?
- A. एडोर्डो फिलिप B. पाउलो जेंटिलोनी
C. इमैनुएल मैक्रॉन D. एर्जेला मार्केल
E. मारियानो रजॉय ब्रे
124. एस ऑफ इंडीग बिजनेस सूचकांक किसके द्वारा जारी किया गया?
- A. विश्व बैंक
B. विश्व इकोनॉमिक फोरम(WEF)
C. अंतर्राष्ट्रीय मुद्रा कोष (IMF)
D. विश्व व्यापार संगठन(WTO)
E. संयुक्त राष्ट्र विकास कार्यक्रम (UNDP)
125. विश्व आर्थिक आउटलुक सर्वेक्षण किसके द्वारा संचालित और प्रकाशित किया जाता है?
- A. विश्व आर्थिक मंच(डब्ल्यूईएफ)
B. विश्व बैंक(डब्ल्यूबी)
C. संयुक्त राष्ट्र विकास कार्यक्रम(यूएनडीपी)
D. विश्व व्यापार संगठन(डब्ल्यूटीओ)
E. अंतर्राष्ट्रीय मुद्रा कोष(आईएमएफ)
126. भारतीय रिजर्व बैंक (आरबीआई) ने भारत के लिए पब्लिक क्रेडिट रजिस्ट्री (पीसीआर) पर एक उच्च स्तरीय कार्यबल का गठन किया है उसकी अध्यक्षता कौन करेगा -
- A. एस. वेंकटरमन B. जी. अम्बेगावकर
C. यशवंत एम. देवस्थले D. आर.एस गुजराल
E. एस.आर राव
127. अक्सर ऑलीजोपोली जैसी स्थितियों के कारण होते हैं क्योंकि वे नए प्रतियोगियों को बाजार में प्रवेश करने से हतोत्साहित करते हैं।
- A. एंटीट्रस्ट B. मोनोपोलाइज़
C. कैपिटल इंटेंसिव D. इकोनामिज़ ऑफ स्केल
E. इनमें से कोई नहीं
128. निम्न में से कौन सा आर.बी.आई का कार्य नहीं है?
- A. वित्तीय प्रणाली का विनियमन और निगरानी
B. मुद्रा जारी करना
C. अंतिम रिजॉर्ट के ऋणदाता
D. देश के विदेशी मुद्रा भंडार का संरक्षक
E. शेयर बाजार के व्यापार का विनियमन और नियंत्रण
129. बैंकिंग एवं वित्त शब्दावली के संदर्भ में एलटीवी (LTV)का पूर्ण रूप क्या है।
- A. नकदी अवधि मूल्य (Liquidity Term Value)
B. दीर्घावधि वैधता (Long Term Validity)
C. परिवर्तनीय ऋण (Loan to Variable)
D. बहुमूल्यता ऋण (Loan to Value)
E. परिवर्तनीय कानूनी अवधि (Legal Term Variable)
130. भारत ने चीन और ईरान सहित पांच देशों से घरेलू खिलाड़ियों की सुरक्षा के लिए वस्त्रों और पैकेजिंग उद्योगों में मुख्य रूप से इस्तेमाल किए जाने वाले रसायनों के आयात पर 168.76 डॉलर प्रति टन का डंपिंग शुल्क लगाया है। एटी-डंपिंग शुल्क _____ द्वारा लगाया जाता है
- A. वाणिज्य और उद्योग मंत्रालय
B. वित्त मंत्रालय
C. एंटी-डंपिंग और एलियड इयूटी महानिदेशालय (डी.जी.ए.डी)
D. वस्त्र मंत्रालय
E. विदेश मंत्रालय
131. किसान क्रेडिट कार्ड (के.सी.सी) योजना _____ द्वारा तैयार की गई थी।
- A. भारतीय रिजर्व बैंक (आर.बी.आई)
B. नाबाई
C. सरकार भारत
D. भारतीय बैंक
E. वित्त मंत्रालय
132. केंद्र सरकार ने सार्वजनिक क्षेत्र के बैंकों (पी.एस.बी) में अगले दो वर्षों में 2.11 लाख करोड़ रुपये का पूंजी निवेश करने के लिए बैंक पुनर्पूँजीकरण योजना की घोषणा की है। इस योजना के तहत, पीएसबी को पुनर्नियुक्तिकरण बांडों की बिक्री से _____ प्राप्त होगा।
- A. 58,000 करोड़ रुपये B. 18,000 करोड़ रुपये
C. 1.35 लाख करोड़ रुपये D. 2.5 लाख करोड़ रुपये
E. इनमें से कोई नहीं
133. डॉ. एम.वी. श्रीधर का हाल ही में निधन हो गया। वह _____ के साथ जुड़े हुए थे।
- A. क्रिकेट B. लेखक
C. राजनीतिज्ञ D. अभिनेता
E. कलाकार
134. अंतर्राष्ट्रीय वेटलिफ्टिंग महासंघ (आई.डब्ल्यू.एफ) का मुख्यालय _____ में है।
- A. म्यूनिख B. न्यूयॉर्क
C. पेरिस D. बुडापेस्ट
E. लंदन
135. 2018 में 44 वां जी -7 शिखर सम्मेलन निम्नलिखित में से किस देश में आयोजित किया जाएगा?
- A. जापान B. अमेरिका
C. चीन D. फ्रांस
E. कनाडा
136. सिटी यूनिन बैंक का मुख्यालय _____ में स्थित है।
- A. मुंबई, महाराष्ट्र
B. कुंबकोणम, तमिलनाडु
C. चेन्नई, तमिलनाडु
D. कोझिकोड, केरल
E. कोलकाता, पश्चिम बंगाल

137. पन्ना राष्ट्रीय उद्यान _____ में स्थित है।
A. राजस्थान B. मध्य प्रदेश
C. छत्तीसगढ़ D. पश्चिम बंगाल
E. केरल
138. प्रत्येक वर्ष, 12 नवंबर को _____ के रूप में मनाया जाता है।
A. विश्व वृद्ध दिवस B. विश्व विज्ञान दिवस
C. विश्व निमोनिया दिवस D. विश्व मधुमेह दिवस
E. विश्व सांख्यिकी दिवस
139. बंधन बैंक लिमिटेड एक भारतीय बैंकिंग और वित्तीय सेवा कंपनी है जिसे _____ कंपनी के रूप में शुरू किया गया था, जिसका मुख्यालय कोलकाता, पश्चिम बंगाल में है।
A. इन्फ्रास्ट्रक्चर फाइनेंस
B. माइक्रो फाइनेंस
C. लघु वित्त
D. लघु और मध्यम उद्यम
E. दिए गए विकल्पों के अलावा अन्य
140. भारत पोस्ट पेमेंट बैंक (आई.पी.पी.बी) में अधिकतम जमा राशि क्या है?
A. 10,000 रुपये B. 50,000
C. 1 लाख D. 5 लाख रुपये
E. कोई सीमा नहीं
141. सतीश कुमार और रागाल वेंकट राहुल _____ के साथ जुड़े हुए हैं।
A. मुक्केबाजी B. शूटिंग
C. वेटलिफ्टिंग D. तीरंदाजी
E. हॉकी
142. दुधावा बांध _____ नदी पर बनवाया गया है।
A. कृष्णा B. नर्मदा
C. गोदावरी D. महानदी
E. झेलम
143. फुगडी _____ का एक लोक नृत्य है।
A. केरल B. गोवा
C. कर्नाटक D. पश्चिम बंगाल
E. ओडिशा
144. ग्रामीण क्षेत्रों में व्यापारिक संवाददाताओं का भुगतान कौन अदा करता है?
A. आर.बी.आई B. ग्राम पंचायत
C. संबंधित बैंक D. तीसरी पार्टी एजेंसियां
E. इनमें से कोई नहीं
145. एक बैंक द्वारा लिखित प्रतिबद्धता जो खरीदार द्वारा अनुरोध किए जाने के बाद जारी की जाती है कि निर्दिष्ट दस्तावेजों के प्रस्तुतिकरण के माध्यम से साक्ष्य के रूप में लाभार्थी को भुगतान किया जाएगा, उसे _____ के रूप में जाना जाता है।
A. प्रतिबद्धता पत्र (Letter of Commitment)
B. हामीदारी (Underwriting)
C. बैंक गारंटी (Bank guarantee)
D. साख पत्र (Letter of Credit)
E. दिए गए विकल्प के अलावा अन्य
146. इलेक्ट्रॉनिक भुगतान जो मोबाइल फोन के माध्यम से एक कोड को स्कैन करके किया जाता है उसे _____ के रूप में जाना जाता है।
A. बारकोड B. भारत क्यूआर कोड
C. स्कैन एंड पे D. पॉइंट ऑफ सेल (पी.ओ.एस)
E. इनमें से कोई नहीं
147. समय के साथ राष्ट्रीय जी.डी.पी में माल और सेवाओं की कीमतों में वृद्धि दर की मंदी को _____ कहा जाता है।
A. विस्फोति B. अपस्फोति
C. मुद्रास्फोतिजनित मंदी D. मुद्रास्फोति की मांग
E. अति स्फोति
148. लेन-देन जिसमें बैंक क्षति या वित्तीय हानि के मामले में भुगतान की गारंटी देता है और वित्तीय हानि और देयता को स्वीकार करता है, उसे _____ के रूप में जाना जाता है।
A. संपार्श्विक (Collateral)
B. हामीदारी (Underwriting)
C. साख पत्र (Letter of Credit)
D. बैंक गारंटी (Bank guarantee)
E. दिए गए विकल्प के अलावा अन्य
149. 'AMRUT' में, 'U' का क्या अर्थ है।
A. Union B. Urban
C. United D. Universal
E. Unified
150. 'टॉलिन' _____ की राजधानी है।
A. मंगोलिया B. ट्यूनीशिया
C. एस्टोनिया D. लिथुआनिया
E. लाटविया
151. आयकर में, 10% अधिभार उन व्यक्तियों के लिए लागू है जो _____ आय अर्जित करते हैं।
A. 10 लाख से 50 लाख तक
B. 20 लाख से 1 करोड़ रुपये
C. 50 लाख से 1 करोड़ रुपये
D. 1 करोड़ रुपये से 5 करोड़ रुपये
E. 5 करोड़ रुपये या उससे ऊपर
152. पी.डब्ल्यू.सी वर्ल्ड 2050 रिपोर्ट के अनुसार, 2050 में दुनिया की दो सबसे बड़ी अर्थव्यवस्था चीन और _____ होगी।
A. अमेरिका B. भारत
C. इंडोनेशिया D. रूस
E. यू.के
153. भारतीय रिजर्व बैंक के दिशा-निर्देशों के अनुसार प्राइवेट सेक्टर में यूनिवर्सल बैंकों के 'टैप' लाइसेंस के लिए, यूनिवर्सल बैंक के आवेदन एस.ई.ए.सी. कमेटी द्वारा मूल्यांकन किए जाएंगे। 'SEAC' में A का क्या अर्थ है।
A. Account B. Advisory
C. Application D. Additional
E. दिए गए विकल्प के अलावा अन्य

154. जी.एस.टी के तहत कर योग्य इवेंट क्या है?

- A. माल की आपूर्ति
- B. सेवाओं की आपूर्ति
- C. माल के निर्माता
- D. दोनों A और B
- E. दोनों A और C

155. आयात प्रतिस्थापन का मुख्य उद्देश्य _____ है।

- A. आयात की मांग को हतोत्साहित करना
- B. घरेलू उत्पादन को बढ़ावा देना
- C. घरेलू उपभोग को बढ़ावा देना
- D. माल को अपेक्षाकृत अधिक महंगा बनाना
- E. विदेशी अर्थव्यवस्थाओं से माल के आयात को प्रोत्साहित करना



Banking, SSC, GATE, JEE, NEET & other Online Mock Test Series

- Based on Latest Exam Pattern
- Available in Hindi & English
- Get all India rank & result analysis
- Detailed Solutions
- Can be taken on web & mobile

