

Directions Q. No. 1 - 3 :

A word has been written in four different ways out of which only one is correctly spelt. Choose the correctly spelt word.

1. (1) Parralel
(2) Paralel
(3) Parralell
☒ (4) Parallel
2. (1) Hypocresy
(2) Hipocrisy
☒ (3) Hipocracy
(4) Hypocrisy
3. ☒ (1) Indigenius
(2) Indigenous
(3) Indeginus
(4) Indigenus

Directions Q. No. 4 - 6 :

In the following items a word is followed by four explanatory expressions. Choose the expression that explains the given word correctly.

4. Wardrobe :
(1) a place where planes are kept
(2) a place where official records are kept
☒ (3) a place where clothes are kept
(4) a place where horses are kept
5. Philistine :
(1) one who is a fine judge of literature or art.
(2) one who is a novice as far as art and literature are concerned
(3) one who is devoted to music
☒ (4) one who does not like or understand art, literature or music
6. Iconoclast :
☒ (1) one who encourages idol worship
(2) one who is specially sent by God to preach a particular religion
(3) one who is against all forms of government
☒ (4) one who criticizes popular beliefs and established customs

Directions Q. No. 7 - 9 :

Choose the word which best expresses the meaning of the underlined word in each sentence.

7. The knowledge of nuclear power might lead to annihilation :
- (1) immortality
(2) tremendous progress
(3) full healthfulness
(4) total destruction
8. The Minister condescended to accept our invitation.
- (1) felt happy
(2) declined
(3) ☒ deigned
(4) agreed
9. I was stunned at the unabashed display of wealth in the wedding.
- (1) candid
(2) impressive
(3) accurate
(4) shameless

Directions Q. No. 10 - 13 :

Each of the sentences given below has been divided into four parts viz (1), (2), (3), (4). One of the parts contains an error. Choose the part which has the error.

10. Walking / across the street / a truck
(1) (2) (3)
knocked him down.
(4) ☒
11. No sooner we entered / than he got up /
(1) (2) ☒
and left / the room.
(3) (4)
12. This pond is flooded /
(1) ☒
with water because /
(2)
it is raining continuously for the /
(3)
last three days.
(4)
13. When I went / to his house, /
(1) (2)
I found that / he had been died.
(3) ☒ (4)

Directions Q. No. 14 - 16 :

Choose the option which best expresses the meaning of the underlined idiom/phrase in each sentence.

14. He had second thoughts :

- ☒ (1) planned very carefully
- (2) changed his mind
- (3) decided to go elsewhere
- (4) decided to take somebody with him

15. He knows which side his bread is buttered :

- (1) knows where his advantage lies
- (2) knows the art of cooking
- (3) knows how to butter a slice
- ☒ (4) knows how to chatter

16. You must keep your head whatever happens :

- (1) remain calm
- (2) be honest
- ☒ (3) concentrate
- (4) be self respecting

Directions Q. No. 17 - 20 :

In the following sentences one part of the sentence is italicised. Four alternatives to the italicised part which may improve the sentence are given. Choose the appropriate alternative.

17. Rohit has got many friends because he has got *much money*.

- ☒ (1) a lot of money
- (2) bags of money
- (3) tons of money
- (4) enough money

18. The secret information was held *away* from me :

- (1) back
- (2) out
- (3) up
- (4) off

19. He spent much time and energy over it, and lost a lot of money *in the bargain*.

- ☒ (1) for the bargain
- (2) into the bargain
- (3) with the bargain
- (4) off the bargain

20. The main business of the Parliament is to deal with matters *pertained to* the legislation.

- (1) pertained with
- (2) pertaining to
- ☒ (3) pertain to
- (4) pertaining with

21. 'यह' कौन-सा सर्वनाम है? नीचे दिए गए विकल्पों में से सही विकल्प का चयन कीजिए :

- (1) सम्बन्धवाचक
- (2) निजवाचक
- (3) पुरुषवाचक
- (4) निश्चयवाचक

22. 'आहत' प्रत्यय से बने सही शब्द को नीचे दिए गए विभिन्न विकल्पों में से चुनिए :

- (1) गिरावट
- (2) रहट
- (3) थकावट
- ✓ (4) कड़वाहट

23. निम्नलिखित विकल्पों में से शब्द की शुद्धवर्तनी वाले शब्द का चुनाव कीजिए :

- (1) दपर्ण
- (2) द्रपण
- ✓ (3) दर्पण
- (4) दरपण

24. 'एक अनार सौ बीमार' - इस लोकोक्ति का सही अर्थ नीचे दिए गए विकल्पों में से चुनिए :

- (1) वस्तु थोड़ी और चाहने वाले अधिक
- ✓ (2) माँग कम पूर्ति अधिक
- (3) अनार को चाहने वाले अनेक लोग
- (4) एक वस्तु के कम चाहने वाले

25. निम्नलिखित विकल्पों में से शुद्ध वाक्य चुनिए :

- (1) चार आदमी के लिए खाना बना दो।
- ✓ (2) मैंने तीन कुर्सियाँ खरीदीं।
- (3) मेरे भाई के शादी के लिए अनेको प्रस्ताव आये।
- (4) दादी का प्राणी निकल गया।

26. निम्नलिखित शब्दों में से संकर शब्द कौन-सा है?

- (1) कालीन
- (2) सरासर
- (3) रेलगाड़ी
- (4) लिफाफा

27. निम्नलिखित विकल्पों में से 'कवि' शब्द का स्त्रीलिंग छाँटिए :

- (1) गायिका
- ☒ (2) कवयित्री
- (3) काव्य
- (4) कविता

28. 'भेड़ चर रही है।' इस वाक्य का सही बहुवचन रूप है :

- (1) भेड़ों चर रही है।
- ☒ (2) भेड़ें चर रही हैं।
- (3) भेड़एँ चर रही हैं।
- (4) भेड़ें चर रही है।

29. बिना अवरोध के उच्चारित होने वाले वर्ण क्या कहलाते हैं? निम्नलिखित विकल्पों में से उपयुक्त विकल्प की पहचान कीजिए :

- (1) स्वर
- (2) घोष
- (3) व्यंजन
- (4) स्पर्श

30. वर्तमान हिन्दी का 'खड़ी बोली' नाम किस कारण पड़ा है?

- ☒ (1) इसमें खरी-खोटी कहने की क्षमता है।
- ☒ (2) इसमें खड़ी मात्रा का प्रयोग अधिक होता है।
- (3) इसका ध्वनि-विन्यास कर्कश है।
- (4) इसे खड़े-खड़े सीखा जा सकता है।

31. निम्नलिखित वाक्यांश के लिए दिए गए विकल्पों में से सटीक शब्द का चयन कीजिए :

'सब कुछ जाननेवाला' :

- (1) ज्ञानवान
- ☒ (2) सर्वज्ञ
- (3) सर्वत्र
- (4) बुद्धिमान

32. नीचे दिए गए वर्ण विच्छेद के लिए सही शब्द निम्नलिखित विकल्पों में से चुनिए :

आ+र्+थ्+इ+क्+अ

- (1) आरथिक
- ☒ (2) आर्थिक
- (3) आर्थिक्
- (4) आर्थीक

33. 'शब्द+अर्थ' संधि से कौन-सा शब्द बना :

- ☒ (1) शब्दार्थ
- (2) शब्दअर्थ
- (3) शब्दाअर्थ
- (4) शब्दर्थ

34. 'यश' का सही विलोम शब्द निम्नलिखित विकल्पों में से चुनिए :

- (1) कुयश
- (2) सुयश
- (3) यशहीन
- ☒ (4) अपयश

35. निम्नलिखित विकल्पों में से एक विकल्प शेष का पर्यायवाची शब्द नहीं है, उसे छाँटिए :

- (1) मकर
- (2) भुजंग
- (3) विषधर
- (4) अहि

36. 'आगमन' शब्द में कौन-सा उपसर्ग है? नीचे दिए गए विकल्पों में से चयन कीजिए :

- ☒ (1) आ
- (2) अव
- (3) आग
- (4) अ

37. निम्नलिखित में से कौन-सा शब्द द्वन्द्व समास का उदाहरण नहीं है? सही विकल्प का चयन कीजिए :

- (1) घर-बाहर
- ☒ (2) हरिशंकर
- (3) दिन-दिन
- (4) धन-धान्य

38. 'वह पढ़ता तो पास होता' - इस वाक्य में कौन-सा काल है? निम्नलिखित विकल्पों में से सही विकल्प का चयन कीजिए।

- (1) हेतुहेतुमद् भूत
- (2) सामान्य भूत
- (3) पूर्णभूत
- (4) अपूर्णभूत

39. जब क्रिया का प्रधान विषय कर्ता होता है, तो कौन-सा वाच्य होता है? नीचे दिए विकल्पों में से सही विकल्प को चुनिए :

- ☒ (1) कर्तृवाच्य
- (2) भाववाच्य
- (3) कोई नहीं
- (4) कर्मवाच्य

40. 'उसने टेढ़ी चाल चली' - वाक्य में कौन-सा कारक है? नीचे दिए गए विकल्पों में से सही विकल्प की पहचान कीजिए :

- ☒ (1) कर्ता कारक
- (2) सम्बन्ध कारक
- (3) अधिकरण कारक
- (4) कर्म कारक

41. कार्यक्रम 'निधि' का उद्देश्य देश में युवाओं के विचारों तथा नवप्रवर्तन के भाव को पोषित करना था। इस कार्यक्रम को किसने शुरू किया था ?

(1) विश्वविद्यालय अनुदान आयोग

☒ (2) विज्ञान और प्रौद्योगिकी विभाग

(3) वाणिज्य और उद्योग मंत्रालय

(4) मानव संसाधन मंत्रालय

42. मालदीव के राष्ट्रमंडल (कॉमनवेल्थ) से निकल जाने (2016) के बाद अब कितने देश इसके सदस्य रह गये हैं ?

☒ (1) 51

(2) 52

(3) 53

☒ (4) 50

43. वर्ष 2016 के ग्रीष्मकालीन ओलम्पिक खेलों के कुछ माह पूर्व मेजबान देश ब्राजील को _____ के प्रकोप संबंधी सुरक्षा चिंताओं का सामना करना पड़ा था।

(1) चिकुनगुनिया

(2) डेंगू

(3) हर्पीस सिम्पलेक्स

☒ (4) ज़िका विषाणु

41. The Programme called NIDHI aims at nurturing ideas and innovation of the youth of the country. It was launched by :

(1) U.G.C.

(2) Department of Science and Technology

(3) Ministry of Commerce and Industry

(4) HRD Ministry

42. After the departure of Maldives (2016) how many nations are the members of commonwealth ?

(1) 51

(2) 52

(3) 53

(4) 50

43. Months before the 2016 Summer Olympics the host Country Brazil had to face safety concerns surrounding _____.

(1) Chikungunia

(2) Dengue

(3) Herpes simplex

(4) Zika virus

44. हाल ही में की गई घोषणा के अनुसार, देश भर के केंद्रीय विद्यालय अब 'संवेदनशील नागरिक कार्यक्रम' के अंतर्गत अपने बच्चों को निम्न में से किसके प्रति दयालु होने की शिक्षा प्रदान करेंगे ?

(1) जानवर

(2) मनुष्य

☒ (3) सरीसृप

(4) पक्षी

45. निम्नलिखित में से किसे विजडेंस इन्डियाज आल टाइम टेस्ट XI का कप्तान बनाया गया है ?

(1) एम एस धोनी

(2) ईशान्त शर्मा

☒ (3) कपिल देव

(4) विराट कोहली

46. 'फार्च्यून' द्वारा जारी सूची के अनुसार, भारत की _____ व्यवसाय की दुनिया में शीर्ष दस सर्वाधिक शक्तिशाली महिलाओं में से हैं।

(1) चन्दा कोछर

(2) शिखा शर्मा

(3) इन्दिरा नूई

☒ (4) अरुणधती भट्टाचार्य

44. According to a recent announcement Kendriya Vidyalayas across the country, under the recently launched 'Compassionate Citizen' programme, will now teach their children to be kind to :

(1) Animals

(2) Human beings

(3) Reptiles

(4) Birds

45. Who among the following has been named captain of Wisden's India's All Time Test XI ?

(1) M S Dhoni

(2) Ishant Sharma

(3) Kapil Dev

(4) Virat Kohli

46. According to a list released by fortune, India's _____ is among the top ten most powerful women in business.

(1) Chanda Kochhar

(2) Shikha Sharma

(3) Indira Nooyi

(4) Arundhati Bhattacharya

47. रियो ओलम्पिक (2016) में महिला फुटबाल का फाइनल मैच किसने जीता ?

- (1) इंग्लैंड
- (2) जर्मनी
- (3) यू.एस.ए
- (4) फ्रांस

48. हाल ही में हेग स्थित परमानेंट कोर्ट ऑफ आर्बिट्रेशन ने फैसला दिया कि :

- ✓ (1) दक्षिण चीन सागर के जल संसाधनों पर चीन का कोई ऐतिहासिक अधिकार नहीं है।
- (2) चीन और फिलीपीन्स ने अन्य देशों के सार्वभौम अधिकारों का हनन किया है।
- (3) चीन के संप्रभुता सम्पन्न भू-भाग को कभी परिभाषित नहीं किया गया है।
- (4) दक्षिण चीन सागर पर चीन के नियंत्रण का दावा सही है।

49. डूरंड कप फुटबाल टूर्नामेंट (2016) किसने जीता ?

- ✓ (1) आइजॉल फुटबाल क्लब
- (2) आर्मी ग्रीन
- (3) नेरोका फुटबाल क्लब
- (4) मोहन बागान कोलकाता

47. In Rio Olympics (2016) women's football final match was won by _____.

- (1) England
- (2) Germany
- (3) U.S.A.
- (4) France

48. Recently the Hague based Permanent Court of Arbitration ruled that :

- (1) China has no historic rights to resources of waters of the South China Sea.
- (2) China together with Philippines has violated the Sovereign rights of others.
- (3) China's sovereign territory has never been defined.
- (4) China has rightfully claimed its control over South China Sea.

49. Durand Cup Football tournament (2016) was won by :

- (1) Aizwal Football Club
- (2) Army Green
- (3) Neroca Football Club
- (4) Mohan Bagan Kolkata

50. हाल ही में आयोजित (2016) भारत - न्यूजीलैंड एक दिवसीय श्रृंखला में _____ को श्रृंखला का श्रेष्ठ खिलाड़ी घोषित किया गया।

- (1) रवीन्द्र जडेजा
- (2) विराट कोहली
- (3) अमित मिश्रा
- ✓(4) आर. अश्विन

51. पाराओलम्पिक (2016) खेलों में दीपा मलिक पदक जीतने वाली पहली भारतीय महिला रही हैं। उसने किस खेल में भाग लिया था ?

- ✓(1) शॉट पुट
- (2) निशानेबाजी
- (3) तैराकी
- (4) जेवलिन थ्रो

52. निम्नलिखित में से किसे एकलव्य पुरस्कार 2016 के लिये चुना गया है ?

- (1) पी वी सिन्धू
- (2) श्रावणी नन्दा
- (3) सुनील कांत
- ✓(4) दुली चन्द

50. _____ was declared Player of Series in recently held (2016) India-New Zealand ODI series.

- (1) Ravindra Jadeja
- (2) Virat Kohli
- (3) Amit Mishra
- (4) R.Ashwin

51. Deepa Malik was the first Indian woman to win a medal at Para Olympics (2016). Which event did she participate in ?

- (1) Shot Put
- (2) Shooting
- (3) Swimming
- (4) Javelin Throw

52. Who among the following has been selected for the award of Eklavya Puraskar 2016 ?

- (1) P V Sindhu
- (2) Shravani Nanda
- (3) Sunil Kant
- (4) Duli chand

53. एवरेस्ट पर्वत की चोटी पर पहली अंगोच्छेदित महिला के तौर पर पहुँचने के लिए वर्ष 2015 में निम्नलिखित में से किसे पद्मश्री पुरस्कार प्रदान किया गया ?

- (1) अश्विनी वास्कर
- (2) बचेन्द्री पाल
- (3) लक्ष्मी अग्रवाल
- ✓(4) अरुणिमा सिन्हा

54. वर्ष 2016 के रियो ओलम्पिक में टेबल टेनिस में स्वर्ण पदक प्राप्त करने वाले मा लोंग किस देश के हैं ?

- (1) जापान
- (2) चीन
- ✓(3) विएतनाम
- (4) दक्षिण कोरिया

55. डोनाल्ड ट्रंप द्वारा शपथ लिये जाने के बाद निम्नलिखित में से कौन यू एस ए की प्रथम महिला होगी ?

- ✓(1) मेलानी ट्रंप
- (2) मारिया ट्रंप
- (3) मेलानिजा ट्रंप
- (4) मेलानिया ट्रंप

53. Who among the following received Padma Shri in 2015 for being first amputee to reach the summit of Mt. Everest ?

- (1) Ashwini Waskar
- (2) Bachendri Pal
- (3) Laxmi Agarwal
- (4) Arunima Sinha

54. Which country does Ma Long, the gold medalist in Table Tennis at Rio Olympic 2016, belong to :

- (1) Japan
- (2) China
- (3) Vietnam
- (4) South Korea

55. Who would be the first lady of USA after the swearing in of Donald Trump ?

- (1) Melanie Trump
- (2) Maria Trump
- (3) Melanija Trump
- (4) Melania Trump

56. राज्य _____ के माध्यमिक तथा उच्चतर माध्यमिक शिक्षा बोर्ड ने पाट्य पुस्तक से मारिया शारापोवा संबंधी एक अध्याय को हटा दिया है।

(1) गुजरात

✓(2) गोवा

(3) तमिल नाडु

(4) राजस्थान

57. उच्चतम न्यायालय ने निम्नलिखित में से किसके कार्यों की जाँच के लिये न्यायमूर्ति लोढा पैनल का गठन किया था ?

✓(1) बी सी सी आई

(2) आई सी सी

(3) ए सी सी

(4) ए आई सी सी

58. निम्नलिखित में से किस एअरलाइन्स ने एक दशक के बाद ₹ 105 करोड़ का मुनाफा दिखाया है ?

(1) एअर इंडिया

(2) इन्डिगो

(3) वायुदूत

✓(4) इंडियन एअर लाइन्स

56. The State whose Board of Secondary and Higher Secondary Education has deleted a chapter on Maria Sharapova from a text book is _____.

(1) Gujarat

(2) Goa

(3) Tamil Nadu

(4) Rajasthan

57. The Supreme Court appointed Justice Lodha Panel to look into the functioning of :

(1) BCCI

(2) ICC

(3) ACC

(4) AICC

58. Which of the following Airlines has posted a profit of ₹ 105 crore after a decade ?

(1) Air India

(2) Indigo

(3) Vayudoot

(4) Indian Airlines

59. अठारह वर्ष से कम आयु वर्ग के लिये एशिया कप हॉकी 2016 का विजेता कौन है ?

- (1) पाकिस्तान
- (2) बांग्लादेश
- ☒ (3) भारत
- (4) श्रीलंका

60. भारतीय उपग्रह जी सैट-18 (G SAT - 18) किसके संबंध में है ?

- ☒ (1) दूर संचार
- (2) तारों को निहारना
- (3) प्रदूषण की निगरानी
- (4) मौसम की निगरानी

61. अक्षरों का कौन-सा समूह खाली स्थानों पर क्रमवार रखने से दी गई अक्षर श्रृंखला को पूरा करेगा ?

v l _ k l v _ l k k l _ v _ k k l v _

- ☒ (1) k v v l v
- (2) l k v k l
- (3) v l l k v
- (4) k l v k k

59. Who are the winners of under - 18 Asia Cup Hockey 2016 ?

- (1) Pakistan
- (2) Bangladesh
- (3) India
- (4) Sri Lanka

60. What is Indian satellite G SAT - 18 about ?

- (1) Telecommunication
- (2) Star-gazing
- (3) Pollution monitoring
- (4) Weather monitoring

61. Which one set of letters when sequentially placed at the gaps in the given letter series shall complete it ?

v l _ k l v _ l k k l _ v _ k k l v _

- (1) k v v l v
- (2) l k v k l
- (3) v l l k v
- (4) k l v k k

62. एक रुपये का एक सिक्का कागज पर रखा हुआ है। उसके साथ उसी आकार के कितने और सिक्के इस प्रकार रखे जा सकते हैं कि प्रत्येक सिक्का मध्य में रखे सिक्के को और साथ के दो अन्य सिक्कों को छूता रहे ?

- (1) 5
- (2) 6
- (3) 7
- (4) 4

63. यदि 1 से 61 तक सारे ऐसे अंक जो 4 से विभाजित हो जाते हैं, बढ़ते हुए क्रम में क्रमबद्ध किये जायें तो प्रारम्भ से 8 वें स्थान पर कौन-सा अंक होगा ?

- ✓(1) 32
- (2) 36
- (3) 40
- (4) 28

64. बसों की एक लाइन में बस नंबर 108, आगे से 8 वें स्थान पर और बस नंबर 201 पीछे से 14 वें स्थान पर हैं। उन दोनों बसों के बीच 9 बसें हैं। लाइन में कुल कितनी बसें हैं ?

- (1) 26
- (2) 29
- ✓(3) 31
- (4) 23

62. A one rupee coin is placed on a piece of paper. How many more coins of the same size may be placed such that each touches the central coin and two adjacent coins ?

- (1) 5
- (2) 6
- (3) 7
- (4) 4

63. If all the numbers from 1 to 61 which are divisible by 4, are arranged in ascending position, then which number will be at 8th position from the lowest ?

- (1) 32
- (2) 36
- (3) 40
- (4) 28

64. In a row of buses if bus Number 108 is 8th from the front. Bus Number 201 is the 14th from the rear end. There are nine buses between them. How many buses are there in the row ?

- (1) 26
- (2) 29
- (3) 31
- (4) 23

65. 'P', 'R' की इकलौती बेटी है। 'Q' की नानी 'R' है। 'Q' की बहन का नाम 'S' है। बताइए 'S', 'P' से किस तरह से संबंधित है?

(1) बहन

✓ (2) माँ

(3) मौसी

(4) बेटी

66. एक व्यक्ति साइकिल से उत्तर की ओर चला, उसके बाद बायें मुड़कर 3 कि.मी. चला, फिर बायें मुड़ा और 2 कि.मी. चला। अब उसने अपने आप को अपने प्रारम्भिक स्थान से ठीक 3 कि.मी. पश्चिम में पाया। वह प्रारम्भ में उत्तर की ओर कितना चला था?

✓ (1) 2 कि.मी.

(2) 3 कि.मी.

(3) 5 कि.मी.

(4) 1 कि.मी.

65. 'P' is the only daughter of 'R'. 'R' is a grandmother of 'Q'. The name of 'Q's sister is 'S', then what is the relation of 'S' to 'P'?

(1) Sister

(2) Mother

(3) Aunt

(4) Daughter

66. A person rode a bicycle in North ward direction then turned left and rode 3 km, and again turned left and rode 2 km. He found himself exactly 3 km West of the Starting point. How far did he ride North ward initially?

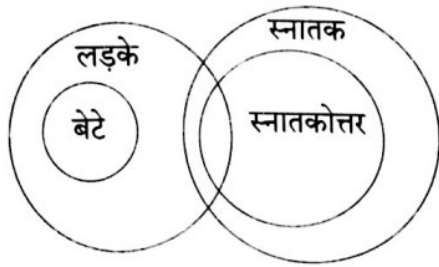
(1) 2 km

(2) 3 km

(3) 5 km

(4) 1 km

67. नीचे दिए गए चित्र पर आधारित कुछ निष्कर्ष दिए गए हैं। सही निष्कर्ष पहचानिए।



निष्कर्ष :

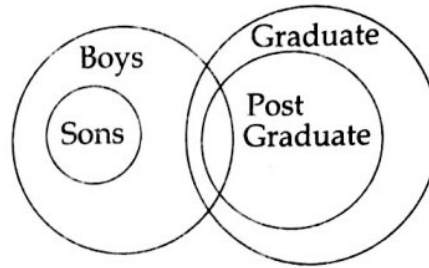
- (I) सभी लड़के बेटे हैं।
- (II) कुछ स्नातक स्नातकोत्तर हैं।
- (III) कुछ लड़के स्नातक हैं।
- (IV) कुछ स्नातकोत्तर लड़के हैं।

- (1) (II), (III) व (IV) सत्य हैं
- (2) (III) व (IV) सत्य हैं
- (3) (I) व (III) सत्य हैं
- (4) (I), (II) व (III) सत्य हैं

68. किसी साफ्टवेयर कम्पनी में 30% B.Tech तथा 25% MBA डिग्री धारक कर्मचारी हैं। 20% ऐसे हैं जिनके पास ये दोनों डिग्रियाँ हैं। अगर 325 कर्मचारी बिना किसी व्यवसायिक डिग्री के हों तो, कम्पनी में कुल कितने कर्मचारी हैं?

- (1) 425
- (2) 500
- (3) 625
- (4) 390

67. Based on the given figure, following conclusions are drawn. Identify the true Conclusion.



Conclusion :

- (I) All boys are sons.
- (II) Some graduates are post Graduates.
- (III) Some boys are graduates.
- (IV) Some post graduates are boys.

- (1) (II), (III) and (IV) are true
- (2) (III) and (IV) are true
- (3) (I) and (III) are true
- (4) (I), (II) and (III) are true

68. In a software development company, 30% workers are B.Tech degree holders, 25% are MBAs, and 20% hold both these degrees. If 325 workers are without any professional degree, how many workers are there in the company in all ?

- (1) 425
- (2) 500
- (3) 625
- (4) 390

अ,

$$\begin{aligned}
 & \cancel{75 \times 30 + 25 \times 20} \\
 & 75 \times (30 + 25 + 20) = 325 \\
 & 75 \times \frac{325 \times 100}{75} = 500
 \end{aligned}$$

69. निम्न में से कौन-सा संख्या-समूह अन्य तीन से भिन्न है ?

✓(1) {7, 31, 21, 37}

(2) {5, 13, 17, 29}

(3) {3, 7, 11, 23}

(4) {11, 31, 13, 43}

70. यदि + का अर्थ \times , \div का अर्थ +, - का अर्थ \div तथा \times का अर्थ - हो तो $56 - 8 \times 5 \div 4 + 7$ का मान होगा :

(1) 27

✓(2) 30

(3) 32

(4) 25

71. निम्न श्रेणी का अगला पद होगा :

15, 10, 45, 20, 135, 30 _____.

(1) 205

(2) 305

✓(3) 405

(4) 40

69. Which of the following number sets is different from other three ?

(1) {7, 31, 21, 37}

(2) {5, 13, 17, 29}

(3) {3, 7, 11, 23}

(4) {11, 31, 13, 43}

70. If + means \times , \div means +, - means \div and \times means -. Find the value of $56 - 8 \times 5 \div 4 + 7$:

(1) 27

(2) 30

(3) 32

(4) 25

71. Write the next term in the following series :

15, 10, 45, 20, 135, 30 _____.

(1) 205

(2) 305

(3) 405

(4) 40

72. दिए गए विकल्पों में से उस शब्द को चुनिए जिसे दिए गए शब्द के अक्षरों के प्रयोग द्वारा बनाया जा सकता है।

INTELLIGENCE

- ✓(1) ENGINE
(2) ENTRANCE
(3) TEENAGE
(4) CANCEL

73. एक व्यक्ति 3 कि.मी. उत्तर दिशा में चलकर पश्चिम की ओर मुड़ जाता है और फिर 2 कि.मी. चलता है। तत्पश्चात वह उत्तर की ओर मुड़कर 1 कि.मी. चलता है और फिर पूर्व की तरफ 5 कि.मी. चलता है। अब वह अपने आरम्भिक स्थान से कितनी दूर है?

- (1) 10 कि.मी.
(2) 8 कि.मी.
✓(3) 5 कि.मी.
(4) 11 कि.मी.

74. एक सांकेतिक भाषा में शब्द RESPONSE को लिखा जाता है ESNOPSER, तो शब्द SYMBOLIC को लिखा जायेगा :

- (1) CILYMBOS
(2) BOSLYCIS
✓(3) CILOBMYS
(4) LYMBOCIS

72. From the given alternatives select the word which can be formed by using the letters of the given word.

INTELLIGENCE

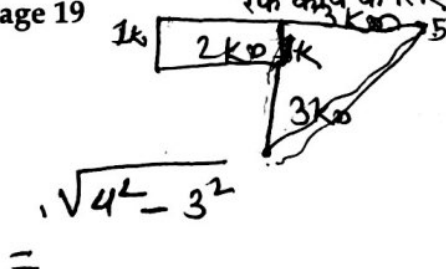
- (1) ENGINE
(2) ENTRANCE
(3) TEENAGE
(4) CANCEL

73. A man moves 3 km North, then turns West and moves 2 km, again he turns North and walks 1 km, and 5 km towards East. How far is he now from his original place ?

- (1) 10 km
(2) 8 km
(3) 5 km
(4) 11 km

74. In certain Code Language, the word RESPONSE is coded as ESNOPSER. Then the word SYMBOLIC will be coded as :

- (1) CILYMBOS
(2) BOSLYCIS
(3) CILOBMYS
(4) LYMBOCIS



RESPONSE
ESNOPSER
SYMBOLIC
CILOBMYS

75. निम्न श्रेणी का अगला पद लिखिए।

15, 29, 56, 108, 205, 400 _____

- (1) 758
 ✓(2) 768
 (3) 770
 (4) 756

76. वातानुकूलन, रेडियो और पावर विण्डो के चुनाव के लिए 50 कारों का सर्वेक्षण किया गया। निम्न सूचनायें प्राप्त हुई।

- (a) 30 कारें वातानुकूलित
 (b) 4 कारें वातानुकूलित तथा पावर विण्डो किन्तु रेडियो नहीं
 (c) 21 कारें रेडियो के साथ
 (d) 12 कारें रेडियो तथा वातानुकूलन के साथ किन्तु पावर विण्डो नहीं
 (e) 20 कारें पावर विण्डो के साथ
 (f) एक कार रेडियो तथा पावर विण्डो के साथ
 (g) 6 कारें सारी सुविधाओं के साथ

प्रश्न :

कितनी कारों में कोई सुविधा नहीं थी ?

- (1) 6
 (2) 8
 ✓(3) 10
 (4) 4

$$6 + 4 + 21$$

$$24 + 6$$

75. Write the next term of the following number series.

15, 29, 56, 108, 205, 400 _____

- (1) 758
 (2) 768
 (3) 770
 (4) 756

76. A survey of 50 cars was conducted for options of air conditioning, radio and power windows. The following information was found :

- (a) 30 cars with air conditioning
 (b) 4 cars with air conditioning and power windows but no radio
 (c) 21 cars with radio
 (d) 12 cars with radio and air conditioning but no power window
 (e) 20 cars with power window
 (f) 1 car with radio and power windows
 (g) 6 cars with all the three options

Question :

What is the number of cars that had none of the options ?

- (1) 6
 (2) 8
 (3) 10
 (4) 4

77. एक मनुष्य अपनी पत्नी से 4 वर्ष बड़ा है। पत्नी की आयु अपनी बेटी की आयु का तीन गुना है। बेटी की वर्तमान आयु 10 वर्ष है। अपनी बेटी के जन्म के समय पर मनुष्य की क्या आयु थी ?

(1) 27 वर्ष

~~(2)~~ 24 वर्ष

(3) 26 वर्ष

(4) 21 वर्ष

78. यदि + का अर्थ \times , - का अर्थ \div , \times का अर्थ - तथा \div का अर्थ + हो, तो $16 \times 4 + 12 - 4 \div 18$ का मान होगा :

(1) 20

~~(2)~~ 22

(3) 24

(4) 18

79. निम्न में से तीन का किसी गुण के आधार पर एक समूह बनता है। वह एक कौन-सा है जो समूह का सदस्य नहीं ?

(1) ताँबा

(2) चाँदी

(3) एल्यूमीनियम

~~(4)~~ ब्रास

77. A man is 4 years older than his wife. The wife is three times as old as their daughter. The present age of daughter is 10 years. How old was the man when his daughter was born ?

(1) 27 years

(2) 24 years

(3) 26 years

(4) 21 years

78. If + means \times , - means \div , \times means - and \div means +, then find the value of $16 \times 4 + 12 - 4 \div 18$:

(1) 20

(2) 22

(3) 24

(4) 18

79. Three of the following form a group based on an attribute. Find the one which has different attribute.

(1) Copper

(2) Silver

(3) Aluminium

(4) Brass

$$\begin{array}{r} 400 \\ 205 \\ \hline 195 \end{array}$$

$$\begin{array}{r} 30 \\ 390 \\ 15 \\ \hline 405 \end{array} \quad \begin{array}{r} 347 \\ 195 \\ \hline 542 \end{array}$$

$$\begin{aligned} 16 - 4 \times 12 \div 4 + 18 \\ = 16 - 12 + 18 \\ 22 \end{aligned}$$

80. दिए गए विकल्पों में से सम्बन्धित अक्षर समूह चुनिए।

ADGJ:?:MPSV:NKHE

(1) ZWTQ

(2) ZWQT

(3) SUVY

✓(4) ZXTS

81. आग्रह (A) :

सामाजिक संरचनावादी उपागम, अधिगम होते समय विचार प्रक्रिया पर लक्ष्य करके अधिगम सिद्धान्त में योगदान करता है।

तर्क (R) :

ऐसा माना जाता है कि शिक्षार्थी स्वयं, अधिगम की संरचना करते हैं और अधिगम को संरचना की सक्रिय प्रक्रिया और ज्ञानार्जन के रूप में देखा जाता है।

उपरोक्त कथनों के संदर्भ में एक सही उपक्रम चुनिए :

✓(1) (A) सही है किन्तु (R) गलत है

(2) दोनों (A) और (R) सही हैं और (R), (A) की व्याख्या है

(3) (A) सत्य है किन्तु (R) का सत्य होना आवश्यक नहीं है

(4) दोनों (A) और (R) सही हैं किन्तु (R), (A) की व्याख्या नहीं है

80. Select the related letter-group from the given alternatives.

ADGJ:?:MPSV:NKHE

(1) ZWTQ

(2) ZWQT

(3) SUVY

(4) ZXTS

81. Assertion (A) :

Social constructivist approach contributes to learning theory by focussing on thinking processes when learning takes place.

Reason (R) :

Knowledge is assumed to be constructed by learners themselves and learning is seen as an active process of construction and knowledge accumulation.

In the context of above statements, select the correct one :

(1) (A) is true but (R) is false

(2) Both (A) and (R) are true and (R) is the explanation of (A)

(3) (A) is true but (R) is not necessarily be true

(4) Both (A) and (R) are true but (R) is not an explanation of (A)

ADGJ
NKHE
1 4 1 12
2 10 14 11 8 5

82. कक्षा में एक अप्रिय घटना हो गई। अध्यापक को इसका हल निकालना चाहिए :

- (1) केवल कक्षा में ही मसले पर चर्चा द्वारा
- (2) प्रधानाचार्य से मसले पर चर्चा द्वारा
- (3) अपने सहकर्मियों से मसले पर चर्चा द्वारा
- (4) मसले को अपने परिवार में चर्चा द्वारा

83. डेनियल गोलमैन के सांवेगिक बुद्धि के सिद्धान्त के अनुसार शिक्षकों को सांवेगिक मस्तिष्क पर ध्यान देना चाहिए जो व्यक्तिगत बुद्धि को नियंत्रित करता है। उसके द्वारा दिए गए सांवेगिक बुद्धि के क्षेत्रों के क्रम को पहचानिए :

- (1) आत्म नियमन, अभिप्रेरणा, सहानुभूति, आत्म सम्मान और सामाजिक कौशल
- (2) आत्म संप्रत्यय, आत्म सम्मान, आत्म नियमन, अभिप्रेरणा और परानुभूति
- (3) सामाजिक कौशल, आत्म जागरूकता, आत्म सम्मान, परानुभूति और अभिप्रेरणा
- (4) आत्म जागरूकता, अभिप्रेरणा, आत्म नियमन, परानुभूति और सामाजिक कौशल

82. An unhappy incident happened in a class. The teacher should find the solution by :

- (1) Discussing the matter in the class only
- (2) Discussing the matter with the Principal
- (3) Discussing the matter with his/her colleagues
- (4) Discussing the matter with his/her family

83. Daniel Goleman's theory of emotional intelligence suggests that educators need to consider the emotional brain, which controls personal intelligence. From the following, identify which combination of dimensions of emotional intelligence he claimed ?

- (1) Self regulation, motivation, sympathy, self respect and social skill
- (2) Self concept, self respect, self regulation, motivation and empathy
- (3) Social skill, self awareness, self respect, empathy and motivation
- (4) Self awareness, motivation, self regulation, empathy and social skill

84. निम्नांकित में से कौन-सा श्रेष्ठ शिक्षण का महत्वपूर्ण संकेतक है ?

- (1) परीक्षा उत्तीर्ण करने वाले शिक्षार्थियों की संख्या
- (2) कक्षा में पूर्ण शान्ति
- (3) कक्षा में शिक्षार्थियों की उपस्थिति
- (4) शिक्षार्थियों द्वारा पूछे गए सार्थक प्रश्न

85. निम्नांकित में से कौन-सा सिद्धान्त दृश्य-श्रव्य सामग्री के प्रयोग पर लागू नहीं होता ?

- (1) उद्देश्यों की प्रतिपूर्ति का सिद्धान्त
- (2) चयन का सिद्धान्त
- (3) प्रभावशालिता का सिद्धान्त
- (4) उपादेयता का सिद्धान्त

86. राष्ट्रीय अध्यापक शिक्षा परिषद के द्वारा निर्मित शिक्षकों के व्यावसायिक नैतिकता नियमावली में निम्नांकित में से कौन-सा, शिक्षार्थियों के प्रति दायित्व में सम्मिलित नहीं है ?

- (1) अपनी शिक्षण विधि को शिक्षार्थियों की आवश्यकताओं के अनुरूप ढाल लेता है
- (2) शिक्षार्थियों से संबंधित गोपनीय बातें उनके हित में माता-पिता को सूचित करता है
- (3) विद्यालयी जीवन के सभी पक्षों में बच्चों की मानवीय प्रतिष्ठा का सम्मान करता है
- (4) सभी शिक्षार्थियों को प्रेम और स्नेह से व्यवहार करता है

84. Which of the following is an important indicator of best teaching ?

- (1) Number of students passing the examination
- (2) Complete silence in the classroom
- (3) Attendance of students in the classroom
- (4) Meaningful questions asked by students

85. Which of the following principles is not applicable to the use of audio visual aids ?

- (1) Principle of fulfilment of objectives
- (2) Principle of selection
- (3) Principle of effectiveness
- (4) Principle of utility

86. As per the code of professional ethics for teachers, framed by NCTE. Which of the following is not included under the obligations towards students ?

- (1) Adapts his/her teaching to the individual needs of students
- (2) Informs parents the confidential matters related to students for their benefit
- (3) Respects human dignity of the child in all aspects of school life.
- (4) Treats all students with love and affection

87. निम्नांकित में से कौन-सी ई-अधिगम की सामान्य विशिष्टता है ?

- (1) सदैव कक्षा में व्यक्तिगत उपस्थिति चाहिए
- (2) अति उच्च कीमत और समय वांछित है
- (3) दस्तावेजों को बाद में पढ़ने के लिए नहीं उतारा जा सकता है
- (4) अधिगम आत्म गति अनुरूप है

88. जिस पाठ्यचर्या में एक पाठ के ज्ञान को अगले पाठ के ज्ञान से पूरे अध्ययन कार्यक्रम में संबद्ध किया जाता है, उसे कहते हैं _____।

- (1) उर्ध्वाधर पाठ्यचर्या
- (2) प्राकरणिक पाठ्यचर्या
- (3) कुण्डलित पाठ्यचर्या
- (4) क्षैतिज पाठ्यचर्या

89. एक समय एक राज्य में, एक बी.ए. के छात्र को तीन वर्षों के अन्त में परीक्षा में बैठना पड़ता था। इससे पूर्व कोई भी परीक्षा या परीक्षण नहीं होता था। यह उदाहरण है :

- (1) योगात्मक मूल्यांकन का
- ✓(2) निकष आधारित मूल्यांकन का
- (3) वार्षिक मूल्यांकन का
- (4) विकासात्मक मूल्यांकन का

87. Which among the following is a common feature of E-learning ?

- (1) Always require physical presence in the class
- (2) Time and cost are very high
- (3) Documents cannot be downloaded for later reading
- ✓(4) Learning in self-paced

88. In a curriculum, if there is linking knowledge from one lesson to the next across a programme of study, it is :

- (1) Vertical curriculum
- (2) Topical curriculum
- ✓(3) Spiral curriculum
- (4) Horizontal curriculum

89. At one time in a state a B.A. Student had to appear in the examination at the end of three years only. There was no examination or any test before that. This is an example of :

- (1) Summative Evaluation
- (2) Criterion Evaluation
- (3) Annual Evaluation
- (4) Formative Evaluation

90. वर्तमान परिस्थितियों में अध्यापक की कौन-सी भूमिका अत्यन्त वांछनीय है ?

(1) अधिगम को सुलभ बनाने वाला अध्यापक

☒ (2) एक श्रेष्ठ अध्यापक और शिक्षण अधिगम प्रक्रिया के प्रबंधक के रूप में शिक्षक

☒ (3) एक शानदार अभिप्रेरक के रूप में अध्यापक

(4) कक्षा में एक श्रेष्ठ अध्यापक के रूप में

91. “ _____ एक शिक्षण विधि है जो नए विचारों की खोज करके त्वरित उत्तरों की प्राप्ति में सहायक होती है। विचारों पर निर्णय न करते हुए अधिकाधिक विचारों के विकास पर जोर दिया जाता है; सभी विचारों को समान महत्व दिया जाता है।” इनमें से सही को चुनिए।

(1) भूमिका-अभिनय

☒ (2) परिचर्चा विधि

(3) विचारावेश

(4) गुंजन-सत्र

90. Which role of a teacher is crucial in present day context ?

(1) Teacher as a facilitator of learning

(2) Teacher as a good teacher and a manager of teaching learning process

(3) Teacher as a strong motivator

(4) Teacher as a good class room teacher

91. “ _____ is a teaching method helpful to discover new ideas and responses very quickly. The focus is on generating as many ideas as possible without judging them ; All ideas are given equal credence”. Select the correct one.

(1) Role play

(2) Discussion method

(3) Brainstorming

(4) Buzz session

92. कक्षा के फर्नीचर को व्यवस्थित करने का सबसे अधिक सराहनीय तरीका है ?

(1) इसकी व्यवस्था हर दिन या साप्ताहिक आधार पर बदलनी चाहिए।

(2) शिक्षण और अधिगम से कक्षा फर्नीचर का कोई लेना देना नहीं है। इसलिए एक शिक्षक को इसकी परवाह नहीं करनी चाहिए।

* (3) इसकी व्यवस्था समय-समय पर आवश्यकतानुसार बदलनी चाहिए।

✓ (4) एक बार तय होने के बाद उसे छेड़ना नहीं चाहिए।

93. निम्नांकित में से किस पक्ष में अध्यापक निर्मित और प्रमापीकृत परीक्षणों में अन्तर होता है ?

(1) परीक्षणों की विश्वसनीयता और वैधता

(2) परीक्षणों में समाहित विषयवस्तु

✓ (3) परीक्षणों के अंकन की विधि

(4) परीक्षणों को पूरा करने का समय

92. What is the most advisable way of organising the class room furniture ?

(1) Its arrangement should change on daily or weekly basis

(2) Classroom furniture has no relevance to teaching and learning. So a teacher should not worry about this

(3) Its arrangement should change from time to time as per the requirement

(4) Once, it has been fixed, it should not be disturbed

93. In which of the following aspects, standardized achievement tests and teacher made tests differ ?

(1) Reliability and Validity of the tests

(2) Content covered by the tests

(3) Process of scoring of the tests

(4) Time for completion of the tests

94. परीक्षण के प्रश्नों के निर्माण के समय कौन-सी प्रकार के प्रश्न निर्माण में कठिन और अंकन में सरल माने जाते हैं?

☒ (1) वैकल्पिक उत्तर वाले प्रश्न

(2) लघूत्तरीय प्रश्न

(3) बहु विकल्पीय प्रश्न

(4) निबन्धात्मक प्रश्न

95. स्कूली स्तर पर एक अध्यापक की वेशभूषा कैसी होनी चाहिए?

(1) आधुनिक और अद्यतन

(2) जिस समाज से छात्र आते हैं, उस समाज की सामान्य वेशभूषा

☒ (3) सभी शिक्षकों हेतु एक सी होनी चाहिए

☒ (4) जितना संभव हो उतना सादा

96. पाठ्यचर्या और पाठ्यक्रम में क्या अंतर है?

(1) पाठ्यविवरण पाठ्यचर्या का भाग है

☒ (2) पाठ्यचर्या में पाठ्यपुस्तकें तथा पाठ्यविवरण शामिल हैं

(3) पाठ्यचर्या और पाठ्यविवरण एक समान हैं

(4) पाठ्यचर्या पाठ्यविवरण का भाग है

94. While preparing test items, which of the following types of questions are considered as easy to score, but difficult to construct?

(1) Alternative response type

(2) Short answer type

(3) Multiple choice type

(4) Essay type

95. At school level what should be the dress of a teacher?

(1) Modern and upto date

(2) Just like normal dress of that society to which the students belong

(3) It should be same for all teachers

(4) As simple as possible

96. What is the difference between curriculum and syllabus?

(1) Syllabus is part of curriculum

(2) Curriculum includes text books and syllabus

(3) Curriculum and syllabus are same

(4) Curriculum is part of syllabus

97. निम्न में से कौन माध्यमिक स्कूली शिक्षकों के प्रशिक्षण से संबंधित राष्ट्रीय एजेंसी है ?

- (1) एन.सी.टी.ई.
- ✓(2) एन.सी.ई.आर.टी.
- (3) आई.एन.एस.ए.
- (4) एन.यू.ई.पी.ए.

98. भावात्मक क्षेत्र के उद्देश्यों का सही क्रम सबसे कम से सर्वाधिक जटिलता के अनुसार है :

- (1) प्रतिक्रिया करना, ग्रहण करना, मूल्यांकित करना, संगठित करना और चरित्रण
- (2) ग्रहण करना, प्रतिक्रिया करना, मूल्यांकित करना, संगठित करना और चरित्रण
- (3) प्रतिक्रिया करना, मूल्यांकित करना, संगठित करना, ग्रहण करना और चरित्रण
- ✓(4) ग्रहण करना, प्रतिक्रिया करना, संगठित करना, मूल्यांकित करना तथा चरित्रण

97. Which of the following is a national agency related to training of secondary school teachers ?

- (1) NCTE
- (2) NCERT
- (3) INSA
- (4) NUEPA

98. The correct arrangement of objectives under affective domain, from least to most complex is :

- (1) responding, receiving, valuing, organization and characterization
- (2) receiving, responding, valuing, organization and characterization
- (3) responding, valuing, organization, receiving and characterization
- (4) receiving, responding, organization, valuing and characterization

99. जीव विज्ञान के शिक्षण का सह संबंध किससे है ?

- (a) अर्थशास्त्र
- (b) हिन्दी
- (c) इतिहास
- (d) कम्प्यूटर विज्ञान
- (e) भौतिकी
- (1) (a), (b), (c), (d) और (e)
- (2) (a), (b), (c) और (d)
- (3) (a), (b), (c) और (e)
- (4) केवल (e)

100. चने के पौधे के बारे में पढ़ाने हेतु किस शिक्षण-व्यूहरचना को वरीयता दी जानी चाहिए ?

- (1) अक्टूबर के महीने में क्षेत्र-भ्रमण
- (2) एक चने के पौधे के जीवन पर फिल्म
- (3) चार्ट और मॉडलों का उपयोग
- (4) प्रदर्शन विधि

- o o o -

99. The teaching of biology has correlation with :

- (a) Economics
- (b) Hindi
- (c) History
- (d) Computer Science
- (e) Physics
- (1) (a), (b), (c), (d) and (e)
- (2) (a), (b), (c) and (d)
- (3) (a), (b), (c) and (e)
- (4) Only (e)

100. Which teaching strategy should be preferred for teaching about gram plant ?

- (1) Field visit in the month of October
- (2) Film on the life of a gram plant
- (3) Use of charts and models
- (4) Demonstration method

- o o o -